

قسم الرياضيات

« أن يكون حُلمك صعباً لا يعني أنه يستحيل تحقيقه
بل يعني مزيداً من الجهد إن أردت حقاً تحقيقه »



2022
Ghasham23
Ghasham22
Ghasham_22

جميع الحقوق محفوظة لقناة أ. غشام

وسيتم حل جميع الاسئلة على قناة التجميعات والاختبار المقنن

للاضمام لقنوات أ. غشام اضغط على أيقونة القناة التي تريد أن تنضم اليها



س١: أوجد الحد الرابع في المفكوك $(2x - 1)^4$:

أ	$8x$	ج	$36x$
ب	$-8x$	د	$-32x$
الحل			$T_{r+1} = ncr (2x)^{n-r} (-1)^r; \quad n = 4$ $r = 3$ $T_4 = 4c3 (2x)^1 (-1)^3 = \frac{4(3)(2)}{3(2)(1)} (2x)(-1) = -8x$

س٢: أحسب معادلة المستقيم المعامد لـ $y = 5x + 3$ عند النقطة $(0, 3)$

أ	$y = -5x + 3$	ب	$y = -\frac{1}{5}x + 3$
ج	$y = \frac{1}{5}x + 3$	د	$y = -5x + \frac{1}{3}$
الحل			(ب)

س٣: مثلث قياسات زواياه $50^\circ, 50^\circ, 80^\circ$ ، ما نوع هذا المثلث ؟

أ	قائم الزاوية	ب	منفرج الزاوية	ج	متطابق الأضلاع	د	متطابق الضلعين
الحل							(د) تطابق زاويتين \Rightarrow تطابق ضلعين

س٤: إذا كان عدد زوار مهرجان الرياض الربيعي لعام ١٤٣٣ في اليوم الأول 40 ألف زائر , وأخذ العدد يتزايد بمقدار ثابت (d) كل يوم عن السابق له وكانت مدة المهرجان 10 يوماً , وفي نهاية المدة أصبح مجموع الزائرين 490000 ألف زائر ، فكم عدد زوار المهرجان في اليوم السابع فقط ؟

أ	56000	ب	54000	ج	52000	د	50000
الحل							$s_n = \frac{n}{2}(2a_1 + (n - 1)d)$ $\rightarrow 98000 = 80000 + 9d \Rightarrow d = \frac{10}{2}(80000 + 9d)$ $\rightarrow a_7 = 40000 + 6(2000) = 52000$ $a_7 = a_1 + 6d$ $a_7 - a_1 = 6d$ <p>حل آخر: نعلم أن $a_7 = a_1 + 6d$ ومنها يكون $a_7 - 40000 = 6d$ أي أن $a_7 - 40000 = 6d$ يكون عدد يقبل القسمة على 6 وبالتجريب من الخيارات عن a_7 يكون الحل هو 52000</p>

س٥: إذا كان قياس زاويتي مثلث 40° ، 110° فأبي القياسات التالية لايمكن أن يكون لزاوية خارجية للمثلث.....

70°

د

140°

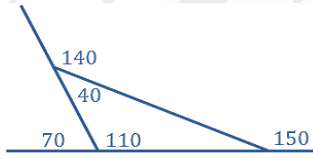
ج

150°

ب

160°

أ



(أ)

الزاوية الخارجية 140 تكمل 40 ، 70 تكمل 110 ،

$$150 = 110 + 40 \text{ زاوية خارجية}$$

الحل

س٦: كم عدد أضلاع المضلع المنتظم الذي قياس زاويته الداخلية 135° ؟

8

د

7

ج

5

ب

6

أ

$$8 = \frac{360}{45} = \frac{360}{180-135} = \frac{360}{\text{الداخلية} - 180} = \text{عدد الأضلاع} \quad (\text{د})$$

الحل

س٧: إذا كان طول ظل منارة مسجد 15m ، ارتفاع السور 2.5m وطول ظل السور 1.5m ، فكم يبلغ ارتفاع المنارة ؟

40

د

25

ج

10

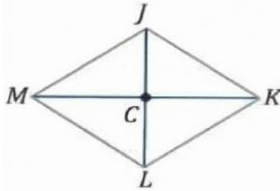
ب

9

أ

$$\frac{\text{ارتفاع المنارة}}{\text{ظلها}} = \frac{x}{15} = \frac{\text{ارتفاع السور}}{\text{ظلها}} = \frac{2.5}{1.5} \Rightarrow x = 25 \quad (\text{ج})$$

الحل



س٨: في المعين $JKLM$ إذا كان $MK = 24$ ، $JL = 10$ أوجد JK

13

ج

24

أ

9

د

10

ب

(ج)

في المعين القطران ينصف كلًا منهما الآخر ومتعامدان
من ثلاثيات فيثاغورس $\Rightarrow JK = 13$

الحل

5 ، 12 ، 13

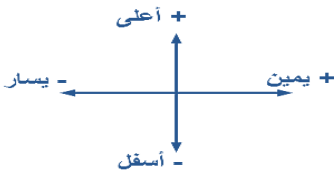
س٩: ما صورة النقاط (1, 5) بالانعكاس حول محور x ؟					
أ	(1, -5)	ب	(-1, -5)	ج	(5, 1)
د	(-1, 5)				
الحل	(أ) الانعكاس على محور x يغير اشارة الاحداثي y				

س١٠: إذا كانت صورة النقاط $A(3, 5)$ هي $A'(5, 3)$ فإن الانعكاس المستخدم يكون حول.....					
أ	الأصل	ب	المحور x	ج	المحور y
د	المستقيم $y = x$				
الحل	(د) الانعكاس حول المستقيم $y = x$ يبدل الاحداثيات				

س١١: ما قيمة جذر (-36) ؟			
أ	-6	ج	16
ب	$6i$	د	32
الحل	(ب) $\sqrt{-36} = \sqrt{36}\sqrt{-1} = 6i$		

س١٢: ما صورة النقطة $(2, -3)$ تحت تأثير الازاحة $(x - 3, y + 4)$ ؟					
أ	(-1, 1)	ب	(-6, 6)	ج	(5, -7)
د	(1, 1)				
الحل	(أ) $(2, -3) \rightarrow (2 - 3, -3 + 4) = (-1, 1)$				

س١٣: ما الإزاحة التي نقلت النقطة $(-1, 5)$ إلى $(5, -3)$ ؟					
أ	6 وحدات إلى اليمين ، 8 وحدات إلى الأسفل	ب	8 وحدات إلى الأعلى ، 6 وحدات إلى اليمين	ج	6 وحدات إلى اليمين ، 8 وحدات إلى الأعلى
د	8 وحدات إلى الأسفل ، 6 وحدات إلى اليسار				
الحل	(أ) $(-1 + 6, 5 - 8) = (5, -3)$				



س١٤: إذا كانت نسبة هطول الامطار 75% فكم نسبة عدم هطوله ؟			
أ	0.25%	ج	15%
ب	25%	د	75%
الحل	(ب) $P(A) = 75\%$ $P(A') = 100\% - 75\% = 25\%$		

س١٥: ما عدد الأصفار التخيلية $x^2 + 8 = 0$ ؟							
أ	1	ب	2	ج	3	د	4
الحل	(ب) $x^2 = -8 \Rightarrow x = \pm 2\sqrt{2}i$						

س١٦: مقدار التماثل الدوراني لمضلع ثماني منتظم حول مركزه يساوي.....							
أ	45°	ب	80°	ج	120°	د	125°
الحل	(أ) $\frac{360}{n} = \frac{360}{8} = 45^\circ$ مقدار التماثل الدوراني						

س١٧: أي مما يلي ليس من تحويلات التطابق؟							
أ	التمدد	ب	الإزاحة	ج	الدوران	د	الانعكاس
الحل	(أ) التمدد ليس من تحويلات التطابق أي لا يحافظ على الابعاد						

س١٨: ما المعاكس الإيجابي للعبارة (إذا كان تاجر فإنه غني) ؟						
أ	إذا كان غني فإنه تاجر	ج	إذا لم يكن غني فإنه ليس تاجر			
ب	إذا لم يكن تاجر فإنه ليس غني	د	إذا كان تاجر فإنه غني			
الحل	(ج) العبارة الشرطية $P \rightarrow q$ المعاكس الإيجابي $\sim q \rightarrow \sim p$ تبديل ونفي					



قدرات
Ghasham23



تحميمي
Ghasham22



قدرات وتحميمي
Ghasham_22

س١٩: إذا كانت $f(x) = 2x^2 - 5$ فإن $f(3) - f(2)$ تساوي....

أ	10	ب	9	ج	7	د	11
(أ)							الحل
بالتعويض $f(3) - f(2) = [2(9) - 5] - [2(4) - 5] = 13 - 3 = 10$							

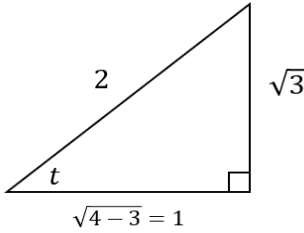
س٢٠: إذا كانت $f(x) = 4x^2 - 8$ فإن $f(x - 1)$ تساوي.....

أ	$4x^2 - 8x - 4$	ب	$4x^2 - 2x - 9$
ج	$4x^2 - 8x - 12$	د	$4x^2 - 9$
(أ)			الحل
تعويض $f(x - 1) = 4(x - 1)^2 - 8 = 4(x^2 - 2x + 1) - 8 = 4x^2 - 8x - 4$			

س٢١: ما هي إزاحة الدالة $f(x) = \frac{1}{x+4}$ ؟

أ	4 وحدات لليسار	ج	4 وحدات لليمين
ب	وحدتان للأعلى	د	وحدتان للأسفل
(أ)			الحل
$x + 4 = 0 \quad x = -4$ السالب يسار ، 4 وحدات يسار			

س٢٢: $\sin t = \frac{\sqrt{3}}{2}$ ، فما قيمة $\sec t$ (علما بأن $\frac{\pi}{2} < t < \pi$) ؟

أ	-2	ب	2	ج	$-\frac{\sqrt{3}}{2}$	د	$-2\sqrt{3}$
(أ)							الحل
							
$\sin t = \frac{\sqrt{3}}{2}$ $\cos t = \frac{-1}{2}$ $\sec t = -2$							

س٢٣: مدى الدالة $f(x) = |x - 2| + 3$ هو.....

أ	$(0, \infty)$	ب	$[3, \infty)$	ج	$(2, \infty)$	د	$(1, \infty)$
الحل							(ب) $[3, \infty) =$ المدى \Rightarrow الرأس $(2, 3)$

س٢٤: أوجد قيمة $(1 - i)^8$

أ	16	ب	-16	ج	-16i	د	16i
الحل							(أ) $[(1 - i)^2]^4 = [1 - 2i + i^2]^4 = [1 - 2i - 1]^4 = (-2i)^4 = 16$

س٢٥: ما قيمة $\sqrt{2^2}$ ؟

أ	4	ب	3	ج	2	د	1
الحل							(ج) $\sqrt{2^2} = 2$

س٢٦: المقدار $\frac{2a^2b^2}{6ba^5}$ يساوي.....

أ	$3a^7b^4$	ب	$\frac{b}{3a^3}$	ج	$4\frac{b^5}{a^6}$	د	$3a^7b^2$
الحل							(ب) عند القسمة نطرح الأسس

س٢٧: ناتج قسمة $(x^4 + 2x^3 - 2x^2 - 3x + 2) \div (x + 2)$ يساوي.....

أ	$x^2 - 2x + 1$	ب	$3 - 2x^2 + 1$	ج	$3 - 2x + 1x$	د	$x^3 - 2x + 1$
الحل							(د) $x^3 - 2x + 1 \Rightarrow$ الناتج

$$\begin{array}{r|rrrrr} -2 & 1 & +2 & -2 & -3 & +2 \\ & & -2 & 0 & 4 & -2 \\ \hline & 1 & 0 & -2 & 1 & 0 \end{array}$$

س٢٨: صورة النقطة (3, 5) بالدوران بزواية 90° عكس عقارب الساعة ؟

أ	(-5, 3)	ج	(-5, -3)
ب	(5, -3)	د	(-3, -5)
<p>(أ) الحل</p> <p>$(x, y) \xrightarrow{\text{دوران } 90^\circ \text{ حول نقطة الأصل}} (-5, 3)$</p> <p>بدل x بـ y ثم غير إشارة y</p>			

س٢٩: إذا كانت $f(x) = x^2 + 1$ وكانت $g(x) = x - 3$ ، فما قيمة x التي تجعل $[f \circ g](x) = [g \circ f](x)$ ؟

أ	1	ب	2	ج	3	د	0
<p>(ب) الحل</p> <p>$f(2) = 5, g(2) = -1 \Rightarrow fog(2) = (-1)^2 + 1 = 2$</p> <p>$\Rightarrow gof(2) = 5 - 3 = 2$</p>							

س٣٠: أي مما يلي يمثل مجال الدالة $f(x) = \sqrt{2x - 6}$ ؟

أ	$[6, \infty)$	ب	$[3, \infty)$	ج	$[0, \infty)$	د	$(-\infty, \infty)$
<p>(ب) الحل</p> <p>$2x - 6 \geq 0 \Rightarrow x \geq 3 \Rightarrow$ المجال $[3, \infty)$</p>							

س٣١: $\sum_{k=1}^{10} (2k + 1)$ تساوي :

أ	180	ج	90
ب	120	د	10
<p>(ب) الحل</p> <p>$k = 1 \Rightarrow a_1 = 2(1) + 1 = 3$</p> <p>$k = 10 \Rightarrow a_n = 2(10) + 1 = 21$</p> <p>$n = 10 - 1 + 1 = 10$</p> <p>$S_n = \frac{n}{2}(a_1 + a_n) \rightarrow S_{10} = \frac{10}{2}(3 + 21) = 120$</p>			

س٣٢: LCM للمقدارين $20x^3y^5$ و $4x^2y^6$ هو.....

أ	$20x^3y^6$	ب	$20x^2y^5$	ج	$20x^2y^6$	د	$20x^5y^{11}$
<p>(أ) الحل</p> <p>حاصل ضرب المتكرر وغير المتكرر بأكبر أس $L.C.M = 20x^3y^6$</p>							

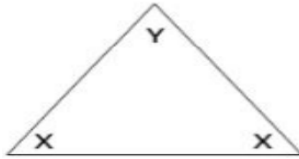
س٣٣: ما قيمة x التي تجعل العبارة $\frac{x-3}{x^2+4x-21} \div \frac{x^2-25}{x-5}$ غير معرفة ؟

أ	{3, -5, 5, 7}	ب	{3, -5, 5, -7}	ج	{-5, 7}	د	{5, -7}
الحل (ب)							عند أصفار المقام $\frac{(x-3)}{(x+7)(x-3)} \times \frac{(x-5)}{(x-5)(x+5)} \Rightarrow \{-7, 3, 5, -5\}$

س٣٤: مجال الدالة $f(x) = \frac{3x+4}{5-x}$ هو

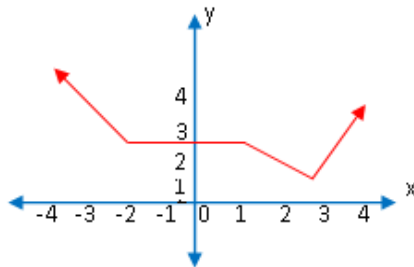
أ	R	ب	$R - \{-2\}$	ج	$R - \{5\}$	د	$R - \{-5\}$
الحل (ج) مجال الدالة الكسرية = {أصفار المقام} $R - \{5\}$							

س٣٥: إذا كان $x = 2y$ فأوجد Y ؟



أ	27	ج	36
ب	30	د	40
الحل (ج)			$2y + 2y + y = 180$ $\frac{5y}{5} = \frac{180}{5}$ $y = 36$

س٣٦: ما الفترة التي تتزايد فيها الدالة $f(x)$ ؟



أ	$(3, \infty)$	ب	$(-\infty, -2)$	ج	$(1, 3)$	د	$(1, \infty)$
الحل (أ)							

س ٣٧: للدالة $f(x) = \frac{x-3}{2x-5}$ خط تقارب رأسي عند							
أ	$x = \frac{5}{2}$	ب	$x \neq \frac{5}{2}$	ج	$x = 3$	د	$x = \frac{2}{5}$
(أ)						الحل	
$2x - 5 = 0 \Rightarrow x = \frac{5}{2}$							

س ٣٨: ما النظير الضربي المصفوفة $\begin{bmatrix} 1 & 3 \\ 2 & 5 \end{bmatrix}$ ؟			
أ	$\begin{bmatrix} -1 & 3 \\ 2 & 5 \end{bmatrix}$	ج	$\begin{bmatrix} 1 & -3 \\ -2 & 5 \end{bmatrix}$
ب	$\begin{bmatrix} -5 & 3 \\ 2 & -1 \end{bmatrix}$	د	$\begin{bmatrix} -5 & -3 \\ -2 & -1 \end{bmatrix}$
(ب)			الحل
$\text{المحدد} = 1(5) - 2(3) = -1$ $A^{-1} = \frac{1}{-1} \begin{bmatrix} 5 & -3 \\ -2 & 1 \end{bmatrix}$ $= \begin{bmatrix} -5 & 3 \\ 2 & -1 \end{bmatrix}$			
• نبدل عناصر القطر الرئيسي ونغير إشارة القطر الآخر			

س ٣٩: إذا كانت y تتغير طردياً مع x . حيث $y = 24$ عندما $x = 8$ فما قيمة x عندما $y = 48$							
أ	3	ب	4	ج	16	د	18
(ج)						الحل	
$\frac{y_1}{y_2} = \frac{x_1}{x_2} \Rightarrow \frac{24}{48} = \frac{8}{x} \Rightarrow x = \frac{8(48)}{24} = 16$							

س ٤٠: إذا كانت x تتغير عكسياً مع y وكانت $x = -12$ عندما $y = 2$ ؛ فما قيمة y عندما $x = 6$ ؟							
أ	4	ب	1	ج	-1	د	-4
(د)						الحل	
$\frac{y_1}{y_2} = \frac{x_2}{x_1} \Rightarrow \frac{2}{y} = \frac{6}{-12} \Rightarrow y = \frac{2(-12)}{6} = -4$							



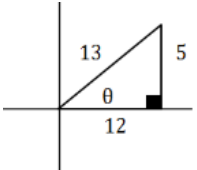
س٤١: إذا كان $\frac{x-1}{x+1} = \frac{6}{5}$ ؛ فما قيمة x ؟

أ	11	ب	1	ج	-11	د	-1
الحل (ج)							
$6(x+1) = 5(x-1) \Rightarrow 6x+6 = 5x-5$ $x = -11$							

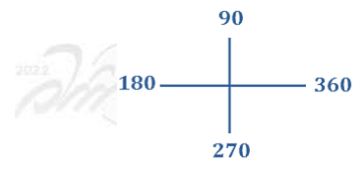
س٤٢: إذا كان $\log_x 81 = 2$ ، فإن x تساوي :

أ	9	ج	27
ب	81	د	3
الحل (أ)			
$x^2 = 81 \Rightarrow x = 9$			

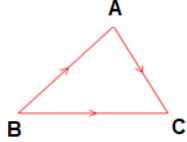
س٤٣: $\sec\theta = \frac{13}{12}$ فإن $\sin\theta = \dots\dots$:

أ	$\frac{5}{13}$	ب	$\frac{13}{5}$	ج	$\frac{12}{5}$	د	$\frac{5}{12}$
الحل (أ)							
$\cos\theta = \frac{12}{13} \Rightarrow \sin\theta = \frac{5}{13}$ 							

س٤٤: أي من الزوايا التالية يكون الجيب والظل لها سالبين؟

أ	65°	ب	310°	ج	210°	د	256°
الحل (ب)							
							

س ٤٥ : المتجه $a = \langle 3,5 \rangle$ ، فإن المتجه b الموازي له عكسه في الاتجاه يكون :			
أ	$\langle 3,5 \rangle$	ب	$\langle -3,-5 \rangle$
ج	$\langle 5,3 \rangle$	د	$\langle -5,-3 \rangle$
الحل (ب) تغيير الإشارة فقط			

س ٤٦ : A, B, C ثلاث نقاط في المستوى، فإن $\overrightarrow{AB} + \overrightarrow{BC} = \dots$			
أ	AB	ب	\overrightarrow{AB}
ج	AC	د	\overrightarrow{AC}
الحل (د) من قاعدة المثلث لجمع المتجهات			

س ٤٧ : أوجد الدالة العكسية للدالة $f(x) = x^2 + 3$:			
أ	$f(x) = \sqrt{x-3}$	ب	$f(x) = \sqrt{x+3}$
ج	$f(x) = x^2 - 3$	د	$f(x) = -x^2 - 3$
الحل			$y = x^2 + 3 \quad (أ)$ تبديل x بـ y ، y بـ x $x = y^2 + 3$ بأخذ الجذر $x - 3 = y^2$ بشرط $x \geq 3$ $y = \sqrt{x-3}$

س ٤٨ : أوجد ميل المنحنى $y = \sqrt{2x}$:			
أ	$\frac{1}{\sqrt{2x}}$	ب	$\frac{1}{\sqrt{x}}$
ج	$\frac{2}{\sqrt{x}}$	د	$\sqrt{2x}$
الإجابة			$y = \sqrt{f(x)} \quad (أ)$ $y' = \frac{f'(x)}{2\sqrt{f(x)}} = \frac{2}{2\sqrt{2x}} = \frac{1}{\sqrt{2x}}$

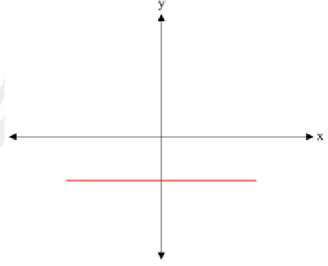
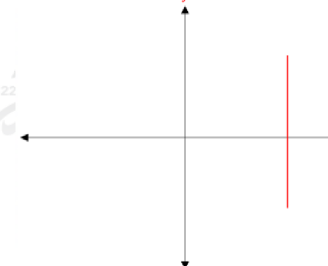
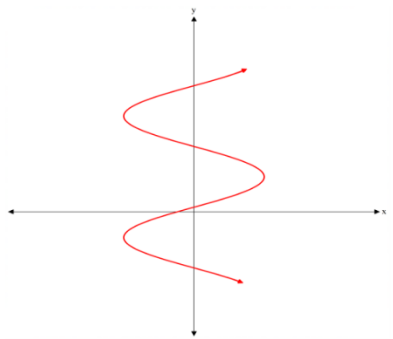
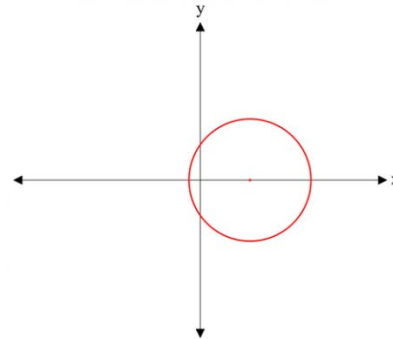
س ٤٩ : التمثيل البياني للدالة: $f(x) = |\sqrt{x+1}|$

	ب		أ
	د		ج
<p>(ب) الشكل يمثل إزاحة للدالة الأم بمقدار وحدة لليسار</p>			الحل

س ٥٠ : إذا كانت الزاوية ١ و ٢ متجاورتين، فإنهما متكاملتين، أي الأشكال الآتية يمثل مثال مضاد لذلك؟

	ب		أ
	د		ج
<p>(أ) لأن المثال المضاد لا بد أن يخالف النتيجة (متكاملتان 180°) والشكل أ فيه الزاويتان غير متكاملتان</p>			الإجابة

س ٥١ : حدد الرسم البياني الذي يمثل دالة فيما يأتي :

	ب		أ
	د		ج
<p>(ب) الخط الرأسي لا يقطع المنحنى إلا في نقطة واحدة</p>			الإجابة

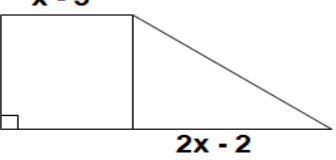
س ٥٢ : $\lim_{x \rightarrow \infty} \frac{Ax}{3+|x|} = 2$

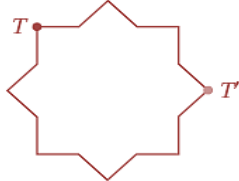
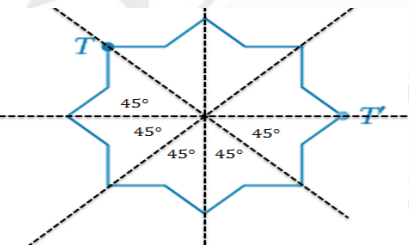
6	ب	-2	أ
2	د	-6	ج
<p>$\frac{x \text{ معامل}}{x \text{ معامل}} = \frac{A}{1} = 2 \rightarrow A = 2$ (د)</p>			الإجابة

س 53 : $\lim_{x \rightarrow 4} \frac{\sqrt{2x+1} - \sqrt{3}}{x-3}$

$3 - \sqrt{3}$	ب	$3 + \sqrt{3}$	أ
1	د	3	ج
<p>(ب) بالتعويض المباشر</p>			الإجابة

س 54 : $\lim_{x \rightarrow 4} \frac{\sqrt{x-1} - 3}{x-3}$			
$\frac{3 + \sqrt{3}}{2}$	ب	$3 - \sqrt{3}$	أ
2	د	$\sqrt{3} - 3$	ج
(ج) بالتعويض المباشر			الإجابة

	س 55 : إذا كانت مساحة المستطيل تساوي $x^2 + 3x - 40$ ، فإن مساحة المثلث =		
$x^2 - 8x + 7$	ب	$x^2 + 7x - 8$	أ
$x^2 + 7x - 16$	د	$2x^2 - 7x - 16$	ج
مساحة المستطيل = الطول \times العرض ارتفاع المثلث $x^2 + 3x - 40 = (x - 5)(x + 8)$ بالتحليل $\frac{2x - 2}{2} = x - 1$ نصف القاعدة مساحة المثلث = نصف القاعدة \times الارتفاع $= (x - 1)(x + 8) = x^2 + 7x - 8$ • ملاحظة: يمكن الحل السريع عن طريق الحد الأخير الذي لا يحتوي على x			(أ) الإجابة

	س 56 : ما الزاوية التي تم تدوير الشكل بها حول مركز تماثله حتى تنتقل النقطة T إلى النقطة T'؟		
120°	ب	90°	أ
225°	د	135°	ج
	(د) بالتحرك من T إلى T' ضد حركة عقارب الساعة نلاحظ أن الزاوية 225°		
			الإجابة

س ٥٧ : حدد مجال الدالة $f(x) = \sqrt{9 - x^2}$			
(-9.9)	ب	[-9.9]	أ
(-3.3)	د	[-3.3]	ج
(ج) $9 - x^2 \geq 0$ $9 \geq x^2 \Rightarrow -3 \leq x \leq 3$ $x \in [-3.3]$			الإجابة

س ٥٨ : أوجد قياس الزاوية الخارجية للمثلث المتطابق الأضلاع :			
40°	ب	30°	أ
120°	د	60°	ج
(د) قياس الزاوية الداخلية للمثلث المتطابق الأضلاع = 60° قياس الزاوية الخارجية = $180 - 60 = 120^\circ$			الإجابة

س ٥٩ : إذا كان $f(x) = 2x^n - 16$ أوجد قيمة n التي تجعل $f(2) = 0$			
4	ب	3	أ
5	د	2	ج
(أ) $f(2) = 0 \Rightarrow 2(2)^n - 16 = 0$ $\Rightarrow 2(2)^n = 16 \Rightarrow 2^n = 8 = 2^3$ $n = 3$			الإجابة

س ٦٠ : ما قيمة b التي تجعل الدالة $f(x) = \frac{x^2 - bx + 4}{x - 4}$ متصلة عند $x = 4$ بعد إعادة تعريفها ؟			
6	ب	8	أ
2	د	5	ج
(ج) عادة نستخدم إعادة التعريف عندما يكون البسط = صفر و المقام = صفر عند التعويض بالعدد المراد بحث الاتصال عنده ومن هنا نعوض في البسط ب 4 ونساوي الناتج بالصفر $(4)^2 - b(4) + 4 = 0$ $16 - 4b + 4 = 0$ $-4b = -20$ $b = 5$			الإجابة



قدرات
Ghasham23



تحميلي
Ghasham22



قدرات وتحميلي
Ghasham_22

س٦١: أي مما يلي عامل من عوامل كثيرة الحدود $f(x) = x^3 + 2x^2 + 4x + 8$ ؟			
أ	$x + 1$	ج	$x - 1$
ب	$x - 2$	د	$x + 2$
الحل			(د) بالتجريب
$x + 2 = 0$ $x = -2$ $f(-2) = (-2)^3 + 2(-2)^2 + 4(-2) + 8 = 0$			<ul style="list-style-type: none"> إذا كان الناتج صفر يكون العامل صحيح

س٦٢: إذا كانت $9^{x+2} = 3^{x+7}$ فما قيمة x ؟							
أ	2	ب	3	ج	4	د	5
الحل						$3^{2x+4} = 3^{x+7} \Rightarrow 2x + 4 = x + 7 \Rightarrow x = 3$ (ب)	

س٦٣: إذا كان $\log_x(32) = 5$ فما قيمة x ؟							
أ	1	ب	2	ج	5	د	32
الحل						$\log_x 2^5 = 5 \log_x 2 = 5 \Rightarrow \log_x 2 = 1 \Rightarrow x = 2$ (ب)	

س٦٤: الصورة الأسية $5^3 = 125$ تكافئ ؟			
أ	$\log_5 125 = 3$	ج	$\log_5 3 = 125$
ب	$3 \log_5 = 125$	د	$\log_3 125 = 5$
الحل			(أ)

س٦٥: مثلثين متشابهين ، أضلاع المثلث الأكبر 9, 15, 18 ، نسبة التشابه بينهم $\frac{2}{3}$ ، فما محيط المثلث الأصغر؟

أ	28	ب	26	ج	24	د	14	
							(أ)	الحل
$\frac{2}{3} = \frac{x}{9 + 15 + 18} \Rightarrow x = \frac{2(42)}{3} = 28$								

س٦٦: ما اتجاه القطع المكافئ $x^2 = 8(y - 8)$ ؟

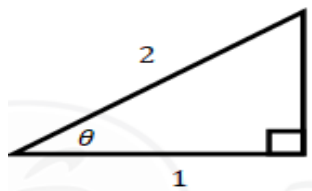
أ	يمين	ب	يسار	ج	أسفل	د	أعلى	
							(د) موجبة	الحل

س٦٧: ما معادلة المحور القاطع للقطع الزائدة $\frac{x^2}{4} - \frac{(y-1)^2}{9} = 1$ ؟

أ	$y = -1$	ب	$y = 9$	ج	$y = 1$	د	$y = 0$	
							(ج) $y = k \Rightarrow y = 1$	الحل

س٦٨: إذا كانت $270 < \theta < 360$ و $\cos \theta = \frac{1}{2}$ أوجد $\sin \theta$ ؟

أ	$-\frac{\sqrt{3}}{2}$	ج	$-\frac{\sqrt{2}}{2}$
ب	$\frac{\sqrt{3}}{2}$	د	$\frac{1}{2}$

		(أ)	الحل
		$\cos \theta = \frac{\text{مجاور وتر}}{\text{وتر}} = \frac{1}{2}$ $\sin \theta = \frac{\text{مقابل وتر}}{\text{وتر}} = \frac{\sqrt{3}}{2}$	
نضع سالب لأن الزاوية تقع في الربع الرابع			

س٦٩: ما الصورة الإحداثية لمتجه طوله 6 وزاوية اتجاهه مع الأفقي 150° ؟

أ	$\langle -3\sqrt{3}, 3 \rangle$	ب	$\langle 3, -3\sqrt{3} \rangle$	ج	$\langle 3, 3\sqrt{3} \rangle$	د	$\langle 3\sqrt{3}, -3 \rangle$	
							(أ) $\langle x, y \rangle = \langle v \cos \theta, v \sin \theta \rangle = \langle 6 \cos 150, 6 \sin 150 \rangle$	الحل



قدرات
Ghasham23



تحميلي
Ghasham22



قدرات وتحميلي
Ghasham_22

س٧٠: إذا كان المتجهان $u = \langle 1, -2 \rangle$. $v = \langle 3, k \rangle$ متعامدين فما قيمة k ؟							
أ	1	ب	1.5	ج	2	د	3
(ب)							الحل
$u \cdot v = 0 \Rightarrow 3 - 2k = 0 \Rightarrow k = \frac{3}{2} = 1.5$							

س٧١: ما حل المتباينة $2^{x+2} > \frac{1}{64}$ ؟							
أ	$x > -8$	ج	$x < -8$	د	$x > -4$	ب	$x > 8$
(أ)							الحل
$2^{x+2} > \frac{1}{2^6}$ $2^{x+2} > 2^{-6}$, $x + 2 > -6$ $x > -8$							

س٧٢: إذا كانت $f(x) = \sqrt{x-4}$ فما هو مجال الدالة $f^{-1}(x)$ ؟							
أ	$R - \{\pm 2\}$	ب	$R - \{\pm 4\}$	ج	$[0, \infty)$	د	R
(ج)							الحل
مجال $f(x) = [0, \infty)$ = مدى $f(x)$ = مدى الأصلية = مجال العكسية							

س٧٣: إذا كان $(5, \frac{\pi}{3})$ الإحداثي القطبي للنقطة P ، فما الإحداثي الديكارتي لها ؟							
أ	$(\frac{5}{2}, \frac{5\sqrt{3}}{2})$	ب	$(10, \frac{10}{\sqrt{3}})$	ج	$(\frac{5\sqrt{3}}{2}, \frac{5}{2})$	د	$(\frac{10}{\sqrt{3}}, 10)$
(أ)							الحل
$(x, y) = (5 \cos \frac{\pi}{3}, 5 \sin \frac{\pi}{3}) = (5(\frac{1}{2}), 5(\frac{\sqrt{3}}{2})) = (\frac{5}{2}, \frac{5\sqrt{3}}{2})$							

س٧٤: النهاية $\lim_{x \rightarrow 4} (4x - 1)$ تساوي ؟							
أ	4	ب	8	ج	12	د	15
(د)							الحل
$\lim_{x \rightarrow 4} 4 \times -1 = 4(4) - 1 = 15$ تعويض مباشر							



س٧٥: ما قيمة c التي تجعل المصفوفة ليس لها نظير ضربي؟ $\begin{bmatrix} 2 & 8 \\ -3 & c \end{bmatrix}$

أ	12	ج	-12
ب	24	د	10
الحل (ج)			
$2c - (-3)(8) = 0$ $2c + 24 = 0$ $2c = -24 \quad c = -12$			

س٧٦: ما الدوال الأصلية للدالة $f(x) = 3x^2 - 1$ ؟

أ	$x^3 - x + c$	ب	$6x$	ج	$3x^2 - 1 + c$	د	$\frac{x^2}{2} - x$
الحل (أ)							
$\int (3x^2 - 1) dx = x^3 - x + c = \text{الأصلية}$							

س٧٧: ما قيمة المقدار $\sqrt[7]{x^{14}y^7}$ ؟

أ	x^7y	ج	$(xy)^7$
ب	$(xy)^3$	د	x^2y
الحل (د)			
$\sqrt[7]{x^{14}y^7} = x^{\frac{14}{7}}y^{\frac{7}{7}} = x^2y$			

س٧٨: أي مما يلي ليس من مقاييس النزعة المركزية؟

أ	وسيط	ب	وسط حسابي	ج	منوال	د	الانحراف المعياري
الحل (د)							
مقاييس التشتت: ١- الانحراف المعياري ٢- التباين							

س٧٩: إذا كان $\int_1^n 4x^3 dx = 15$ فما قيمة n ؟

أ	$\frac{1}{4}$	ب	2	ج	4	د	6
الحل (ب)							
$\int_1^n 4x^3 dx = [x^4]_1^n = n^4 - 1 = 15 \quad n^4 = 16 \Rightarrow n = 2$							

س ٨٠: أوجه القطع المكافئ في المعادلة التالية $x^2 = 3(y - 2)$ ؟

أ	للأسفل	ج	لليمين
ب	للأعلى	د	لليسار
الحل			(ب) التربيع على x الأوجه رأس $C = \frac{3}{4} > 0$ موجبة الأوجه لأعلى

س ٨١: إذا كان $\int_0^4 (x + k) dx = 20$ فما قيمة k ؟

أ	-7	ب	-3	ج	3	د	7
الحل							(ج) $\int_0^4 (x + k) dx = \left[\frac{x^2}{2} + kx \right]_0^4 = \left(\frac{16}{2} + 4k \right) - 0 = 20 \Rightarrow k = 3$

س ٨٢: ما قيمة $\lim_{x \rightarrow 4} \frac{\sqrt{2x+1} - \sqrt{7}}{x-3}$ ؟

أ	$3 + \sqrt{7}$	ب	$3 - \sqrt{7}$	ج	$\sqrt{7} - 3$	د	3
الحل							(ب) $\lim_{x \rightarrow 4} = \frac{\sqrt{2(4)+1} - \sqrt{7}}{4-3} = 3 - \sqrt{7}$ تعويض مباشر

س ٨٣: ما قيمة $\lim_{x \rightarrow 2} \frac{x^2 - 4}{x - 2}$ ؟

أ	0	ب	6	ج	4	د	8
الحل							(ج) $\lim_{x \rightarrow 2} \frac{(x-2)(x+2)}{(x-2)} = 2 + 2 = 4$

س٨٤: أكمل المتتابعة ... -7, 0, 7, 14

أ	14	ج	12
ب	-14	د	-10
الحل	(ب) طرح (7) ← -14 = -7 - 7		

س٨٥: $\lim_{x \rightarrow \infty} (x^2 + x + 2)$ ؟

أ	$-\infty$	ب	1	ج	0	د	∞
الحل	(د) $\lim_{x \rightarrow \infty} x^2 + x + 2 = \lim_{x \rightarrow \infty} x^2 = (\infty)^2 = \infty$						

س٨٦: ما مدى الدالة $f(x) = \sqrt{x-5}$ ؟

أ	R^+	ب	R^-	ج	$R^+ \cup \{0\}$	د	$R^- \cup \{0\}$
الحل	(ج) $[0, \infty) = R^+ \cup \{0\}$ = المدى						

س٨٨: إذا كانت $f(x) = 3x^2 - 5x + 12$ فإن مشتقة الدالة $f(x)$ تساوي ؟

أ	$3x - 5$	ب	$6x^2 - 5$	ج	$6x^2 - 5x$	د	$6x - 5$
الحل	(د) $f'(x) = 3(2x) - 5(1) = 6x - 5$						

س٨٩: ما معادلة ميل المنحنى $y = x^5 + 3x - 2$ عند أي نقطة عليه ؟

أ	$4x^4 + 3$	ب	$5x^4 + 3$	ج	$x^4 + 1$	د	$x^4 + 3$
الحل	(ب) $y' = 5x^4 + 3$ = ميل المنحنى						

س٩٠: ما المشتقة السادسة للدالة التالية؟ $f(x) = \frac{2}{5}x^5 - \frac{1}{4}x^4 + \frac{2}{3}x^3 - \frac{1}{2}x^2 + 7x - 12$

أ	-1	ب	0	ج	1	د	3
الحل	(ب) درجة الدالة (5) أقل من رتبة المشتقة						



قدرات
Ghasham23



تحميلي
Ghasham22



قدرات وتحميلي
Ghasham_22

س ٩١: أكمل : $[\sin(\cot 75)]^2 + [\cos(\cot 75)]^2 = \dots\dots$			
أ	1	ج	45
ب	60	د	90
الحل			(أ)
$= \sin^2(\cot 75) + \cos^2(\cot 75)$ $= \sin^2 \theta + \cos^2 \theta = 1$			

س ٩٢: ماتبسط العبارة التالية $\frac{(a^2-b^2)}{3b} \times \frac{9b^2}{a-b}$ ؟			
أ	a^2b^3	ج	$(a^2 - b^2)$
ب	$3b(a + b)$	د	$27a^4$
الحل			(ب)
$\frac{(a-b)(a+b)}{3b} \cdot \frac{9b^2}{a-b} = 3b(a + b)$			

س ٩٣: الدورة الكاملة تعادل بالراديان ؟			
أ	π	ب	2π
ج	400°	د	180°
الحل			(ب)
$360^\circ = 2\pi$			

س ٩٤: أوجد قيمة a في المتتابعة الحسابية الآتية $8, 3, a, -7$			
أ	5	ج	-2
ب	2	د	-4
الحل			(ج)
$d = 3 - 8 = -5$ $a = 3 - 5 = -2$			

س ٩٥: عقرب الدقائق أتم 30 ثانية ، فكم مقدار الإزاحة الزاوية التي قطعها بالراديان؟			
أ	$\frac{\pi}{60}$	ب	$\frac{\pi}{120}$
ج	2π	د	$\frac{\pi}{40}$
الحل			(أ)
$30 \text{ ثانية} \rightarrow 3^\circ = 3 \left(\frac{\pi}{180}\right) = \frac{\pi}{60}$			



س٩٦ : قيمة x في الشكل المجاور :



أ	60	ب	80	ج	70	د	100	
الحل							$x = 360 - (120 + 110 + 50) = 360 - 280 = 80$ (ب)	

س٩٧ : أوجد ميل المستقيم المار بالنقطتين (0, 5) , (9, 2) :

أ	$\frac{1}{4}$	ج	$\frac{1}{2}$
ب	$\frac{1}{3}$	د	$-\frac{1}{3}$
الحل			(د)
$m = \frac{y_2 - y_1}{x_2 - x_1} = \frac{5 - 2}{0 - 9} = \frac{3}{-9} = -\frac{1}{3}$			

س٩٨ : حول المعادلة التالية الى قطبية $y^2 = x$:

أ	$r = \cos \theta \csc^2 \theta$	ب	$r = \cos \theta \sec^2 \theta$
ج	$r = \cos \theta \tan \theta$	د	$r = \cos^2 \theta \csc \theta$
الحل			(أ)
$y = r \sin \theta \Rightarrow r^2 \sin^2 \theta = r \cos \theta \Rightarrow r = \cos \theta \frac{1}{\sin^2 \theta}$ $x = r \cos \theta \Rightarrow r = \cos \theta \csc^2 \theta$			

س٩٩ : $\frac{\cos(-\theta) \tan \theta}{\sec(-\theta)} = \dots\dots\dots$ ؟

أ	$\sin^2 \theta$	ب	$\cos^2 \theta$
ج	$\cos \theta \sin \theta$	د	$\csc \theta$
الحل			(ج)
<p>ملاحظة • $\cos(-\theta) = \cos \theta$ دوال زوجية $\sec(-\theta) = \sec \theta$ زوجية</p> $= \frac{\cos \theta \cdot \frac{\sin \theta}{\cos \theta}}{\frac{1}{\cos \theta}} = \sin \theta \cdot \cos \theta$			



قدرات
Ghasham23

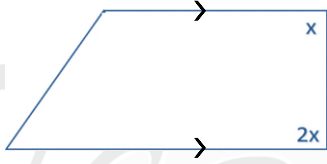


تحميلي
Ghasham22



قدرات وتحميلي
Ghasham_22

س ١٠٠ : ما قيمة x في الشكل التالي؟



40

د

30

ج

120

ب

60

أ

الحل (أ) $2x + x = 180 \Rightarrow x = \frac{180}{3} = 60$

س ١٠١ : $\frac{3i}{2i-4} = \dots\dots$

$\frac{-3}{10} + \frac{3}{5}i$

د

$\frac{3}{10} - \frac{3i}{5}$

ج

$\frac{3}{4} - \frac{3}{2}i$

ب

$\frac{3}{2} - \frac{3}{4}i$

أ

الحل (ج) $\frac{3i(-2i-4)}{(2i-4)(-2i-4)} = \frac{+6-12i}{4+16} = \frac{6}{20} - \frac{12i}{20} = \frac{3}{10} - \frac{3}{5}i$

س ١٠٢ : $\dots\dots = \sin \theta \cdot \cot \theta$

$\cos \theta$

ج

$\sin \theta$

أ

$\csc \theta$

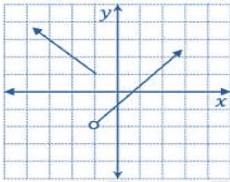
د

$\sec \theta$

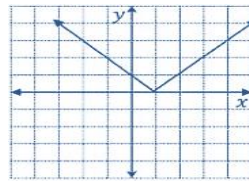
ب

الحل (ج) $\sin \theta \times \frac{\cos \theta}{\sin \theta} = \cos \theta$

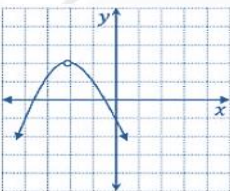
س ١٠٣ : الدالة التي تمثل عدم اتصال لانهائي هي



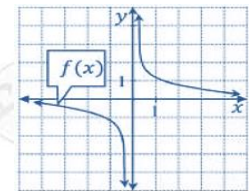
ب



أ



د



ج

الحل (ج)

س ١٠٤ : $\int_0^3 x^2 dx$ ، احسب المساحة المحصورة							
أ	1	ب	10	ج	9	د	7
الحل (ج) $\int_0^3 x^2 dx = \left[\frac{x^3}{3}\right]_0^3 = \frac{27}{3} - 0 = 9$							

س ١٠٥ : المتتابعة التالية 3 , 6 , 12 تمثل :			
أ	متتابعة هندسية أساسها 3	ج	متتابعة هندسية أساسها 4
ب	متتابعة حسابية أساسها 2	د	متتابعة هندسية أساسها 2
الحل (د) $r = \frac{6}{3} = \frac{12}{6} = 2$ متتابعة هندسية أساسها 2			

س ١٠٦ : إذا كانت $u = \langle -1, 4 \rangle$ ، $v = \langle 1, 3 \rangle$ ، فأوجد $u \cdot v$							
أ	11	ب	-11	ج	1	د	-1
الحل (أ) $u \cdot v = -1 + 12 = 11$							

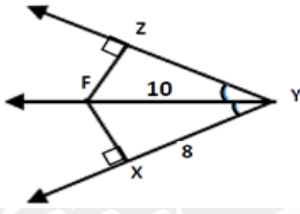
س ١٠٧ : احسب ميل مماس المنحنى $f(x) = x^2 - x$ عند $x = 1$							
أ	1	ب	4	ج	3	د	2
الحل (أ) $m = f'(x) = 2x - 1 \Rightarrow m_{x=1} = 2(1) - 1 = 1$							

س ١٠٨ : يوجد كلمة سر لقفل مكون من 3 خانات للاعداد من 0 إلى 9 ، ما عدد النواتج الممكنة لكلمة السر بأرقام مختلفة؟							
أ	720	ب	648	ج	504	د	448
الحل (أ) هنا نستخدم مبدأ العد $10 \times 9 \times 8 = 720$ = عدد النواتج الممكنة							

س ١٠٩ : إذا كان المتجهين $A = \langle 5, -3 \rangle$ ، $B = \langle 1, 4 \rangle$ فإن $2A - B$ يساوي ..							
أ	$\langle 9, -10 \rangle$	ب	$\langle 4, -7 \rangle$	ج	$\langle 6, 1 \rangle$	د	$\langle -3, 11 \rangle$
الحل (أ) $2A - B = \langle 10, -6 \rangle - \langle 1, 4 \rangle = \langle 9, -10 \rangle$							



س ١١٠: في الشكل المجاور ، ما قيمة FZ إذا كان $XY = 8$ و $YF = 10$ ؟



أ	8	ج	9
ب	6	د	10
الحل			(ب)
$FZ = FX = 6$ من ثلاثيات فيثاغورس 6 , 8 , 10			

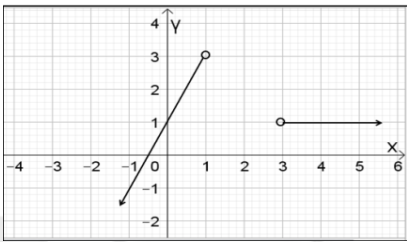
س ١١١: أي مما يلي ليس عاملاً من عوامل $x^3 + 3x^2 + 2x$ ؟

أ	$x - 1$	ب	$x + 2$	ج	x	د	$x + 1$
الحل							(أ)
بالتجريب $f(1) = 1^3 + 3(1)^2 + 2(1) = 6 \neq 0$							

س ١١٢: أوجد مشتقة x^2 عند النقطة $(1, -1)$

أ	-2	ب	2	ج	-1	د	1
الحل							(ب)
$f'(x) = 2x \Rightarrow f'(1) = 2(1) = 2$							

س ١١٣: قاعدة التمثيل البياني المقابل هي :



أ	$f(x) = \begin{cases} 2x, & x < 1 \\ 1, & x > 3 \end{cases}$	ب	$f(x) = \begin{cases} 2x + 1, & x < 1 \\ 1, & x > 3 \end{cases}$	ج	$f(x) = \begin{cases} 2, & x < 1 \\ 1, & x > 3 \end{cases}$	د	$f(x) = \begin{cases} 2x + 1, & x \leq 1 \\ 1, & x \geq 3 \end{cases}$
الحل							(ب)
• نستبعد أي إجابة بها \leq أو \geq لان الدوائر بالرسم مفتوحة ثم نختار الخط المستقيم الذي له المقطع مع y يساوي 1 ويكون قيم $x < 1$							



قدرات
Ghasham23



تحميلي
Ghasham22



قدرات وتحميلي
Ghasham22

س١١٤: أوجد $1 + i$ بالصورة القطبية.....

$2 \left(\cos \left(\frac{\pi}{4} \right) + i \sin \left(\frac{\pi}{4} \right) \right)$	ب	$\sqrt{2} \left(\cos \left(\frac{\pi}{4} \right) + i \sin \left(\frac{\pi}{4} \right) \right)$	أ
$2 \left(\sin \frac{\pi}{4} + i \cos \frac{\pi}{4} \right)$	د	$\sqrt{2} \left(\cos \left(\frac{\pi}{3} \right) + i \sin \left(\frac{\pi}{3} \right) \right)$	ج
$r(\cos \theta + i \sin \theta), \quad r = \sqrt{1+1} = \sqrt{2}$ $\theta = \tan^{-1} \frac{1}{1} = 45 = \frac{\pi}{4} \Rightarrow \sqrt{2} \left(\cos \frac{\pi}{4} + i \sin \frac{\pi}{4} \right)$			الحل (أ)

س١١٥: ما قيمة x في $\frac{x^2+x-6}{x+3} = 0$ ؟

$X = 0$	ج	$X = 2$	أ
$X = -1$	د	$X = 3$	ب
<p>حل آخر</p> $\frac{(x-2)(x+3)}{x+3} = x-2=0$ $x=2$		<p>نساوي البسط بـ صفر بتجريب (2)</p> $x^2 + x - 6 = 0$ $2^2 + 2 - 6 = 0$	الحل (أ)

س١١٦: المصفوفتين $B = \begin{bmatrix} -1 & 3 \\ 1 & -2 \end{bmatrix}$ و $A = \begin{bmatrix} 2 & 1 \\ 0 & 5 \end{bmatrix}$ فإن $2A-B$

$\begin{bmatrix} 5 & 1 \\ -1 & -12 \end{bmatrix}$	ب	$\begin{bmatrix} -5 & -1 \\ 1 & 12 \end{bmatrix}$	أ
$\begin{bmatrix} 5 & -1 \\ -1 & 12 \end{bmatrix}$	د	$\begin{bmatrix} 0 & 4 \\ 4 & 2 \end{bmatrix}$	ج
$2A - B = \begin{bmatrix} 4 & 2 \\ 0 & 10 \end{bmatrix} - \begin{bmatrix} -1 & 3 \\ 1 & -2 \end{bmatrix} = \begin{bmatrix} 5 & -1 \\ -1 & 12 \end{bmatrix}$			الحل (د)

س١١٧: حول الصورة اللوغاريتمية التالية الى أسية $\log_x y = k$

$k^y = x$	د	$k^x = y$	ج	$y^x = k$	ب	$x^k = y$	أ
$x^k = y \quad (\text{أ})$							الحل

س١١٨: أي القياسات التالية تمثل أضلاع مثلث ؟

أ	5, 3, 3	ج	17, 5, 3
ب	11, 4, 4	د	6, 10, 34
الحل			(أ) متباينة المثلث : مجموع طولي أي ضلعين أكبر من طول الضلع الثالث نجمع أصغر عددين يكون أكبر من الثالث $3 + 3 = 6 > 5$

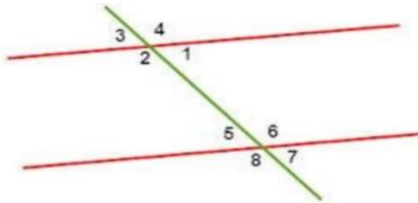
س١١٩: العبارة الرياضية التالية $y = 4x + 3$ تمثل :

أ	دالة غير متباينة	ج	غير دالة متباينة
ب	دالة متباينة	د	لا شيء مما ذكر
الحل			(ب) حيث $y^1 = yx^1 + 3$ مرفوعة لأس فردي متباينة ، y مرفوعة لأس فردي دالة

س١٢٠: أساس المتتابعة الهندسية....., 12, 36, 108, 324 :

أ	12	ب	2	ج	3	د	6
الحل							$r = \frac{a_2}{a_1} = \frac{36}{12} = 3$ (ج)

س١٢١: الزاويتان 2 ، 5 زاويتان.....



أ	داخليتان متحالفتان	ب	متناظرتين	ج	خارجيتين متبادلتين	د	داخليتان متبادلتين
الحل							(أ)

س١٢٢: إذا كانتا A و B زاويتان متتامتان و C و A متتامتان فأى من الآتي صحيح؟

أ	$B = C$	ب	$B + C = 180$	ج	$B < C$	د	$C < B$
الحل							(أ) الزاويتان المتمتان لنفس الزاوية متطابقتان



قدرات
Ghasham23



تحميلي
Ghasham22



قدرات وتحميلي
Ghasham22

س ١٢٣: إذا كان $f(x) = x^2 + 2x$, $g(x) = 2k$ أوجد (fog)			
أ	$k^2 + 2$	ج	$4k^2 + 4k$
ب	$x^4 + x$	د	k^5
الحل (ج)			$(fog)(x) = (2k)^2 + 2(2k)$ $= 4k^2 + 4k$

س ١٢٤: في أي ربع تكون قيمة $\sin\theta$ و $\cos\theta$ سالبتين؟			
أ	الأول	ج	الثالث
ب	الثاني	د	الرابع
الحل (ج) الربع الثالث موجبة والباقي سالب			

س ١٢٥: ما قيمة $\log_2 5 + \log_2 4 = \dots$ ؟			
أ	$\log_2 20$	ب	$\log_4 20$
د	$\log_2 \frac{5}{4}$	ج	$\log_4 \frac{5}{4}$
الحل (أ) جمع اللوغاريتمات يحول إلى ضرب أعداد			

س ١٢٦: إذا كان المتجه $a = \langle 3, 5 \rangle$ وكان المتجه b موازي للمتجه a ولكن معاكس له في الاتجاه فإن الصورة الإحداثية للمتجه b هي.....			
أ	$\langle -5, -3 \rangle$	ب	$\langle -5, -3 \rangle$
ج	$\langle -3, -5 \rangle$	د	$\langle -3, 5 \rangle$
الحل (ج) a يعاكس $-a$			

س ١٢٧: قيمة x التي تجعل المصفوفة ليس لها نظير ضربي $\begin{bmatrix} 2x & 6 \\ x-1 & 4 \end{bmatrix}$:			
أ	1	ج	5
ب	3	د	-3
الحل (د)			$(2x)(4) - 6(x-1) = 0$ $8x - 6x + 6 = 0 \rightarrow 2x = -6 \rightarrow x = -3$

س١٢٨: ما هي معادلة المستقيم العمودي على المستقيم $y = 3x + 4$ والذي يمر بالنقطة $(3, -4)$ ؟			
أ	$y = -\frac{1}{3}x - 3$	ب	$y = -\frac{1}{3}x + 3$
ج	$y = 3x + 3$	د	$y = 3x - 3$
الحل			(أ)
$m = \frac{-1}{3} \Rightarrow$ ميل العمودي \Rightarrow المعادلة $\Rightarrow y + 4 = -\frac{1}{3}(x - 3) \Rightarrow y = -\frac{1}{3}x - 3$			

س١٢٩: العنصر a_{23} في المصفوفة التالية هو							
$\begin{bmatrix} 1 & 2 & 3 \\ 4 & 6 & 9 \\ 5 & 7 & 0 \end{bmatrix}$							
أ	0	ب	9	ج	7	د	5
الحل							(ب)

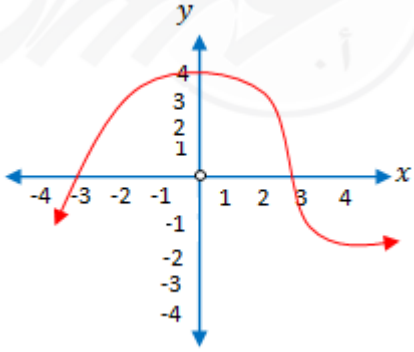
س١٣٠: ما قيمة $\sin^2 \theta + \cos^2 \theta = \dots$ ؟							
أ	-1	ب	0	ج	1	د	$\cos 20$
الحل							(ج) $\sin^2 \theta + \cos^2 \theta = 1$

س١٣١: $(1 - \cot \theta) \sin \theta$:							
أ	$\sin \theta - \cos \theta$	ج	$\cos \theta \sin \theta$	ب	$\cos^2 \theta$	د	$\sec \theta$
الحل							(أ)
$(1 - \frac{\cos \theta}{\sin \theta}) \sin \theta = \sin \theta - \cos \theta$							

س١٣٢: كم البعد بين المستقيمين المتوازيين $y = 5$ و $y = -3$ ؟							
أ	2	ب	8	ج	5	د	0
الحل							(ب)
$d = y_1 - y_2 = -3 - 5 = 8$							

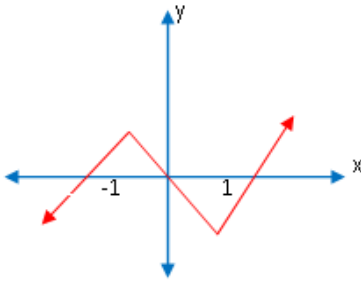


س 133 : أوجد صفر الدالة بين ال 2 ، 5 :



أ	6	ب	4
ج	-4	د	3
الإجابة		(د) أصفار الدالة هي التقاطع مع محور x	

س 134 : حدد الفترة التي تتناقص فيها الدالة المرسومة :



أ	$(-\infty, -1)$	ب	$(1, \infty)$
ج	$(-1, 1)$	د	$(-\infty, 0)$
الإجابة		(ج) $(-1, 1)$ من الرسم	

س 135 : المعاكس الايجابي للعبارة $\sim p \rightarrow q$:

أ	$\sim p \rightarrow \sim q$	ب	$\sim q \rightarrow \sim p$
ج	$\sim q \rightarrow p$	د	$p \rightarrow q$
الإجابة		(ج) $\sim q \rightarrow p$ تبديل الفرض بالنتيجة ونفي كل من الفرض و النتيجة	

س ١٣٦ : المعاكس الايجابي للعبارة (إذا كانت $x = 2$ فإن $x^2 = 4$) :			
أ	إذا كان $x^2 = 4$ فإن $x = 2$	ب	إذا كانت $x^2 \neq 4$ فإن $x \neq 2$
ج	إذا كانت $x \neq 2$ فإن $x^2 = 4$	د	إذا كانت $x = 2$ فإن $x^2 = 4$
الإجابة (ب) المعاكس الايجابي تبديل ونفي			

س ١٣٧ : إذا كان $\sin A = \frac{5\sqrt{3}}{10}$ فإن $A = \dots$:			
أ	60°	ب	20°
ج	45°	د	90°
الإجابة (أ) $A = \sin^{-1}\left(\frac{5\sqrt{3}}{10}\right) = \sin^{-1}\left(\frac{\sqrt{3}}{2}\right) = 60^\circ$			

س ١٣٨ : العبارة $y^{-1}(y^3 + y)$ في أبسط صورة تساوي :			
أ	$3y - 1$	ب	$y - 4$
ج	$y^2 + 1$	د	$y^2 - y$
الإجابة (ج) $\frac{y^3+y}{y} = \frac{y(y^2+1)}{y} = y^2 + 1$			

س ١٣٩ : اسطوانه حجمها $(x^3 - 2x^2 - 7x - 4)$ وارتفاعها $(x - 4)$ أوجد مساحة قاعدتها؟																												
أ	$x + 1$	ب	$x^2 + 2x + 1$																									
ج	$x^2 - 3x - 4$	د	$x^4 - 6x^3 - x^2 + 24x + 16$																									
الإجابة (ب) حجم الاسطوانة = مساحة القاعدة \times الارتفاع بالقسمة التركيبية ←			<table border="1"> <tr> <td>4</td> <td>1</td> <td>-2</td> <td>-7</td> <td>-4</td> </tr> <tr> <td></td> <td></td> <td>4</td> <td>8</td> <td>4</td> </tr> <tr> <td></td> <td>1</td> <td>2</td> <td>1</td> <td>0</td> </tr> <tr> <td></td> <td>↓</td> <td>↓</td> <td></td> <td></td> </tr> <tr> <td></td> <td></td> <td></td> <td></td> <td>$x^2 + 2x + 1$</td> </tr> </table>	4	1	-2	-7	-4			4	8	4		1	2	1	0		↓	↓							$x^2 + 2x + 1$
4	1	-2	-7	-4																								
		4	8	4																								
	1	2	1	0																								
	↓	↓																										
				$x^2 + 2x + 1$																								

س ١٤٠ : ما قيمة $\log_{125} 5$ ؟							
أ	$\frac{1}{3}$	ب	$\frac{1}{2}$	ج	3	د	2
الحل (أ) $\log_{125}(125)^{\frac{1}{3}} = \frac{1}{3}$							



س ١٤١ : عين مجال الدالة $f(x) = \frac{3-x}{x^2-5x}$			
$\{x \mid x \neq 0, x \in R\}$	ب	$\{x \mid x \in R\}$	أ
$\{x \mid x \neq 0, x \neq 5, x \in R\}$	د	$\{x \mid x \neq 5, x \in R\}$	ج
(د) $x^2 - 5x = 0$ أصفار المقام $x(x - 5) = 0$ $x(x - 5) = 0 \Rightarrow x = 0, x = 5$ • المجال هو مجموعة الأعداد الحقيقية ما عدا أصفار المقام			الإجابة

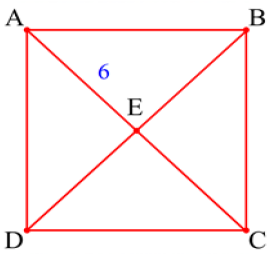
س ١٤٢ : أوجد متوسط معدل التغير للدالة $f(x) = \sqrt{x+2}$ في الفترة $[2, 7]$			
-5	ب	5	أ
$\frac{1}{5}$	د	$-\frac{1}{5}$	ج
(د) $[2^{x_1}, 7^{x_2}]$ $m_{sec} = \frac{f(x_2) - f(x_1)}{x_2 - x_1} = \frac{f(7) - f(2)}{7 - 2} = \frac{\sqrt{9} - \sqrt{4}}{5} = \frac{3 - 2}{5} = \frac{1}{5}$			الإجابة

س ١٤٣ : إذا كانت M مركز الدائرة ، كم تساوي x° ؟			
			
60°	د	100°	ج
		90°	ب
		45°	أ
الحل (ب) الزاوية المحيطة المقابلة للقطر تكون قائمة			

س ١٤٤ : إذا كان $A = \begin{bmatrix} 2x & 6 \\ 3 & 10 \end{bmatrix}$ ، أوجد قيمة x علماً بأن $ A = 42$			
5	ب	3	أ
8	د	6	ج
$2x(10) - 3(6) = 42 \rightarrow 20x = 60 \rightarrow x = 3$			(أ) الإجابة

س ١٤٥ : حول الصورة اللوغارتمية الآتية إلى صورة أسية $\log_x y = K$:			
$y^x = k$	ب	$x^k = y$	أ
$k^y = x$	د	$k^x = y$	ج
			الإجابة (أ)

س ١٤٦ : أوجد قيمة $(i)^{100}$:			
i	ب	-1	أ
$-i$	د	1	ج
			الإجابة (ج) لأن 100 تقبل القسمة على 4

س ١٤٧ : إذا كان الشكل ABCD مربع وكان $AE=6$ ، أوجد طول BD :			
			
6	ب	3	أ
24	د	12	ج
			الإجابة (ج) لأن قطري المربع متطابقان وينصف كل منهما الآخر

س ١٤٨ : الحد التالي في النمط $2,5,11,23,.....$:			
43	ب	37	أ
53	د	47	ج
			الإجابة (ج) نضرب في ٢ ثم نضيف ١

س ١٤٩ : المستقيم $Y = -1$ يمر بالنقطتين :			
$(4, -7), (4, 7)$	ب	$(-2, -7), (-2, 1)$	أ
$(4, -1), (-2, -1)$	د	$(7, 1), (-2, 1)$	ج
			الإجابة (د) نلاحظ ثبات الاحداثي y عند -1



قدرات
Ghasham23

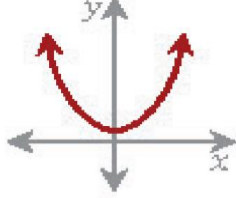


تحميلي
Ghasham22



قدرات وتحميلي
Ghasham_22

س ١٥٠ : أي من الدوال الآتية هي دالة عكسية للدالة $f(x) = \frac{1-x}{2}$ ؟			
$h(x) = 2x - 1$	ب	$h(x) = -2x + 1$	أ
$h(x) = 2x + 1$	د	$h(x) = -2x - 1$	ج
(أ) نبدل معامل x بالمقام ونغير إشارة الواحد فتصبح $\frac{2x-1}{-1} \Rightarrow -2x + 1$			الإجابة

س ١٥١ : ما نوع الدالة في الشكل المجاور؟			
			
زوجية	ب	فردية	ج
ليست فردية ولا زوجية	د	زوجية	ج
(أ) الدالة الزوجية متماثلة حول محور y			الحل

س ١٥٢ : أحد عوامل كثيرة الحدود الآتية $f(x) = x^3 - 7x^2 + 7x + 15$			
$x + 2$	ج	$x + 5$	أ
$x + 1$	د	$x + 3$	ب
(د) نجرب (د) $x + 1 = 0$ $x = -1$ $(-1)^3 - 7(-1)^2 + 7(-1) + 15 = 0$			الحل

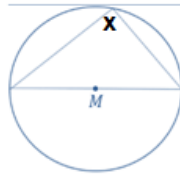
س ١٥٣ : محل يملك 5 أنواع من أحمر الشفاه ، كم ترتيب يمكن أن يرتبها بشكل دائري ؟			
5	د	120	ج
24	ب	25	أ
(ب) $4! = 4(3)(2)(1) = 24 = (n - 1)!$ = عدد الطرق			الحل

س ١٥٤ : أوجد قيمة $\sec^2 \theta - \tan^2 \theta = \dots\dots\dots$:			
$\frac{\sqrt{2}}{2}$	د	1	ج
0.5	ب	0	أ
(ج) $\sec^2 \theta = 1 + \tan^2 \theta \Rightarrow \sec^2 \theta - \tan^2 \theta = 1$			الحل

س١٥٥: ماقيمة x فيما يلي $3^{x-1} = 27$ ؟

أ	5	ج	3
ب	4	د	2
الحل (ب)			$3^{x-1} = 3^3 \rightarrow x-1 = 3 \rightarrow x = 4$

س١٥٦: احسب قيمة الزاوية x



أ	90	ب	180	ج	240	د	30
الحل (أ) الزاوية المحيطية المقابلة للقطر تكون قائمة							

س١٥٧: العبارة إذا كانت $\angle 1 < \angle 2$, زاويتان تشتركان في نقطة فإنهما متجاورتان, أي مما يلي مضاد لهذه العبارة؟

أ		ب	
ج		د	
الحل (ج) متقابلتان بالرأس			

س١٥٨: ما عدد عناصر فضاء العينة في تجربة القاء مكعب أرقام وقطعة نقود؟

أ	8	ب	12	ج	14	د	17
الحل (ب) $6(2) = 12$							

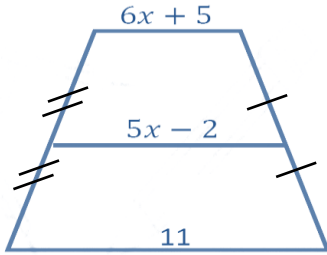
س ١٥٩: الصورة الأسية للمتباينة $\log_2 x \geq 3$:

$x \geq 2^3$	ج	$x \geq 3^2$	أ
$x \leq 2^3$	د	$x \leq 3^2$	ب
$\log_2 x \geq 3 \rightarrow x \geq 2^3$			الحل (ج)

س ١٦٠: ما الدالة الزوجية من الدوال التالية؟

$f(x) = \sin x$	ب	$f(x) = \cos x$	أ
$f(x) = \csc x$	د	$f(x) = \tan x$	ج
$f(x) = \cos x$, $f(x) = \sec x$ زوجيتان (أ)			الحل

س ١٦١: إذا كان الشكل يمثل شبه منحرفاً أوجد قيمة x :

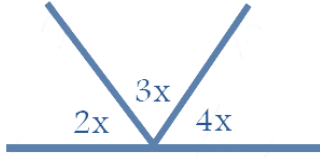


7	ج	4	أ
6	د	5	ب
$6x + 5 + 11 = 2(5x - 2)$ $6x + 16 = 10x - 4$ $20 = 4x$ $5 = x$			الحل (ب)

س ١٦٢: أوجد قيمة x : $\sqrt{x-1} + 3 = 6$

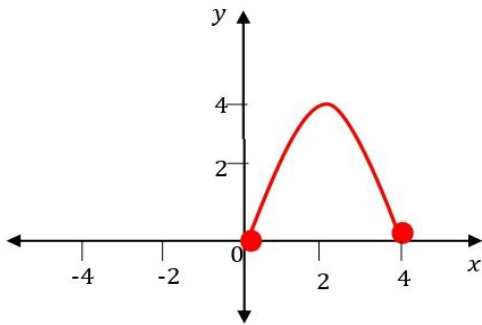
4	د	3	ج	28	ب	10	أ
$\sqrt{x-1} = 3 \Rightarrow x-1 = 9 \Rightarrow x = 10$							الحل (أ)

س ١٦٣: قيمة x في الشكل المقابل ؟



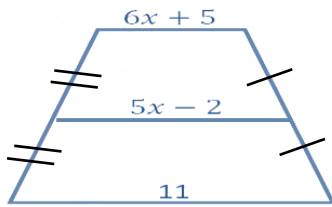
أ	20	ج	180
ب	40	د	90
الحل			(أ)
$2x + 3x + 4x = 180$ $\frac{9x}{9} = \frac{180}{9} \quad x = 20$			

س ١٦٤: ما مدى الدالة f الممثلة في الشكل المجاور ؟



أ	$(0, 4)$	ب	$(0, 4)$	ج	$[0, 4]$	د	$(-4, 4) \{0\}$
الحل							(ج) = المدى على محور y

س ١٦٥: اوجد طول القطعة المتوسطة إذا كان الشكل شبه منحرف..



أ	25	ج	15
ب	16	د	23
الحل			(د)
$6x + 5 + 11 = 2(5x - 2)$ $6x + 16 = 10x - 4$ $20 = 4x \quad x = 5$ $\text{طول القطعة المتوسطة} = 5x - 2 = 5(5) - 2 = 23$			

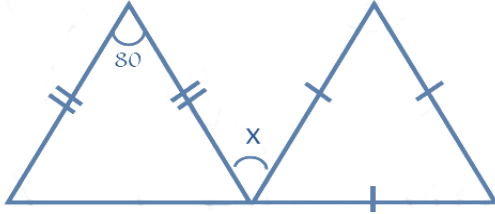
س١٦٦: ما القيمة الدقيقة لـ $\cos(30 - \theta) \cos \theta - \sin(30 - \theta) \sin \theta$ ؟

أ	$\frac{1}{2}$	ب	$\frac{\sqrt{3}}{2}$	ج	$-\frac{1}{2}$	د	$-\frac{\sqrt{3}}{2}$
الحل							(ب) $\cos(30 - \theta + \theta) = \cos 30 = \frac{\sqrt{3}}{2}$

س١٦٧: أي من الآتي دالة فردية؟

أ	$f(x) = x^7$	ب	$f(x) = x^5 $	
ج	$f(x) = \sqrt{x+3}$	د	$f(x) = x^2 + 3$	
الحل				(أ) x^7 الأسس فردي

س١٦٨: ما قيمة x في الشكل ؟



أ	60	ج	70	
ب	180	د	110	
الحل				(ج) Δ المتطابق الأضلاع كل زاوية 60° وكل زاوية في المثلث اليسار $\frac{180 - 80}{2} = 50$ $x = 180 - (50 + 60) = 180 - 110 = 70^\circ$

س١٦٩: إذا كانت المصفوفة $A = \begin{bmatrix} 0 & 1 \\ 1 & 0 \end{bmatrix}$ فإن A^{-1} تساوي.....

أ	$\begin{bmatrix} 0 & 2 \\ 2 & 0 \end{bmatrix}$	ب	$\begin{bmatrix} 0 & 0 \\ 0 & 0 \end{bmatrix}$	ج	$\begin{bmatrix} 0 & 1 \\ 1 & 0 \end{bmatrix}$	د	$\begin{bmatrix} 0 & -1 \\ -1 & 0 \end{bmatrix}$
الحل							(ج)



قدرات
Ghasham23



تحميلي
Ghasham22



قدرات وتحميلي
Ghasham_22

س ١٧٠: مثلث متطابق الضلعين طول أحد ضلعيه يساوي 10 cm ، فإن طول ضلعه الثالث يساوي....

أ	18	ب	20	ج	40	د	21
الحل	(أ) $10 + 10 < \text{الثالث} < 10 - 10$						

س ١٧١: إذا كان طول ضلعين في مثلث 9 cm . 7 cm فما أصغر عدد صحيح يمثل طول الضلع الثالث ؟

أ	2 cm	ب	4 cm	ج	3 cm	د	9 cm
الحل	(ج) $16 < \text{الثالث} < 2 \Rightarrow \text{المجموع} < \text{الثالث} < \text{الفرق}$						

س ١٧٢: أوجد الدالة العكسية لـ $f(x) = \frac{3x+2}{3}$:

أ	$\frac{3x-2}{3}$	ج	$14x^2$
ب	$\sqrt{9x}$	د	$\sqrt{x-3}$
الحل	(أ) $f(x) = \frac{3x+2}{3}$ $f^{-1}(x) = \frac{3x-2}{3}$ العكسية نغير إشارة (2) ونبدل معامل x مع المقام		

س ١٧٣: إذا كانت $A(1, 3)$ ، $B(0, 0)$ ، $C(5, -1)$ ، $D(6, 2)$ هي رؤوس متوازي الأضلاع ABCD ، فما نقطة تقاطع قطريه ؟

أ	(-2, 2)	ب	(3, 2)	ج	(2, 1)	د	(3, 1)
الحل	(د) $\text{نقطة التقاطع} = \frac{A+C}{2} = \left(\frac{1+5}{2}, \frac{3+(-1)}{2}\right) = (3, 1)$						

س ١٧٤: عند إزاحة النقطة (2, 6) وحدتين لليسار وثلاث وحدات للأسفل فإن النقطة الناتجة هي.....

أ	(-2, -6)	ب	(0, 3)	ج	(0, -3)	د	(4, 3)
الحل	(ب) $(2-2, 6-3) = (0, 3)$ الصورة						



قدرات
Ghasham23

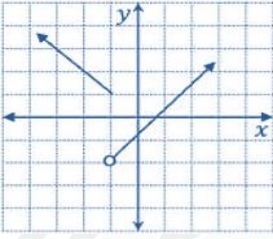
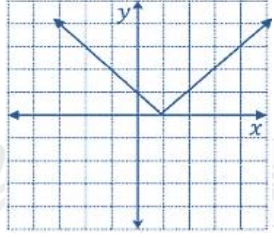
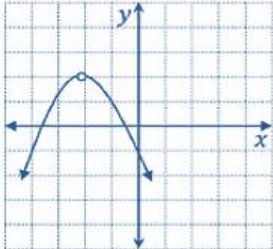
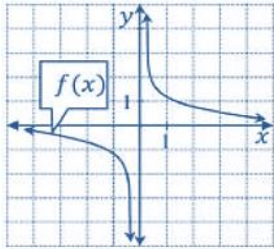


تحميلي
Ghasham22



قدرات وتحميلي
Ghasham22

س١٧٥: الدالة التي تمثل عدم اتصال قفزي هي

	ب.		أ
	د		ج
الحل (ب)			

س١٧٦: ما قيمة $\sum_{k=3}^{17} (2k - 1)$ ؟

361	د	285	ج	323	ب	266	أ
الحل (ج)							

$$\text{المجموع} = \frac{15(5 + 33)}{2} = \frac{15(38)}{2} = 15(19) = 285$$

س١٧٧: أوجد السعة وطول الدورة على الترتيب $4 \sin 5 \theta$ ؟

4 , 50	ج	5 , 180	أ
3 , 90	د	4 , 72	ب
الحل (ب)			

$$y = a \sin b \theta$$

$$\frac{360}{b} = \text{طول الدورة ، السعة } a = 4$$

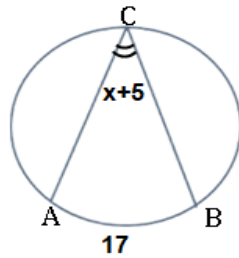
$$\frac{360}{5} = 72^\circ$$

س١٧٨: قيمة x° في الشكل المجاور.....



أ	20	ب	60	ج	40	د	80
الحل							$x = 180 - (70 + 90) = 20$ (أ)

س١٧٩: أوجد قيمة x :



$$m(AB) = 17$$

أ	4	ج	3.5
ب	2	د	16
الحل			(ج)
قياس الزاوية المحيطية = $\frac{1}{2}$ قياس القوس المقابل لها			
$x + 5 = \frac{17}{2} = 8.5$			
$x = 3.5$			

س١٨٠: عند رمي معكبي أرقام مرقمين 6 - 1 ما احتمال ظهور الرقم 5 إذا كان مجموع الوجهين الظاهرين 9 ؟

أ	1	ج	$\frac{1}{4}$
ب	$\frac{1}{2}$	د	$\frac{2}{5}$
الحل			(ب)
المجموع 9 = { (3, 6), (6, 3), (4, 5), (5, 4) }			
احتمال ظهور الرقم 5 = $\frac{2}{4} = \frac{1}{2}$			

س ١٨١: أوجد قيمة X° في الشكل المجاور

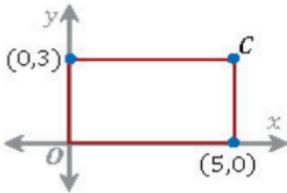


أ	25	ب	100	ج	120	د	50
الحل							(د) $2x - 50 = x \Rightarrow x = 50$ (محيطتان)

س ١٨٢: المستقيم المعامد للمستقيم $y = -\frac{3}{2}x + 7$

أ	$y = \frac{2}{3}x + 4$	ج	$y = \frac{3}{2}x + 4$
ب	$y = \frac{1}{4}x - 1$	د	$y = \frac{3}{4}x - 5$
الحل			(أ) ميل المستقيم المعطى $-\frac{3}{2}$ ، ميل المستقيم المطلوب $+\frac{2}{3}$ نقلت ونغير الإشارة لأن المستقيمان متعامدان

س ١٨٣: في المستطيل المجاور ماهي إحداثيات النقطة C ؟



أ	(3, 5)	ب	(5, 3)	ج	(3, 0)	د	(0, 5)
الحل							(ب) $c = (x, y) = (5, 3)$

س ١٨٤: في المصفوفة $A = \begin{bmatrix} K & -2 \\ 6 & 3 \end{bmatrix}$ فما قيمة K التي تجعل المصفوفة A ليس لها نظير ضربي؟

أ	3	ب	-4	ج	1	د	-9
الحل							(ب) $ A = 0 \Rightarrow 3k - (-12) = 0 \Rightarrow 3k = -12 \Rightarrow k = -4$

س ١٨٥: أوجد قيمة x $2^{6x-3} = 8^{-3}$

أ	-1	ج	1
ب	4	د	21
الحل		(أ)	
		$2^{6x-3} = 8^{-3} = (2^3)^{-3} = 2^{-9}$ $6x - 3 = -9$ $6x = -9 + 3$ $6x = -6$ $x = -1$	

س ١٨٦: مضلع رباعي زواياه متتابة حسابية، إذا كانت أصغر زاوية له هي 45 ، فما هي أكبر زاوية له ؟

أ	180	ب	135	ج	105	د	90
الحل		(ب)					
		$\frac{45 + x}{2} = \frac{360}{4} \Rightarrow 45 + x = 180 \Rightarrow x = 135$					

س ١٨٧: العبارة $\sqrt{\frac{\sqrt[3]{(x+1)^4(x^2+2x+1)}}{\sqrt[3]{x^8}}}$ حيث $x < 0$ ، تكافئ :

أ	$\sqrt{\frac{x^2 + 1}{x + 1}}$	ج	$\frac{\sqrt{x + 2}}{x + 1}$
ب	$\left \frac{x + 1}{x} \right $	د	$\frac{x(x + 1)}{x}$
الحل		(ب)	
		$= \sqrt{\frac{\sqrt[3]{(x+1)^4(x+1)^2}}{\sqrt[3]{x^6}}}$ $= \sqrt{\frac{\sqrt[3]{(x+1)^6}}{\sqrt[3]{x^6}}}$ $= \sqrt{\frac{(x+1)^2}{x^2}} = \left \frac{x+1}{x} \right $	

س ١٨٨ : النهاية							تساوي ؟		$\lim_{x \rightarrow \infty} \frac{10x^4 - 2}{5x^4 + 3x^3 - 2x}$	
أ	ب	ج	د	١٥	١٠	٣	٢	١	٣	
الحل							(ج) النهاية = $\frac{\text{المعامل الرئيس في البسط}}{\text{المعامل الرئيس في المقام}}$			
							$\lim_{x \rightarrow \infty} \frac{10x^4 - 2}{5x^4 + 3x^3 - 2x} = \frac{10}{5} = 2$			

س ١٨٩ : في الشكل المجاور النظرية أو المسلمة التي يمكن استخدامها لإثبات أن $\triangle ABE \cong \triangle DCE$ هي :								
أ	ب	ج	د	SAS	ASA	SSS	AAS	
الحل							(ب) ASA من حالات التطابق زاويتان والضلع المحور بينهما	

س ١٩٠ : أوجد قيمة x في الشكل المجاور ...								
أ	ب	ج	د	١٢	٨	٩	٣	
الحل							(أ) اعتبرها متتابعة حسابية (14, 18, 22) $2x - 2 = 22 \Rightarrow x = 12$	

س ١٩١ : في الجدول أدناه ما العلاقة بين x و y ؟							<table border="1"> <tr> <td>X</td> <td>1</td> <td>2</td> <td>3</td> <td>4</td> <td>5</td> </tr> <tr> <td>y</td> <td>5</td> <td>8</td> <td>11</td> <td>14</td> <td>17</td> </tr> </table>		X	1	2	3	4	5	y	5	8	11	14	17
X	1	2	3	4	5															
y	5	8	11	14	17															
أ	ب	ج	د	$y = 3x - 2$	$y = 4x - 1$	$y = 3x + 2$	$y = x + 4$													
الحل							(ج) تجربة الخيارات													



قدرات
Ghasham23



تحميلي
Ghasham22



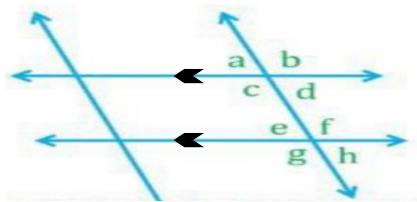
قدرات وتحميلي
Ghasham22

س١٩٢: ما العامل المشترك في $y^3 - y^2 - 2y$ ؟

$y - 1$	ج	y^2	أ
$y + 2$	د	y	ب
$y(y^2 - y - 2)$ (ب) أقل أس			الحل

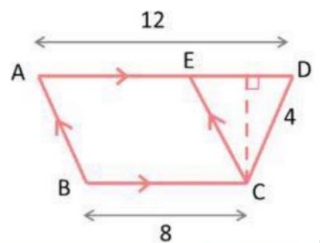
س١٩٣: إذا كان $A = \begin{bmatrix} 5 & 1 \\ 8 & 3 \\ 6 & 2 \end{bmatrix}$ ، $B = \begin{bmatrix} 0 & -5 \\ 1 & 4 \\ -2 & 3 \end{bmatrix}$ فأى من العمليات الآتية على A, B يكون ناتجها $\begin{bmatrix} 5 & 11 \\ 6 & -5 \\ 10 & -4 \end{bmatrix}$ ؟

$2A - B$	د	$2A + B$	ج	$A - 2B$	ب	$A + 2B$	أ
(ب) تجربة الخيارات							الحل



س١٩٤: أوجد مجموع $a + d + f + g$

270	د	340	ج	180	ب	360	أ
$d + f = 180 \Rightarrow a + g = 180 \Rightarrow a + d + f + g = 360$							الحل (أ)



س١٩٥: في الشكل المجاور اذا اخترت نقطة عشوائيا داخل شبه منحرف $ABCD$ ،

فما احتمال أن تقع داخل متوازي الأضلاع $ABCE$ ؟

40%	د	20%	ج	60%	ب	80%	أ
$p = \frac{\text{مساحة } ABCE}{\text{مساحة الشكل } ABCD} = \frac{8(h)}{\frac{(8+12)}{2}(h)} = \frac{8}{10} = 80\%$							الحل (أ)

س ١٩٦ : ما قيمة النهاية ؟ $\lim_{b \rightarrow 0} \frac{\sqrt{2-b}-\sqrt{2}}{b}$

أ	$\frac{-\sqrt{2}}{4}$	ب	$\frac{\sqrt{2}}{2}$	ج	0	د	$\frac{1}{2}$
(أ)							
$= \lim_{b \rightarrow 0} \frac{\sqrt{2-b}-\sqrt{2}}{b} \cdot \frac{\sqrt{2-b}+\sqrt{2}}{\sqrt{2-b}+\sqrt{2}}$ $= \frac{2-b-2}{b(\sqrt{2-b}+\sqrt{2})} = \frac{-1}{\sqrt{2}+\sqrt{2}} = \frac{-1}{2\sqrt{2}} = -\frac{\sqrt{2}}{4}$							
الحل							

س ١٩٧ : أوجد السرعة المتجهة اللحظية لـ $f(t) = 1 + 55t - 3t^3$

أ	$55 - 27t^2$	ب	$55 - 9t^2$	ج	$56 - 3t^2$	د	$55 - 6t^2$
(ب) $v(t) = f'(t) = 55 - 9t^2$							
الحل							

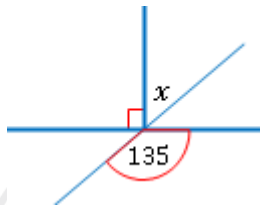
س ١٩٨ : أوجد مجموع المتسلسلة الهندسية التالية : $\sum_{K=1}^{\infty} \left(\frac{2}{3}\right)^{K-2}$

أ	$\frac{9}{2}$	ج	$\frac{3}{2}$
ب	$\frac{34}{8}$	د	$\frac{5}{16}$
(أ)			
$k = 1 \rightarrow a_1 = \left(\frac{2}{3}\right)^{1-2} = \left(\frac{2}{3}\right)^{-1} = \frac{3}{2}$ $r = \frac{2}{3} \rightarrow S_{\infty} = \frac{a_1}{1-r} = \frac{\frac{3}{2}}{1-\frac{2}{3}} = \frac{\frac{3}{2}}{\frac{1}{3}} = \frac{9}{2}$			
الحل			

س ١٩٩ : متتابعة هندسة مجموع حدودها الثلاثة الأولى = 26 ، مجموع حدودها الثلاثة التالية 702 ، ما أساسها ؟

أ	27	ب	3	ج	$\frac{1}{27}$	د	$\frac{1}{3}$
(ب) نستبعد ج ، د لأنها ستكون تناقصية ونستبعد (أ) لأن ناتج الجمع سيكون كبير جداً							
الحل							

س ٢٠٠ : أوجد قيمة x في الشكل المجاور.....

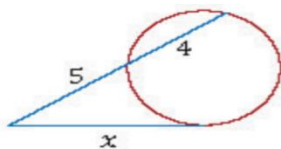


أ	50	ب	45	ج	60	د	55
التقابل بالراس (ب)							الحل
$x + 90 = 135 \Rightarrow x = 135 - 90 = 45$							

س ٢٠١ : أي من النقاط التالية تقع في منطقة حل المتباينة التالية $x - 2y \leq 1$ ؟

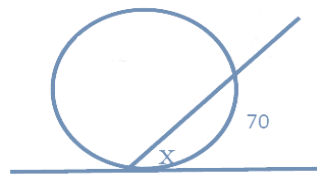
أ	(2, 1)	ج	(5, 1)
ب	(6, 2)	د	(3, 0)
الحل			
(أ) بالتجريب			
$y = 1, x = 2$			
$2 - 2(1) \leq 1$			
$0 \leq 1$ صحيحة			

س ٢٠٢ : ما قيمة x في الشكل المجاور؟



أ	20	ب	$3\sqrt{5}$	ج	36	د	9
الحل							
$x^2 = 5(5 + 4) \Rightarrow x^2 = 5(9) \Rightarrow x = \sqrt{5(9)} = 3\sqrt{5}$ (ب)							

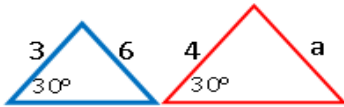
س ٢٠٣ : من الشكل المجاور أوجد قيمة x :



أ	70	ج	45
ب	15	د	35
الحل			
قياس الزاوية المماسية يساوي نصف قياس القوس المقابل لها (د) $x = \frac{70}{2} = 35$			

س٢٠٤: أوجد معادلة المماس للدالة $y = x^2 - 4x + 2$ ؟							
أ	$-4x$	ب	$2x - 4$	ج	$x^2 - 4$	د	$2x + 4$
الحل (ب) $y' = 2x - 4$ المعادلة							

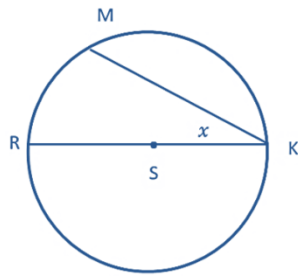
س٢٠٥: أوجد قيمة x فيما يلي : $6^{(4x-2)} = 36$							
أ	5	ج	6	ب	4	د	1
الحل (د)							
$6^{4x-2} = 6^2$ $4x - 2 = 2 \rightarrow 4x = 4 \rightarrow x = 1$							

س٢٠٦: في الشكل المجاور مثلثان متشابهان ، ما قيمة a ؟							
							
أ	8	ب	6	ج	9	د	7
الحل (أ)							
$\frac{4}{3} = \frac{a}{6} \Rightarrow a = \frac{4(6)}{3} = 8$							

س٢٠٧: أوجد قيمة x التي تحقق المعادلة $1 + 2 \log_2(x + 1) = 5$ ؟							
أ	3	ج	1	ب	-3	د	2
الحل (أ)							
$2 \log_2(x + 1) = 5 - 1 = 4$ $\log_2(x + 1) = 2, \quad x + 1 = 2^2 = 4$ $x = 3$							

س٢٠٨: مجموع قياسات الزوايا الداخلية لمضلع سداسي =							
أ	540	ب	720	ج	360	د	900
الحل (ب) $(n - 2)180 = (6 - 2)180 = 720$ = مجموع الزوايا							





س٢٠٩: في الشكل التالي قطر في الدائرة S ،

فإذا كان $m \widehat{RM} = 60^\circ$ ، فما قيمة x ؟

40°

د

60°

2022v ج

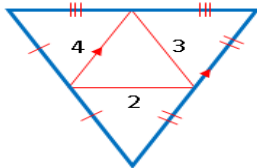
120°

ب

30°

أ

الحل (أ) قياس المحيطية = نصف القوس $x = \frac{60}{2} = 30$



س٢١٠: احسب محيط المثلث الكبير

24

د

20

ج

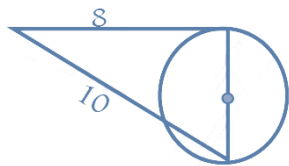
16

ب

18

أ

الحل (أ) محيط المثلث الكبير = ضعف محيط الصغير $2(3 + 4 + 2) = 18$



س٢١١: اوجد طول نصف قطر الدائرة :

2

ج

6

أ

8

د

3

ب

الحل (ب) من ثلاثيات فيثاغورس 6, 8, 10
القطر = 6 ، نصف القطر = 3

س٢١٢: ما هو فضاء العينة لسحب بطاقتين مع الاحلال مرقمه من واحد الى ثمانية؟

16

د

34

ج

32

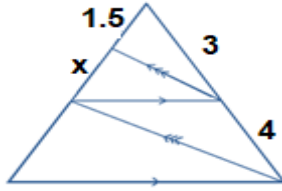
ب

64

أ

الحل (أ) $n = 8(8) = 64$

س٢١٣: أوجد x في الشكل التالي



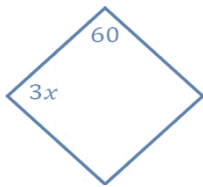
أ	3.5	ب	3	ج	2	د	1
(ج)							الحل
$\frac{3}{4} = \frac{1.5}{x} \Rightarrow x = \frac{4(1.5)}{3} = \frac{6}{3} = 2$							

س٢١٤: إذا كان لا يوجد للمصفوفة نظير ضربي فأوجد $x^2 + y^2$ ؟

$$\begin{bmatrix} 2x & -2y \\ y & x \end{bmatrix}$$

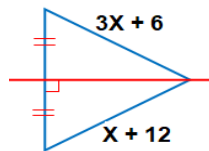
أ	2	ب	4	ج	0	د	1
(ج)							الحل
$2x(x) - 2y(y) = 0$							
$2x^2 + 2y^2 = 0 \div 2$							
$x^2 + y^2 = 0$							

س٢١٥: إذا كان الشكل معين ، فأوجد x :

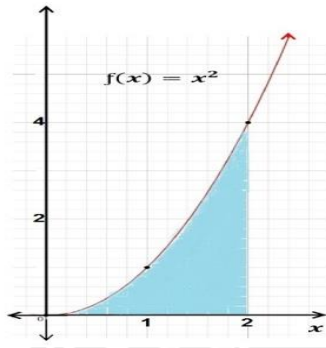


أ	20	ب	40	ج	10	د	15
(ب)							الحل
من خصائص المعين $3x + 60 = 180$							
$\rightarrow x = 40$							

س٢١٦: ما قيمة x في الشكل المجاور؟



أ	3	ب	6	ج	12	د	9
(أ)							الحل
$3x + 6 = x + 12 \Rightarrow 2x = 6 \Rightarrow x = 3$							

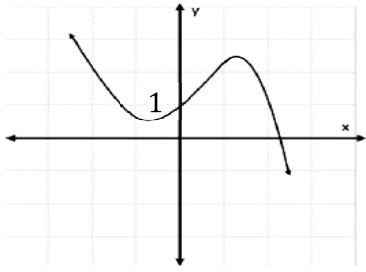


س٢١٧ : في الشكل المجاور : المساحة المحصورة بين

منحني الدالة $f(x) = x^2$ ومحور x في الفترة $[0, 2]$

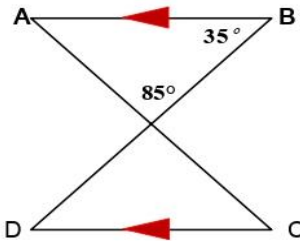
تساوي وحدة مساحة .

أ	$\frac{1}{3}$	ب	2	ج	$\frac{8}{3}$	د	4
(ج)							الحل
$A = \int_0^2 x^2 dx = \left[\frac{x^3}{3} \right]_0^2 = \frac{8}{3} - 0 = \frac{8}{3}$							



س٢١٨ : عند أي نقطة يقطع منحنى الدالة محور y في الشكل المجاور ؟

أ	(0, 2)	ج	(2, 0)
ب	(0, 1)	د	(1, 0)
(ب)			الحل



س٢١٩ : في الشكل المجاور : $m \angle C$ يساوي.....

أ	85°	ب	60°	ج	50°	د	35°
(ب)							الحل
$m\angle C = m\angle A = 180 - (85 + 35) = 60$							

س٢٢٠: ما قيمة $(2 - 6i)(2 + 6i)$ ؟

أ	36	ج	24
ب	30	د	40

الحل
 $= 2^2 + 6^2 = 4 + 36 = 40$ (د)
 عددان مركبان مرافقان

س٢٢١: إذا كان $f(3) = 6$ و $g(2) = 3$ ، فأوجد $f \circ g(2)$:

أ	6	ج	3
ب	4	د	17

الحل (أ)
 $(f \circ g)(2) = f(g(2)) = f(3) = 6$

س٢٢٢: ما أبسط صورة للمقدار $\left(\frac{x(x^2+3x-18)}{(x+3)(x-4)} \div \frac{x(x+6)}{x+3} \right)$ ؟

أ	$\frac{x-3}{x-4}$	ب	$\frac{x+3}{x-4}$	ج	$\frac{x-3}{x+4}$	د	$\frac{x+3}{x+4}$
---	-------------------	---	-------------------	---	-------------------	---	-------------------

الحل (أ)
 $\frac{x(x+6)(x-3)}{(x+3)(x-4)} \cdot \left(\frac{x+3}{x(x+6)} \right) = \frac{(x-3)}{(x-4)}$

س٢٢٣: شخص لديه 3 جيوب في قميصه و 4 قطع من النقود ، كم طريقة ممكن أن يضع القطع في جميع جيوبه ؟

أ	81	ج	4
ب	12	د	9

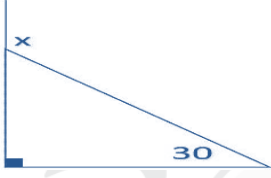
الحل (أ)
 القطعة الأولى لها 3 فرص وهكذا الثانية والثالثة والرابعة
 $3 \times 3 \times 3 \times 3 = 3^4 = 81$

س٢٢٤: التمثيل البياني للدالة التي لها 3 أصفار حقيقية هو....

أ		ب		ج		د	
---	--	---	--	---	--	---	--

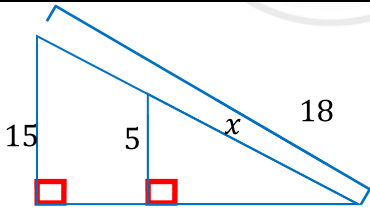
الحل (ب) الأصفار هي نقطة تقاطع المنحنى مع محور x

س٢٢٥: احسب قياس الزاوية الخارجية في الشكل المجاور.....



أ	60	ب	30	ج	90	د	120
الحل							(د)
$x = 90 + 30 = 120$							

س٢٢٦: أوجد طول الضلع x :



أ	12	ب	6	ج	24	د	8
الحل							(ب) $\frac{5}{15} = \frac{x}{18} \Rightarrow x = 6$ من التشابه

س٢٢٧: ما مقدار $\cot^2 \theta \sin^2 \theta$ ؟

أ	$\cos^2 \theta$	ج	$\sin^2 \theta$
ب	$\frac{\sin^4}{\cos^2}$	د	$\tan^2 \theta$
الحل			
$= \frac{\cos^2 \theta}{\sin^2 \theta} \cdot \sin^2 \theta = \cos^2 \theta$ (أ)			

س٢٢٨: ما قيمة x في الشكل المجاور؟



أ	5	ب	8	ج	10	د	20
الحل							(د) المثلث متساوي الساقين $40 = 2x \Rightarrow x = 20$

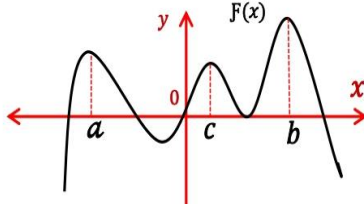
س٢٢٩: إذا كانت قيمة السهم عند الاكتتاب لأحدى الشركات 90 ريال , وبعد ثلاثة أشهر من تاريخ الاكتتاب أصبحت قيمة السهم 96 ريال فإذا افترضنا أن قيمة السهم على شكل متتابعة حسابية شهرية , فإن القيمة المتوقعة للسهم بالريال بعد سبعة أشهر من تاريخ الاكتتاب....

أ	100	ب	102	ج	104	د	106	
الحل							(ج)	104

س٢٣٠: $(1 - \cot^2 \theta) \sin^2 \theta$ تساوي :

أ	$\sin^2 \theta - \cos^2 \theta$	ج	$\cos \theta \sin \theta$
ب	$\cos^2 \theta$	د	$\sec \theta$
الحل			(أ)
توزيع			$= \sin^2 \theta - \sin^2 \theta \frac{\cos^2 \theta}{\sin^2 \theta}$
			$= \sin^2 \theta - \cos^2 \theta$

س٢٣١: في الشكل المجاور تكون $f(c)$ في الفترة (a, b) قيمة



أ	صغرى مطلقة	ب	صغرى محلية	ج	عظمى مطلقة	د	عظمى محلية
الحل							(د)

س٢٣٢: إذا كان $a + b = 90$ و $a + c = 180$ فأي مما يلي صحيح ؟

أ	$b = c$	ج	$b < c$
ب	$b > c$	د	$b = c = a$
الحل			(ج)
بالطرح			$c - b = 180 - 90 = 90 > 0$
			$c > b$



قدرات
Ghasham23



تحميلي
Ghasham22



قدرات وتحميلي
Ghasham_22

س٢٣٣: ما مدى الدالة $f(x) = 2\sqrt{x^2} + 3$ ؟

أ	$[3, \infty)$	ب	$(2, \infty)$	ج	$(-3, \infty)$	د	$[-3, 2]$
(أ)							الحل
$f(x) = 2 x + 3 \Rightarrow$ الرأس $= (0, 3) \Rightarrow$ المدى $[3, \infty)$							

س٢٣٤: أوجد عدد الأصفار الحقيقية في الفترة $[-2, 3]$ ؟

-2	-1	0	1	2	3
-5	-2	1	-3	4	-5

أ	2	ج	3
ب	4	د	5
(ب) عدد مرات تغير الإشارة بالصف الثاني من الجدول			الحل

س٢٣٥: القيمة الدقيقة لـ $\cos 75^\circ$ تساوي

أ	$\frac{\sqrt{6} - \sqrt{2}}{4}$	ب	$\frac{\sqrt{6} + \sqrt{2}}{4}$	ج	$\frac{\sqrt{6} - \sqrt{2}}{2}$	د	$\frac{\sqrt{6} + \sqrt{2}}{8}$
(أ)							الحل
$\cos(45 + 30) = \cos 45 \cos 30 - \sin 45 \sin 30 = \frac{\sqrt{2}}{2} \cdot \frac{\sqrt{3}}{2} - \frac{\sqrt{2}}{2} \cdot \frac{1}{2} = \frac{\sqrt{6} - \sqrt{2}}{4}$							

س٢٣٦: القيمة الدقيقة لـ $\sin 15^\circ$ تساوي

أ	$\frac{\sqrt{6} - \sqrt{2}}{4}$	ب	$\frac{\sqrt{6} + \sqrt{2}}{4}$	ج	$\frac{\sqrt{6} - \sqrt{2}}{2}$	د	$\frac{\sqrt{6} + \sqrt{2}}{8}$
(أ)							الحل
$\sin 15 = \cos 75 = \frac{\sqrt{6} - \sqrt{2}}{4}$							

س٢٣٧: إذا كانت الزاويتان A و B متتامتين , وكانت $A = 40^\circ$ ، فما قياس الزاوية B ؟

أ	30	ب	50	ج	40	د	60
(ب) الزاويتان المتتامتان مجموعهما 90 $\Rightarrow B = 90 - 40 = 50$							الحل



قدرات
Ghasham23

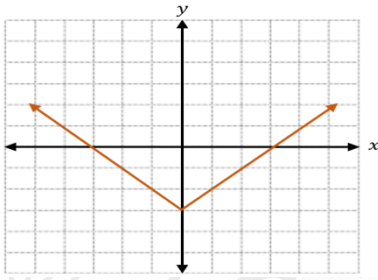


تحميلي
Ghasham22



قدرات وتحميلي
Ghasham_22

س ٢٣٨: ما الدالة الرئيسية (الأم) للدالة الموضحة في الشكل المجاور ؟



$$y = |x - 3|$$

ج

$$y = |x| + 3$$

أ

$$y = |x| - 3$$

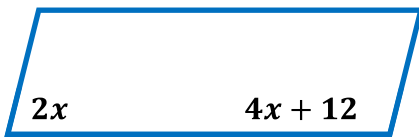
د

$$y = |x|$$

ب

الحل (ب) إزاحة لأسفل 3 وحدات من الدالة الأم

س ٢٣٩: أحسب قيمة x في متوازي الاضلاع في الشكل المجاور.....



20

د

12

ج

22

ب

28

أ

$$4x + 12 + 2x = 180 \Rightarrow 6x = 168 \Rightarrow x = 28$$

(أ)

الحل

س ٢٤٠: أي مما يلي يعد وصفاً مناسباً للتمثيل البياني للمعادلتين :

$$y = 3x - 6 \quad , \quad 3y = 9x + 27$$

مستقيمان لهما المقطع y نفسه

ج

مستقيمان متعامدان

أ

مستقيمان لهما المقطع x نفسه

د

مستقيمان متوازيان

ب

(ب)

$$y = 3x - 6 \quad 3y = 9x + 27$$

$$m_1 = 3$$

$$y = 3x + 9$$

$$m_2 = 3$$

$$m_1 = m_2 \text{ المستقيمان متوازيان}$$

الحل

س ٢٤١: إذا كان $V = \langle b, -3, 1 \rangle$ ، $u = \langle -2, -1, 3 \rangle$ ، فما قيمة b التي تجعل المتجهتين u ، v متعامدين ؟

6

د

3

ج

-3

ب

-6

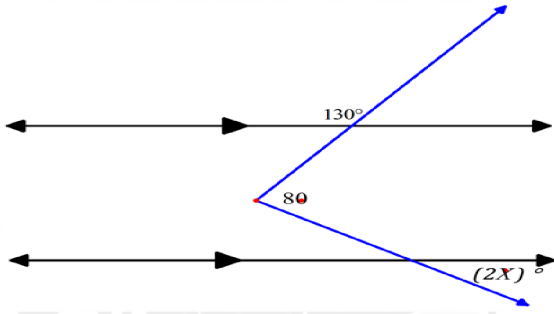
أ

$$u \cdot v = 0 \Rightarrow -2b + 3 + 3 = 0 \Rightarrow 2b = 6 \Rightarrow b = 3$$

(ج)

الحل

س ٢٤٢ : في الشكل الآتي ، ما قيمة x ؟



25

ب

15

أ

50

د

30

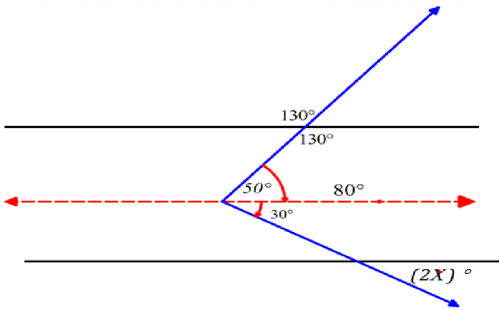
ج

(أ)

$$2x = 30$$

$$x = 15$$

الإجابة



س ٢٤٣ : إذا كان $x^4 - 8 = 0$ ، فما عدد الجذور التخيلية ؟

2

ب

0

أ

4

د

3

ج

الإجابة

(ب) بملاحظة تغير الإشارة
ديكارت للإشارات $x^4 - 8 = 0$
+ -
* عدد الجذور الموجبة ١ ، عدد الجذور السالبة ١ ، عدد الجذور التحيلية $4 - 2 = 2$

س ٢٤٤ : إذا كانت $f(x) = ax^4 - bx^2 + x + 5$ حيث a, b عدنان حقيقيان ، $f(-3) = 2$ ، فما قيمة $f(3)$ ؟

-2

ب

-5

أ

8

د

2

ج

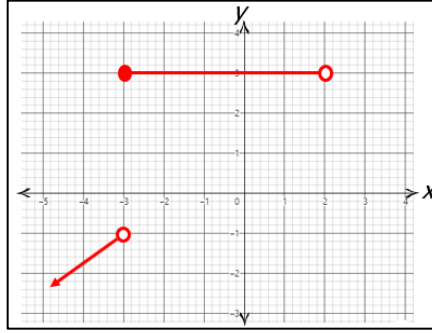
الإجابة

(د) بالتعويض في آخر حدين $x + 5$
 $f(-3) = 2$ ، $f(3) = 8$

س٢٤٥ : أي الدوال التالية لها خط تقارب رأسي عند $x = 2$ وخط تقارب أفقي عند $y = 6$ ؟

$f(x) = \frac{6x + 1}{(x + 2)(x - 2)}$	ب	$f(x) = \frac{(2x + 4)(3x + 6)}{x^2 - 4}$	أ
$f(x) = \frac{(2x + 4)(3x + 6)}{x^2 + 4}$	د	$f(x) = \frac{6x^3 + x - 2}{(x + 2)(x - 4)}$	ج
<p>(أ) * خط التقارب الرأسي هو أصفار المقام ما لم يكن نقطة انفصال رأسي $x^2 - 4 = 0 \rightarrow x^2 = 4 \rightarrow x = \pm 2$ درجة البسط = درجة المقام $y = \frac{(2x)(3x)}{x^2} = 6$ المعامل الرئيسي / المعامل الرئيسي</p>			الإجابة

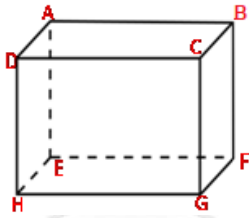
س٢٤٦ : ما مجال الدالة $f(x)$ ؟



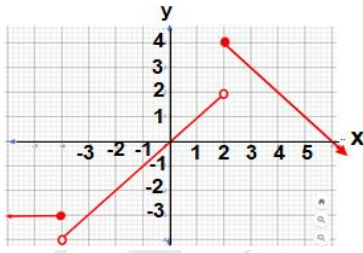
$(-\infty, -3) \cup (-3, 2)$	ب	$(-\infty, 2]$	أ
$R - (2, \infty)$	د	$(-\infty, 2)$	ج
(ج) $(-\infty, 2)$ من الرسم			الإجابة

س٢٤٧ : في الشكل المجاور ، متوازي مستطيلات

أي زوج من القطع المستقيمة متخالفة؟



$\overline{BF}, \overline{DH}$	ب	$\overline{BC}, \overline{FG}$	أ
$\overline{BC}, \overline{EF}$	د	$\overline{HG}, \overline{DH}$	ج
(د) $\overline{BC}, \overline{EF}$ المستقيمان المتخالفان لا يقعان في مستوى واحد			الإجابة



س٢٤٨ : في الشكل الآتي ، ما هو مدى الدالة المتعددة التعريف الممثلة بيانياً ؟

$\{y y \geq 4\}$	ب	$\{y 4 \geq y > -4\}$	أ
$\{y y \geq -4\}$	د	$\{y y \leq 4\}$	ج
(ج) من الرسم قيم y			الإجابة

س٢٤٩ : ما نوع القطع المخروطي الذي تمثله المعادلة $4x^2 - 3y^2 + 8y - 12 = 2x + 4y$ ؟

قطع مكافئ	أ	قطع زائد	ب
قطع ناقص	ج	دائرة	د
(ب)			الإجابة
$A = 4 \text{ معامل } X^2 \quad B^2 - 4AC = 0 - 4(4)(-3) = 48 > 0$ $B = 0 \text{ معامل } xY$ $C = -3 \text{ معامل } Y^2$ <p style="text-align: center;">قطع زائد</p>			

س٢٥٠ : أي الكميات الآتية كمية متجهة؟

سيارة تسير بسرعة $30km/h$	أ	دفع عربة بقوة مقدارها $70N$	ب
سقوط حجر رأسياً لأسفل بسرعة $9m/s$	ج	سباح قطع مسافة قدرها $800m$	د
(ج) الكمية المتجهة لها مقدار واتجاه			الإجابة

س٢٥١ : معادلة المستقيم العمودي على المستقيم الذي معادلته $y = 2x + 3$ هي

$y = 2x + \frac{1}{3}$	أ	$y = \frac{1}{2}x + \frac{1}{3}$	ب
$y = 2x - \frac{1}{3}$	ج	$y = -\frac{1}{2}x - 3$	د
(د) ميل المستقيم المعطى $= 2$ (معامل x) ، ميل المستقيم العمودي $= -\frac{1}{2}$			الإجابة
نبحث في الخيارات عن المستقيم الذي ميله $-\frac{1}{2}$			

س٢٥٢ : إذا كان $V = \langle 2, 0, -1 \rangle$ ، $u = \langle 1, -2, 0 \rangle$ متجهين فإن $u \times V$ يساوي:			
أ	$2i + j + 4k$	ب	$-2i + j - 4k$
ج	$2i - j + 4k$	د	$-2i - j - 4k$
الإجابة			(أ) الضرب الاتجاهي لمتجهين $\begin{vmatrix} i & j & k \\ 1 & -2 & 0 \\ 2 & 0 & -1 \end{vmatrix} = (2i + 0 + 0) - (0 - j - 4k) = 2i + j + 4k$

س٢٥٣ : معادلة المحور القاطع للقطع الزائد $1 = \frac{x^2}{4} - \frac{(y-3)^2}{9}$:			
أ	$y = -1$	ب	$x = 0$
ج	$y = 1$	د	$y = 3$
الإجابة			(د) معادلة المحور القاطع هي $y = k$ ، $y = 3$

س٢٥٤ : في اختبار مادة الرياضيات لشعبتين A, B كان المتوسط الحسابي لدرجات الطلاب 80 درجة للشعبين والانحراف المعياري لشعبة A هو 25.7 ، الانحراف المعياري لشعبة B هو 4.6 ، أي مما يلي يعتبر التحليل الاحصائي الصحيح للمعلومات في المسابقة؟			
أ	قدرات الطلاب في شعبة B أكثر تجانساً وقريبة من بعضها.	ب	شعبة B تضم طلاباً متفوقين جداً وطلاباً دون المتوسط بكثرة.
ج	شعبة A تضم طلاباً متوسطي القدرات بكثرة.	د	قدرات الطلاب في شعبة A أكثر تجانساً وقريبة من بعضها.
الإجابة			(أ) كلما قل الانحراف المعياري كلما كانت الدرجات أكثر تجانساً وقريبة من بعضها.

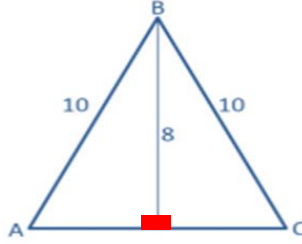
س٢٥٥ : ما قيمة x التي تجعل الدالة $f(x) = \frac{1}{x^2 - 4x + 4}$ غير معروفة؟			
أ	4	ب	2
ج	-2	د	-4
الإجابة			(ب) الدالة تكون غير معروفة عندما يكون المقام = صفر $\rightarrow x = 2x^2 - 4x + 4 = 0 \rightarrow (x - 2)(x - 2) = 0 \rightarrow$ حل آخر: بتجريب الخيارات التي تجعل المقام = صفر



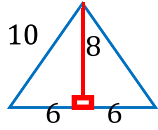
س٢٥٦ : ما العدد الذي ينتمي إلى مجموعة الأعداد غير النسبية I ؟

$\frac{22}{7}$	ب	$\sqrt{8}$	أ
0.32	د	$-\sqrt{121}$	ج
(أ) $\sqrt{8}$ من الجذور الصماء ← غير نسبية			الإجابة

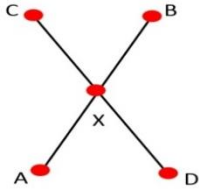
س٢٥٧ : أوجد طول AC



10	د	6	ج	8	ب	12	أ
<p>(أ) $10, 8, 6 \Rightarrow AC = 6 + 6 = 12$ ثلاثيات فيثاغورس 10, 8, 6</p>							الحل



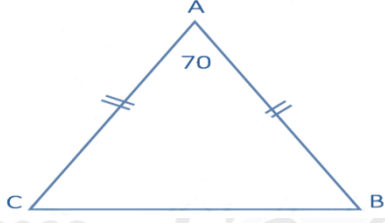
س٢٥٨ : في الشكل المجاور، إذا كان $\overline{DXAX} \cong \overline{DC}$ ، $\overline{AB} \cong \overline{DC}$

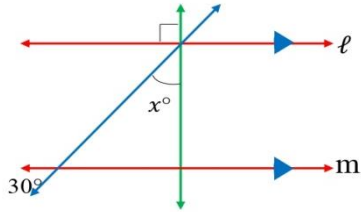


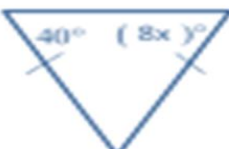
$\overline{BD} \cong \overline{DA}$	د	$\overline{DX} \cong \overline{XB}$	ج	$\overline{BX} \cong \overline{CX}$	ب	$\overline{AD} \cong \overline{BC}$	أ
$\overline{CD} \cong \overline{AB}$ ، $\overline{DX} \cong \overline{AX}$ بالطرح $\Rightarrow \overline{BX} \cong \overline{CX}$ (ب)							الحل

س٢٥٩ : إذا كان $f(x) = \frac{x-3}{5}$. فإن $f^{-1}(x)$ تساوي.....

$3x - 5$	د	$5x - 3$	ج	$\frac{5}{x-3}$	ب	$5x + 3$	أ
(أ) الدالة العكسية فيها نعكس الطرح يصبح جمع والقسمة على 5 تصبح ضرب في 5 $f^{-1}(x) \text{ of } f(x) = x \Rightarrow 5 \left(\frac{x-3}{5} \right) + 3 = x - 3 + 3 = x$							الحل

		<p>س ٢٦٠ : أوجد قياس الزاوية B علماً بأن $m \angle A = 70$ و $AB = AC$</p>		
أ	٦٠	ج	٣٠	
ب	٥٥	د	٤٠	
<p>الحل (ب) $m \angle b = \frac{180-70}{2} = \frac{110}{2} = 55^\circ$</p>				

		<p>س ٢٦١ : في الشكل المجاور : إذا كانت $l \parallel m$ ، فما قيمة x ؟</p>					
أ	١٥	ب	٣٠	ج	٦٠	د	٨٠
<p>الحل (ج) التناظر , الزاويتان المتقابلتان بالرأس , مجموع زوايا المثلث = 180</p>							

		<p>س ٢٦٢ : في الشكل المجاور ما قيمة x ؟</p>					
أ	٨	ب	٦	ج	٥	د	٤
<p>الحل (ج) $8x = 40 \Rightarrow x = \frac{40}{8} = 5$</p>							

<p>س ٢٦٣ : في المتتابعة الهندسية ... 4, 8, 16, 32 الأساس يساوي</p>							
أ	$\frac{1}{8}$	ب	٤	ج	٢	د	٨
<p>الحل (ج) $r = \frac{a_2}{a_1} = \frac{8}{4} = 2$ الأساس</p>							

س٢٦٤: ما قيمة المميز للمعادلة : $x^2 - 3x = 0$ ؟

أ	6	ج	9
ب	8	د	5
الحل			(ج)
$a = 1, b = -3, c = 0$ $\text{المميز} = b^2 - 4ac = (-3)^2 - 4(1)(0) = 9$			

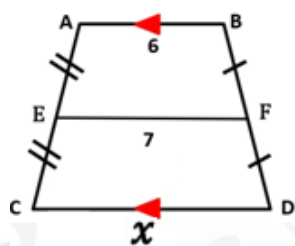
س٢٦٥: $A = \begin{bmatrix} 2x & 6 \\ 3 & 10 \end{bmatrix}$ ، أوجد قيمة x علما بأن $|A| = 42$:

أ	3	ب	5	ج	6	د	8
الحل							(أ)
$20x - 18 = 42 \Rightarrow 20x = 60 \Rightarrow x = 3$							

س٢٦٦: ما قيمة x في العبارة التالية : $\sqrt{2x - 1} + 3 = 6$ ؟

أ	5	ج	4
ب	6	د	9
الحل			(أ)
<p>تربيع الطرفين</p> $\sqrt{2x - 1} = 6 - 3 = 3$ $2x - 1 = 9, 2x = 10, x = \frac{10}{2} = 5$			

س٢٦٧: قيمة x في شبه المنحرف المجاور تساوي....



أ	13	ب	11	ج	8	د	9
الحل							(ج)
<p>اعتبرها متتابعة حسابية 6, 7, 8</p> $\frac{x+6}{2} = 7 \Rightarrow x = 14 - 6 = 8$							

س٢٦٨: في الشكل المجاور، ما قياس القوس CB ؟



160°

د

240°

ج

80°

ب


40°

أ

الحل (د) $m\widehat{CB} = 2(80) = 160$ (المحيطة) \Rightarrow قياس القوس = 2

س٢٦٩: مساحة المربع 9 cm^2 ومساحة الدائرة 3 cm^2 ،

ما احتمال أن تظهر نقطة على المساحة المظللة ؟



$\frac{1}{9}$

ج

$\frac{1}{3}$

أ

$\frac{2}{3}$

د

$\frac{2}{9}$

ب

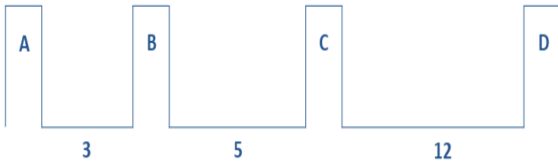
الحل (د)

$$\text{الاحتمال} = \frac{\text{مساحة المنطقة المظللة}}{\text{مساحة المربع}}$$

$$= \frac{9 - 3}{9} = \frac{6}{9} = \frac{2}{3}$$

س٢٧٠: في أحد القصور أردت وضع طاولة طعام بين الأعمدة،

ما احتمال أن يتم وضع طاولة الطعام بين العمودين D و B ؟



75%

د

85%

ج

45%

ب

60%

أ

الحل (ج) $P = \frac{BD}{AD} = \frac{17}{20} = 85\%$

س ٢٧١: مكعب مرقم من 1 إلى 6 ، رمي أول تسع مرات كانت كل الحوادث ظهور عدد زوجي ،
ما احتمال بالمرّة العاشرة ظهور عدد فردي ؟

أ	$\frac{1}{9}$	ب	$\frac{1}{3}$	ج	$\frac{1}{18}$	د	$\frac{1}{2}$
الحل							(د) $P(\text{فردى}) = \frac{1}{2}$

س ٢٧٢: ما قيمة المقدار $\log_{27} 81 = \dots$ ؟

أ	$\frac{1}{8}$	ج	$\frac{5}{36}$
ب	$\frac{4}{3}$	د	$\frac{1}{3}$
الحل			$\log_{27} 81 = \frac{\log 3^4}{\log 3^3} = \frac{4 \log 3}{3 \log 3} = \frac{4}{3}$ $\log_{27} 81 = \log_3^4 3 = \frac{4}{3}$

س ٢٧٣: متتابعة حسابية حدها العاشر يساوي 15 وحدها الأول يساوي -3 ، ما أساسها ؟

أ	2	ب	3	ج	4	د	5
الحل							(أ) $d = \frac{a_n - a_1}{n-1} \Rightarrow d = \frac{15 - (-3)}{10-1} = \frac{18}{9} = 2$

س 274: إذا كان $c = \langle -2, 7 \rangle$ ، $w = \langle 8, 4 \rangle$ ، $v = \langle 2, -5 \rangle$ ، $u = \langle -3, 6 \rangle$ ، فإن المتجهين المتعامدين هما :

أ	$v \cdot w$	ب	$u \cdot v$	ج	$u \cdot w$	د	$c \cdot w$
الحل							(ج) $u \cdot w = \langle -3, 6 \rangle \cdot \langle 8, 4 \rangle = -24 + 24 = 0$ (نحرب الخيارات)

س ٢٧٥: إذا كان $g(x) = x$ ، $f(x) = 3x - 3$ ، أوجد $(fog)(2) = \dots$

أ	3	ب	5	ج	6	د	8
الحل							(أ) $(fog)(x) = 3(x) - 3 \Rightarrow (fog)(2) = 3(2) - 3 = 3$



قدرات
Ghasham23



تحميلي
Ghasham22

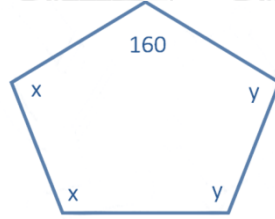


قدرات وتحميلي
Ghasham_22

س٢٧٦: ما معادلة المستقيم الذي ميله 4 ومقطع المحور y يساوي 5 ؟

$y = 4x + 5$	ب	$y = 5x + 4$	أ
$x = 5y + 4$	د	$x = 5y + 4$	ج
$y = mx + b \Rightarrow y = 4x + 5$ (ب)			الحل

س٢٧٧: أوجد قيمة $x + y$:



190	ج	180	أ
175	د	45	ب
$2x + 2y = 540 - 160$ $2x + 2y = 380 \quad (\div 2)$ $x + y = 190$			الحل (ج)

س٢٧٨: ما قيمة $\sin 135^\circ$ ؟

$\frac{\sqrt{3}}{2}$	د	$\frac{1}{2}$	ج	$-\frac{\sqrt{2}}{2}$	ب	$\frac{\sqrt{2}}{2}$	أ
$\sin 135 = \sin(180 - 45) = \sin 45 = \frac{\sqrt{2}}{2}$							الحل (أ)

س٢٧٩: ما مركز الدائرة التالي معادلتها : $(x - 2)^2 + (y + 1)^2 = 4$ ؟

$(-2, 1)$	ج	$(-2, -1)$	أ
$(2, 1)$	د	$(2, -1)$	ب
$(x - h)^2 + (y - k)^2 = r^2$ معادلة الدائرة نصف القطر r , المركز (h, k) $(h, k) = (2, -1)$			الحل (ب)

س ٢٨٠ : أي مما يلي هي معادلة المستقيم الذي يمر بالنقطة $(-2, 1)$ ويعامد المستقيم $y = \frac{1}{3}x + 5$ ؟			
أ	$y = 3x + 7$	ب	$y = \frac{1}{3}x + 7$
ج	$y = -\frac{1}{3}x - 5$	د	$y = -3x - 5$
الحل			(د)
= -3 ميل العمودي			

س ٢٨١ : إذا كان $A = \begin{bmatrix} 2 & 1 \\ 6 & 5 \end{bmatrix}$ ، $B = \begin{bmatrix} -1 & 3 \\ 1 & -2 \end{bmatrix}$ ، أوجد $2A - B$			
أ	$\begin{bmatrix} -1 & 5 \\ 11 & 12 \end{bmatrix}$	ج	$\begin{bmatrix} 3 & -1 \\ 6 & -2 \end{bmatrix}$
ب	$\begin{bmatrix} 5 & -1 \\ 11 & 12 \end{bmatrix}$	د	$\begin{bmatrix} 5 & -1 \\ 12 & 11 \end{bmatrix}$
الحل			(ب)
$2A - b = \begin{bmatrix} 4 & 2 \\ 12 & 10 \end{bmatrix} - \begin{bmatrix} -1 & 3 \\ 1 & -2 \end{bmatrix} = \begin{bmatrix} 5 & -1 \\ 11 & 12 \end{bmatrix}$			

س ٢٨٢ : ناتج جمع المصفوفتين $\begin{bmatrix} 8 & 5 \\ 0 & 2 \end{bmatrix} + \begin{bmatrix} 10 & -4 \\ 1 & -4 \end{bmatrix}$ يساوي			
أ	$\begin{bmatrix} 18 & 1 \\ 1 & -2 \end{bmatrix}$	ب	$\begin{bmatrix} 10 & 1 \\ 1 & 6 \end{bmatrix}$
ج	$\begin{bmatrix} 10 & 9 \\ 1 & -2 \end{bmatrix}$	د	$\begin{bmatrix} 10 & 9 \\ 1 & -2 \end{bmatrix}$
الحل			(أ)

س ٢٨٣ : ما قيمة $\log_2 \frac{1}{32}$ ؟			
أ	5	ب	-5
ج	$\frac{1}{5}$	د	$-\frac{1}{5}$
الحل			(ب)
$\log_2 2^{-5} = -5$			



س٢٨٤: أوجد حلول المعادلة : $x^2 - 6x = -10$			
$1 \pm i$	ج	$1 \pm 3i$	أ
$3 \pm i$	د	$3 \pm 3i$	ب
$x^2 - 6x + 10 = 0$ $a = 1 \quad b = -6 \quad c = 10$ $x = \frac{-b \pm \sqrt{b^2 - 4ac}}{2a} = \frac{6 \pm \sqrt{36 - 4(1)(10)}}{2(1)}$ $= \frac{6 \pm \sqrt{-4}}{2} = \frac{6 \pm 2i}{2} = 3 \pm i$			(د) الحل

س٢٨٥: ناتج $2 \begin{bmatrix} 3 & 5 \\ -6 & 0 \end{bmatrix} + 4 \begin{bmatrix} 9 & -1 \\ 2 & 3 \end{bmatrix}$ تساوي							
$\begin{bmatrix} 42 & -4 \\ 6 & 12 \end{bmatrix}$	د	$\begin{bmatrix} 10 & 9 \\ 1 & -2 \end{bmatrix}$	ج	$\begin{bmatrix} 27 & -5 \\ 12 & 0 \end{bmatrix}$	ب	$\begin{bmatrix} 42 & 6 \\ -4 & 12 \end{bmatrix}$	أ
$\begin{bmatrix} 6 & 10 \\ -12 & 0 \end{bmatrix} + \begin{bmatrix} 36 & -4 \\ 8 & 12 \end{bmatrix} = \begin{bmatrix} 42 & 6 \\ -4 & 12 \end{bmatrix}$							(أ) الحل

س٢٨٦: إذا كان $f(x) = \frac{1}{x-5}$ ، فأوجد مجال $f \circ g(x)$			
$R - \{-5\}$	ج	$\{x x \geq -2, x \neq 5\}$	أ
$R - \{5\}$	د	$\{x x \geq -2, x \neq 23\}$	ب
$f \circ g = \frac{1}{\sqrt{x+2} - 5}$ مجال الدالة g \cap مجال الناتج = مجال $f \circ g$ $\sqrt{x+2} - 5 \neq 0 \quad x \neq 23$ $x + 2 \geq 0 \quad , \quad x \geq -2$			(ب) الحل



س٢٨٧: ما العلاقة بين x و y ؟

x	y
10	6
12	5
30	2
60	1

أ	طردية	ج	ثابتة
ب	عكسية	د	تربيعية
الحل			(ب)
$30(2) = 60$ ، $12(5) = 60$ ، $10(6) = 60$ مقدار ثابت $xy =$ العلاقة عكسية			

س٢٨٨: الوسطان الهندسيان في المتتابعة الهندسية $1, \dots, \dots, 27$ هما :

أ	$-3, -9$	ب	$3, -9$	ج	$3, 9$	د	$9, 18$
الحل							(ج) $1, 3, 9, 27$

س٢٨٩: ماهي نقطة انفصال الدالة ؟ $\frac{x^2+x-6}{x+3}$

أ	$(-3, 5)$	ج	$(3, -5)$
ب	$(-3, -5)$	د	$(3, 5)$
الحل			(ب)
$\frac{(x+3)(x-2)}{x+3} = (x-2)$ $x+3 = 0 \quad x = -3$ $(-3, -5)$			

س٢٩٠: إذا كانت $A = \begin{bmatrix} 2 & -1 \\ 1 & 2 \end{bmatrix}$ ، فإن $A \times A$ يساوي....

أ	$\begin{bmatrix} 5 & -4 \\ 4 & 3 \end{bmatrix}$	ب	$\begin{bmatrix} 4 & 1 \\ 1 & 4 \end{bmatrix}$
ج	$\begin{bmatrix} 4 & -4 \\ 4 & 5 \end{bmatrix}$	د	$\begin{bmatrix} 3 & -4 \\ 4 & 3 \end{bmatrix}$
الحل			(د)
$\begin{bmatrix} 2 & -1 \\ 1 & 2 \end{bmatrix} \cdot \begin{bmatrix} 2 & -1 \\ 1 & 2 \end{bmatrix} = \begin{bmatrix} 3 & -4 \\ 4 & 3 \end{bmatrix}$			

س٢٩١ : $\cot^2 \theta (\tan^2 \theta + \sin^2 \theta)$

$\tan \theta$	ج	$1 + \cos^2 \theta$	أ
$\cot^2 \theta$	د	$\sin^2 \theta \cos^2 \theta$	ب

$\cot^2 \theta (\tan^2 \theta + \sin^2 \theta)$ $= \cot^2 \theta \tan^2 \theta + \frac{\cos^2 \theta}{\sin^2 \theta} \cdot \sin^2 \theta$ $= 1 + \cos^2 \theta$			(أ) الحل
---	--	--	-------------

س٢٩٢ : إذا كانت $f(x) = 4x - 4$ ، فإن $f(4)$ تساوي

4	د	12	ج	32	ب	24	أ
---	---	----	---	----	---	----	---

الحل (ج) $f(4) = 4(4) - 4 = 12$ بالتعويض						
--	--	--	--	--	--	--

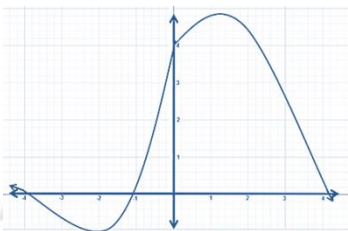
س٢٩٣ : ما قيمة x علماً بأن الشكل مستطيل ؟



17	ج	23	أ
19	د	16	ب

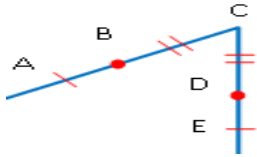
الشكل مستطيل ، إذن القطران متساويان وينصف كلًّا منها الآخر $x + 3 = 19$ $x = 19 - 3 = 16$			(ب) الحل
--	--	--	-------------

س٢٩٤ : كثيرة الحدود $f(x)$ المجاورة عدد أصفارها السالبة هو.....



0	د	1	ج	2	ب	3	أ
---	---	---	---	---	---	---	---

الحل (ب) عدد نقاط التقاطع مع الجزء السالب من محور x						
---	--	--	--	--	--	--



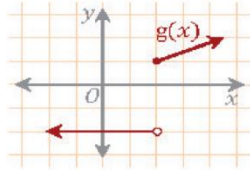
س٢٩٥: إذا كانت $BC = DC$ فإن $AB + BC = AB + DC$ ،

ما هي الخاصية المستعملة؟

أ	خاصية الجمع	ب	خاصية التعويض	ج	خاصية التعدي	د	خاصية التماثل
							الحل (أ)

س٢٩٦: إذا كانت $f(x) = \sqrt{x^2 + 4}$, $g(x) = \sqrt{x^2 - 4}$, $(f \circ g)(x) = 2$ ، أوجد قيمة x

أ	2	ج	16
ب	4	د	9
			الحل (أ)
$f \circ g = \sqrt{(\sqrt{x^2 - 4})^2}$ $= \sqrt{x^2 - 4 + 4} = \sqrt{x^2} = x = 2$			



س٢٩٧: ما نوع عدم الاتصال في التمثيل البياني المجاور؟

أ	لانهاي	ب	قفزي	ج	قابل للإزالة	د	انفصالي
							الحل (ب)

س٢٩٨: الدالة $f(x) = x^3 + 5x^2 - x$ دالة

أ	فردية وزوجية معاً	ب	ليست فردية وليست زوجية	ج	زوجية	د	فردية
							الحل (ب) فردية x^3 , زوجية x^2 , (ف + ز) لا زوجية ولا فردية

س٢٩٩: مثلثان متشابهان محيطهما 32 cm , 24 cm ، فإذا كان طول ضلع في المثلث الأكبر 8 cm ،

كم سنتيمتراً طول الضلع المناظر له في المثلث الآخر؟

أ	10	ب	8	ج	7	د	6
							الحل (د) $\frac{\text{محيط الأكبر}}{\text{ضلع الأكبر}} = \frac{\text{محيط الأصغر}}{\text{ضلع الأصغر}} \Rightarrow \frac{32}{8} = \frac{24}{x} \Rightarrow x = 6$



قدرات
Ghasham23



تحميبي
Ghasham22



قدرات وتحميبي
Ghasham_22

س٣٠٠ : مجال الدالة $\frac{x+2}{x^2+6x+9}$:

$\{x x \neq 5, x \in R\}$	ج	$\{x x \neq -3, x \in R\}$	أ
$\{x x \neq 2, x \in R\}$	د	$\{x x \neq 3, x \in R\}$	ب
$x^2 + 6x + 9 = 0$ $(x + 3)(x + 3) \neq 0$ $x + 3 \neq 0 \quad x \neq -3$			الحل (أ)

س٣٠١ : ما مقدار $\log_4 64 = \dots$ ؟

3	ج	4	أ
9	د	16	ب
$\log_4 64 = \log_4 4^3 = 3$ (ج)			الحل

س٣٠٢ : ما قيمة x التي تجعل الدالة $f(x) = \frac{1}{x^2-4x+4}$ غير معرفة ؟

$x = -4$	د	$x = 2$	ج	$x = -2$	ب	$x = 4$	أ
$f(x) = \frac{1}{(x-2)(x-2)} \Rightarrow x = 2$ (ج)							الحل
(أصفار المقام)							

س٣٠٣ : إذا كانت $f(x) = \sqrt{7}$ ، فإن $f'(x)$ تساوي :

$\frac{1}{2\sqrt{7}}$	د	0	ج	$\frac{1}{2}\sqrt{7}$	ب	$\sqrt{7}$	أ
(ج) مشتقة الثابت = صفر							الحل

س٣٠٤ : $(\sin \theta + \cos \theta)^2 = \dots\dots\dots$

$\cos^2 \theta + 3\cos \theta \sin \theta + \sin^2 \theta$	ب	$1 + 2 \sin \theta \cos \theta$	أ
$\cos^2 \theta + \sin^2 \theta$	د	$\cos^2 \theta - \sin^2 \theta$	ج
$\sin^2 \theta + 2 \sin \theta \cdot \cos \theta + \cos^2 \theta = 1 + 2 \sin \theta \cos \theta$ (أ)			الحل



قدرات
Ghasham23



تحميلي
Ghasham22



قدرات وتحميلي
Ghasham_22

س ٣٠٥: ما معادلة المستقيم الذي يمر بالنقطتين $(-9, 2), (0, 5)$ ؟			
$y = -\frac{1}{3}x - 5$	ج	$y = \frac{1}{3}x + 5$	أ
$y = -\frac{1}{3}x + 5$	د	$y = \frac{1}{3}x - 5$	ب
$m = \frac{y_2 - y_1}{x_2 - x_1} = \frac{5 - 2}{0 + 9} = \frac{3}{9} = \frac{1}{3}$ <p>(أ)</p> <p>المقطع = 5 (0, 5)</p> <p>$y = mx + b$</p> <p>$y = \frac{1}{3}x + 5$</p>			الحل

س ٣٠٦: المعادلة $16x^2 - 25y^2 - 128x - 144 = 0$ تمثل قطع							
أ	قطع مكافئ	ب	قطع ناقص	ج	قطع زائد	د	دائرة
الحل (ج) القطع زائد $B^2 - 4AC = (0)^2 - 4(16)(-25) = 1600 > 0$							

س ٣٠٧: ناتج جمع المصفوفتين $\begin{bmatrix} 24 \\ -6 \\ -5 \end{bmatrix} + \begin{bmatrix} 3 & -2 & 7 \end{bmatrix}$:			
أ	غير معرفة	ج	$\begin{bmatrix} 27 \\ -8 \\ 2 \end{bmatrix}$
ب	$\begin{bmatrix} 27 & -8 & 2 \end{bmatrix}$	د	$\begin{bmatrix} 27 & -8 \end{bmatrix}$
الحل (أ) لا يمكن لأن الرتبة مختلفة : المصفوفة الأولى من الرتبة 3×1 ، المصفوفة الثانية من الرتبة 1×3			

س ٣٠٨: إذا كانت $f(x) = \begin{cases} 4x & 0 \leq x \leq 15 \\ 60 & 15 < x < 24 \\ -6x + 15 & 24 \leq x \leq 40 \end{cases}$ فإن $f(5)$							
أ	60	ب	20	ج	15	د	-20
الحل (ب) $f(5) = 4(5) = 20$ تعويض							



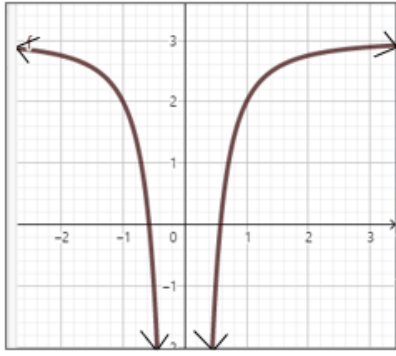
س٣٠٩: إذا كانت $\lim_{x \rightarrow 3^+} f(x) = 5$ ، $\lim_{x \rightarrow 3^-} f(x) = -5$ ، $f(3) = 7$ فإن قيمة $\lim_{x \rightarrow 3} f(x)$ تساوي :							
أ	3	ب	7	ج	5	د	غير موجودة
(د) $\lim_{x \rightarrow 3^-} f(x) \neq \lim_{x \rightarrow 3^+} f(x)$ لذلك غير موجودة							الحل

س٣١٠: $\frac{(x^2 - y^2)(3z - x)}{(x - y)^2 (x - 3z)}$							
أ	$\frac{y - x}{x + y}$	ج	$-\frac{(x^2 - y^2)}{(x - y)^2}$				
ب	$(y + x)^2$	د	$\frac{(x^2 - y^2)}{(x - y)^2}$				
(ج) $\frac{(x - y)(x + y)(-1)(x - 3z)}{(x - y)(x - y)(x - 3z)}$ $= -\frac{x + y}{x - y} \text{ أو } -\frac{(x^2 - y^2)}{(x - y)^2}$							الحل

س٣١١: ما نوع المتتالية -3, -6, -9, -12 ؟							
أ	حسابية وأساسها 3-	ب	هندسية وأساسها 2-				
ج	حسابية وأساسها 3	د	هندسية وأساسها 2				
(أ) الأساس ثابت $-3 = -3 - (-6)$ من عملية الطرح $-3 = -6 - (-9)$ المتتابعة حسابية $-3 = -9 - (-12)$							الإجابة

س٣١٢: أي المعادلات التالية لها جذر حقيقي مكرر مرتين ؟							
أ	$x^2 = 19$	ج	$x^2 - 8x = -16$				
ب	$x^2 - 2x - 5 = 0$	د	$x^2 - 2x + 5 = 0$				
(ج) لأن $x^2 - 8x + 16 = 0$ $b^2 - 4ac = (-8)^2 - 4(1)(16) = 0$ = المميز							الحل





س٣١٣ : في الشكل المجاور ، التمثيل البياني للدالة $g(x)$ ،
أي مما يلي يصف سلوك طرفي التمثيل البياني للدالة $g(x)$ ؟

$\lim_{x \rightarrow -\infty} g(x) = \infty$ ، $\lim_{x \rightarrow \infty} g(x) = -\infty$	ب	$\lim_{x \rightarrow -\infty} g(x) = -\infty$ ، $\lim_{x \rightarrow \infty} g(x) = \infty$	أ
$\lim_{x \rightarrow -\infty} g(x) = -4$ ، $\lim_{x \rightarrow \infty} g(x) = -4$	د	$\lim_{x \rightarrow -\infty} g(x) = 3$ ، $\lim_{x \rightarrow \infty} g(x) = 3$	ج
(ج) نلاحظ سلوك الطرفين من اليمين واليسار يقترب من الخط الأفقي $y = 3$			الإجابة

س٣١٤ : ما معادلة القطع المكافئ الذي بؤرته $(2, 5)$ ودليله $x = -3$ ؟

$(y - 5)^2 = 10(x + \frac{1}{2})$	ب	$(x + \frac{1}{2})^2 = -10(y - 5)$	أ
$(y - 5)^2 = -10(x + \frac{1}{2})$	د	$(x + \frac{1}{2})^2 = 10(y - 5)$	ج
(ب) الدليل $x = -3$ رأسي إذا القطع أفقي \Leftarrow التربيع على y البؤرة يمين الدليل \Leftarrow القطع مفتوح لليمين \Leftarrow 2 عدد موجب تكون المعادلة $(y - k)^2 = 4c(x - h)$ موجب التربيع على y			الإجابة

س٣١٥ : إذا كان باقي قسمة $x^3 + kx + 3$ على $x + 2$ هو 1 فإن k تساوي ؟

-2	ج	-3	أ
0	د	-1	ب
(أ) $f(-2) = 1$ $(-2)^3 - 2k + 3 = 1$ ، $-2k - 5 = 1$ $-2k = 6$ $k = -3$			الحل



قدرات
Ghasham23

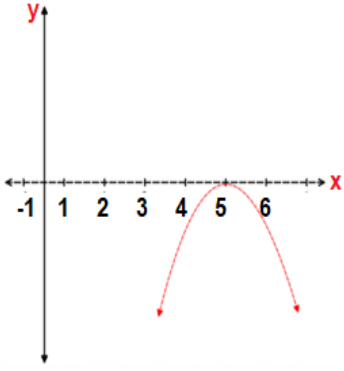


تحميلي
Ghasham22

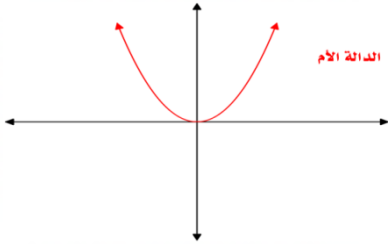


قدرات وتحميلي
Ghasham22

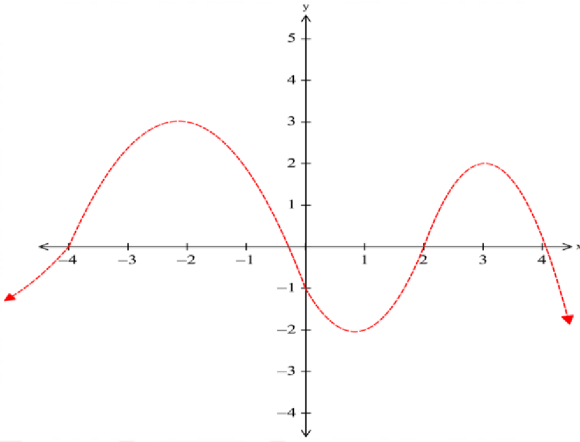
س٣١٦ : في الشكل أدناه ، إذا كانت $f(x) = x^2$ هي الدالة الرئيسية (الأم) للدالة $g(x)$ ، فإن معادلة $g(x)$ هي:



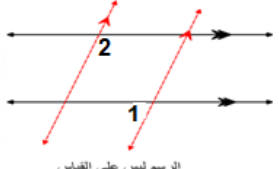
$-(x + 4)$	ب	$(x + 4)^2$	أ
$-(x - 4)^2$	د	$(x - 4)^2$	ج
<p>(د) $-(x - 4)^2$</p> <p>* الدالة $g(x)$ هي عبارة عن إزاحة 4 وحدات لليمين وانعكاس حول محور x (للدالة الأم) * الإشارة السالبة تلف انعكاس حول محور x</p>			الإجابة



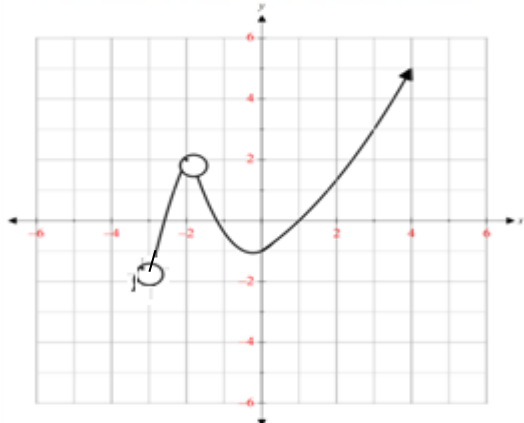
س٣١٧ : الدالة المتمثلة في الرسم البياني الآتي ، لها قيمة عظمى مطلقة عند x تساوي:



1-	ب	2-	أ
3	د	1	ج
(أ) القيمة العظمى المطلقة (أعلى نقطة في الدالة) هي 3 عند $x = -2$			الإجابة

 <p>الرسم ليس على القياس</p>		<p>س٣١٨ : في الشكل الآتي ، إذا كان $m\angle 1 = 80^\circ$ فإن $m\angle 2$ يساوي:</p>	
أ	100°	ب	80°
ج	20°	د	10°
<p>(أ)</p> <p>$\angle 1$ ، $\angle 3$ متحالفتان</p> <p>$m\angle 3 = 180 - 80 = 100^\circ$</p> <p>$m\angle 2 = m\angle 3 = 100^\circ$ تناظر</p>		<p>الإجابة</p>	

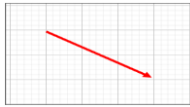
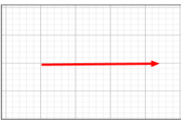

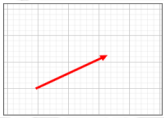
<p>س٣١٩ : عند إزاحة النقطة (2,6) وحدتين لليساار وثلاث وحدات للأسفل فإن النقطة الناتجة هي:</p>			
أ	$(-2, -6)$	ب	$(0, 3)$
ج	$(0, -3)$	د	$(4, 3)$
<p>(ب)</p> <p>وحدتين يسار وثلاث وحدات لأسفل تصبح الإزاحة : $(x - 2, y - 3)$</p> <p>$(2 - 2, 6 - 3) = (0, 3)$</p>		<p>الإجابة</p>	

		<p>س٣٢٠ : في الشكل المجاور ، مجال الدالة هو :</p>	
أ	$(-3, -2) \cup (-2, \infty)$	ب	$(-\infty, -3) \cup (-3, \infty)$
ج	$(-3, -1) \cup (-1, \infty)$	د	$(-\infty, -2) \cup (-2, \infty)$
<p>(أ) المجال هو قيم x باستبعاد (-2)</p>		<p>الإجابة</p>	

س٣٢١ : مستقيم يمر بالنقطتين $(4, 1)$, $(4x, -7)$ ميله يساوي (-2) ، ما قيمة x ؟			
أ	-8	ب	-2
ج	0	د	2
الإجابة			(د) $m = \frac{y_2 - y_1}{x_2 - x_1} = \frac{-7 - 1}{4x - 4} = \frac{-2}{1} \Rightarrow -8x + 8 = -8 \Rightarrow \frac{-8x}{-8} = \frac{-16}{-8} \Rightarrow x = 2$

س٣٢٢ : إذا كان $g(x) = 1$ ، $f(x) = x^2 + 3x$ ، فأى مما يأتي يمثل $[gof](x)$ ؟			
أ	1	ب	2
ج	3	د	4
الإجابة			(أ) $[gof](x) = g(f(x)) = 1$ ، لأن g دالة ثابتة

س٣٢٣ : ما أبسط صورة للعبارة النسبية: $\frac{x^2 + y^2}{x^2 - y^2} + \frac{y}{x + y} - \frac{x}{x - y}$ ؟			
أ	0	ب	$2x^x$
ج	$1 + \frac{1}{x} - \frac{1}{y}$	د	$\frac{x^2 + y^2}{x^2 - y^2}$
الإجابة			(أ) $\begin{aligned} Lcm \text{ للمقامات } (x - y)(x + y) &= x^2 - y^2 \\ \frac{x^2 + y^2}{x^2 - y^2} + \frac{y(x - y)}{(x + y)(x - y)} - \frac{x(x + y)}{(x - y)(x + y)} \\ &= \frac{x^2 + y^2 + xy - y^2 - x^2 - xy}{x^2 - y^2} = \frac{0}{x^2 - y^2} = 0 \end{aligned}$

س٣٢٤ : من الأشكال الموضحة أدناه أي المتجهات لها مركبة أفقية أكبر؟			
أ		ب	
ج		د	
الإجابة			(ب) بملاحظة الشكل المركبة الأفقية هي طول مسقط المتجه على الأفقي

س٣٢٥: حدد اتجاه القطع المكافئ $y^2 = 8(x - 5)$:-					
أ	يمين	ب	يسار	ج	لأعلى
				د	لأسفل
الحل (أ)					

س٣٢٦: في الشكل المرفق ، أي الحقائق الآتية ليست كافية لإثبات أن المستقيم a يوازي المستقيم b ؟			
أ	الزاوية 2 = الزاوية 4	ب	الزاوية 2 = الزاوية 8
ج	الزاوية 4 = الزاوية 6	د	الزاوية 1 = الزاوية 5
الحل (أ) التقابل بالرأس لا يدل على التوازي			

س٣٢٧: أوجد ناتج $\cos(105^\circ)$			
أ	$\frac{\sqrt{2} - \sqrt{6}}{2}$	ب	$\frac{\sqrt{2} - \sqrt{6}}{4}$
		ج	$\frac{\sqrt{2} + \sqrt{6}}{2}$
		د	$\frac{\sqrt{2} + \sqrt{6}}{4}$
الحل (ب)			$\cos 105^\circ = \cos(60^\circ + 45^\circ) = \cos 60^\circ \cos 45^\circ - \sin 60^\circ \sin 45^\circ$ $= \frac{1}{2} \times \frac{\sqrt{2}}{2} - \frac{\sqrt{3}}{2} \times \frac{\sqrt{2}}{2} = \frac{\sqrt{2}}{4} - \frac{\sqrt{6}}{4} = \frac{\sqrt{2} - \sqrt{6}}{4}$

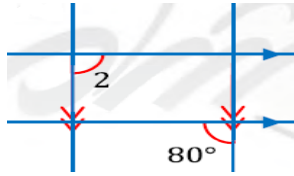
س٣٢٨: إن الدالة $f(x) = \frac{1}{x^3} - \frac{1}{x} + x$ دالة :			
أ	فردية	ج	ليست فردية ولا زوجية
ب	زوجية	د	فردية وزوجية معاً
الحل (أ) فردية لأن جميع الأسس فردية			

س٣٢٩: حدد نوع عدم الاتصال في الدالة $f(x) = \frac{1}{x-8}$			
أ	لا نهائي	ب	قفزي
		ج	قابل للإزالة
		د	غير محدد
الحل (أ) غير معرفة $\frac{1}{x-8} = \frac{1}{0}$			



س ٣٣٠ : احسب قياس الزاوية 2

في الشكل المجاور



أ	80	ب	90	ج	100	د	10
الحل (ج)							
$80 + m\angle 2 = 180 \Rightarrow m\angle 2 = 100$ متناظران $80 = 80$							

س ٣٣١ : إذا كانت $\angle A$, $\angle B$ زاويتان متتامتان , وكانت $\angle A$, $\angle Z$ زاويتان متتامتان , فأی الآتی صحيح ؟

أ	$\angle A = \angle Z$	ج	$m\angle A + m\angle Z = 180$
ب	$\angle B = \angle Z$	د	$m\angle A + m\angle B = 180$
الحل (ب)			
تجريب ارقام الزاويتان المتتامتان مجموع قياسهما 90°			

س ٣٣٢ : الدالة العكسية لـ $f(x) = \sqrt{x+3}$ هي

أ	$f^{-1}(x) = x^3 - 3$	ب	$f^{-1}(x) = x^2 - 3$
ج	$f^{-1}(x) = x^2 + 3$	د	$f^{-1}(x) = 2x - 3$
الحل (ب)			
$y = \sqrt{x+3} \rightarrow x = \sqrt{y+3} \rightarrow x^2 = y+3 \Rightarrow y = x^2 - 3$ نبدل نربع			

س ٣٣٣ : $\frac{\cos \theta}{\sin \theta} \times \tan \theta = \dots\dots$

أ	$\tan \theta$	ج	$\cos \theta$
ب	$\cot \theta$	د	$\sin \theta \times \cos \theta$
الحل (أ)			
$\frac{\cos \theta}{\sin \theta} \cdot \frac{\sin \theta}{\cos \theta} = \frac{1}{\cot \theta} = \tan \theta$			



قدرات
Ghasham23

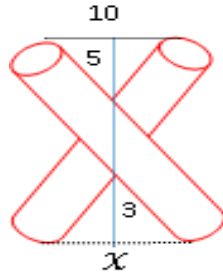


تحميلي
Ghasham22



قدرات وتحميلي
Ghasham_22

س٣٣٤: ما قيمة x في الشكل المجاور؟



6

د

4

ج

0.5

ب

5

أ

(د)

الحل

$$\frac{3}{5} = \frac{x}{10} \Rightarrow x = \frac{3(10)}{5} = 6$$

س٣٣٥: يتوزع عمر 10000 بطارية توزيعاً طبيعية بوسط 300 يوم وانحراف معياري 40 يوماً ، كم بطارية يقع عمرها بين 260 – 340 يوماً؟

2500

د

5000

ج

3400

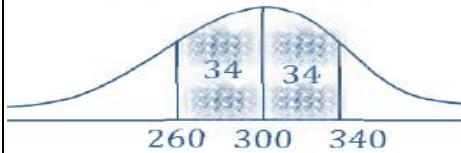
ب

6800

أ

(أ)

الحل



$$P(260 < x < 340) = 68\%$$

$$\text{العدد} = \frac{68}{100}(10000) = 6800$$

س٣٣٦: ما الخاصية التي تبرر العبارة: " إذا كان $3(x - \frac{7}{6}) = 5$ فإن $3x - \frac{7}{2} = 5$ "

الطرح

ج

التوزيع

أ

الضرب

د

الجمع

ب

(أ)

الحل

س٣٣٧: $f(x) = ax^4 + bx^2 + x + 5$ ، حيث أن a و b عددين حقيقيين ، فأحسب $f(-3)$ إذا كانت $f(3) = 2$:

-4

د

2

ج

4

ب

-2

أ

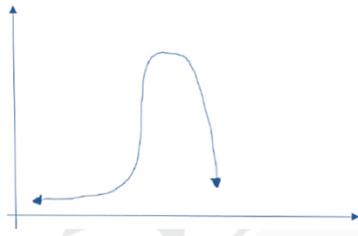
$$f(3) = 81a + 9b + 3 + 5 = 2 \Rightarrow 81a + 9b + 8 = 2$$

$$f(-3) = 81a + 9b - 3 + 5 = 81a + 9b + 2 = 2 - 6 = -4$$

(د)

الحل

س٣٣٨: ما أفضل وصف للتمثيل البياني التالي؟

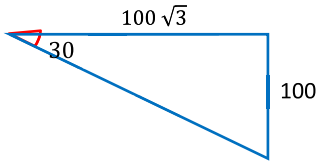


أ	التواء موجب	ب	التواء سالب	ج	توزيع طبيعي	د	لا يوجد رابط
الحل (ب) التواء سالب = التواء جهة اليسار							

س٣٣٩: أي الخيارات يجعل الدالة التالية غير متصلة $f(x) = \frac{x^2}{x-49}$ ؟

أ	$x = 0$	ج	$x = 49$
ب	$x = 7$	د	$x = -49$
الحل (ج) اصفار المقام $x - 49 = 0 \rightarrow x = 49$			

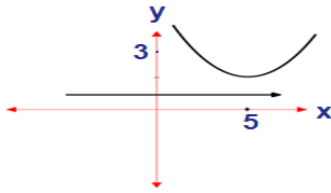
س٣٤٠: احسب قيمة الوتر في الشكل المجاور.....



أ	150	ب	170	ج	180	د	200
الحل (د) الضلع المقابل للزاوية 30 نصف طول الوتر $2(100) = 200$							

س٣٤١: حدد اتجاه القطع المكافئ الذي بؤرته (5,3) ودليله $y = 1$ ؟

أ	اليمين	ب	اليسار
ج	الأعلى	د	الأسفل
الحل (ج) بدراسة موقع البؤرة والدليل نجد أن الدليل أسفل البؤرة مما يعني أن القطع رأس مفتوح لأعلى			



س٣٤٢ : $\lim_{x \rightarrow 2} \frac{2x+2}{x^2+3x+2} = ?$

أ	-2	ب	2	ج	$\frac{1}{2}$	د	$\frac{1}{3}$
---	----	---	---	---	---------------	---	---------------

الحل (ج) $\lim_{x \rightarrow 2} \frac{2x+2}{x^2+3x+2} = \frac{2(2)+2}{4+3(2)+2} = \frac{6}{12} = \frac{1}{2}$

س٣٤٣: أحسب محددة المصفوفة $\begin{bmatrix} 4 & -1 \\ 2 & 10 \end{bmatrix}$

أ	24	ب	-12	ج	38	د	42
---	----	---	-----	---	----	---	----

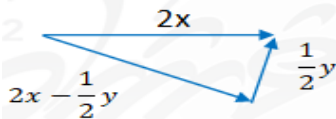
الحل (د) $4(10) - (2)(-1) = 40 + 2 = 42$

س٣٤٤: احسب معدل التغير لـ $f(x) = \log_2 x$ في الفترة $[1, 2]$

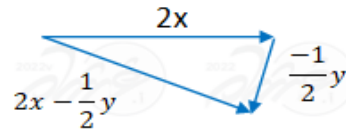
أ	-2	ب	2	ج	1	د	-1
---	----	---	---	---	---	---	----

الحل (ج) $\frac{f(2) - f(1)}{2 - 1} = \frac{\log_2 2 - \log_2 1}{2 - 1} = \frac{1 - 0}{1} = 1$

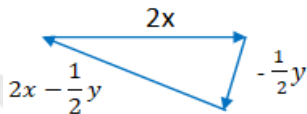
س٣٤٥: أي مما يلي يمثل محصلة التالي: $2x - \frac{1}{2}y$ ؟



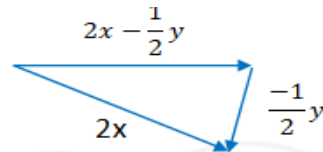
ب



أ



د



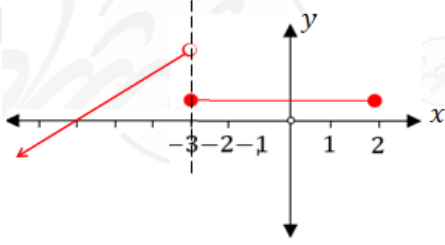
ج

الحل (أ)

س٣٤٦: أي القيم التالية تمثل مقدار الإزاحة الرأسية للدالة : $f(x) = \sqrt{x-2} + 5$

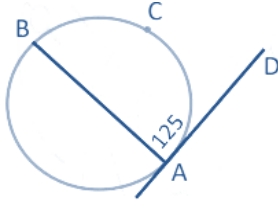
أ	$y = 2$	ج	$y = -5$
ب	$y = -2$	د	$y = 5$
الحل			(د)
إزاحة رأسية $f(x \pm h) \pm k$ $y = 5$			

س٣٤٧: حدد مجال الدالة من الشكل المجاور....



أ	$(-\infty, -3) \cup [-3, 2]$	ب	R
ج	$(-\infty, -0)$	د	R^+
الحل			(أ) المجال على محور x

س٣٤٨: إذا كان \overline{AB} مماساً للدائرة المجاورة ، احسب قياس القوس ACB



أ	125	ج	255
ب	250	د	360
الحل			(ب)
قياس القوس ضعف قياس الزاوية المماسية التي تحصره $m(ACB) = 125(2) = 250$			

س٣٤٩: ما ميل المستقيم العمودي على المستقيم الذي معادلته $y = 3x - 3$ ؟

أ	3	ب	-3	ج	$\frac{1}{3}$	د	$-\frac{1}{3}$
الحل							(د) ميل المستقيم المعلوم = معامل $x = 3$ لذلك ميل العمودي $-\frac{1}{3}$



قدرات
Ghasham23



تحميلي
Ghasham22



قدرات وتحميلي
Ghasham_22

س ٣٥٠: أوجد قيم a التي تجعل الدالة متصلة عند $x = 1$							
$f(x) = \begin{cases} a^2 + 2x. & x \geq 1 \\ a + 4. & x < 1 \end{cases}$							
أ	2	ب	-2	ج	4	د	-4
(أ)							الحل
$\lim_{x \rightarrow 1^-} a^2 + 2x = \lim_{x \rightarrow 1^+} a + 4 \Rightarrow a^2 + 2 = a + 4$							

س ٣٥١: إذا كان: $\frac{5}{y-2} + 2 = \frac{1}{3}$ ، فما قيمة y ؟			
أ	-1	ب	+1
ج	3	د	+2
(أ)			الإجابة
$= \frac{5}{-1-2} + 2 = \frac{-5}{3} + 2 = \frac{1}{3} : (-1 \text{ ب } y \text{ نعوض عن } y \text{ ب } -1)$			

س ٣٥٢: $\cot^2 \theta (\tan^2 \theta - \sin^2)$ تساوي :			
أ	$\sin^2 \theta$	ج	$\sec \theta$
ب	$\cos^2 \theta$	د	$\cot \theta$
(أ)			الحل
$\cot^2 \theta \tan^2 \theta - \frac{\cos^2 \theta}{\sin^2 \theta} \cdot \sin^2 \theta$ توزيع $= 1 - \cos^2 \theta = \sin^2 \theta$			

س ٣٥٣: ما هي حلول المعادلة التالية، $x^2 + 4x + 5 = 0$ ؟			
أ	0.4	ب	5.4
ج	$-2 - i, -2 + i$	د	$2 + i, 2 - i$
(ج)			الحل
$x^2 - (\text{مجموع الجذرين})x + (\text{حاصل ضربهما}) = 0 \Rightarrow \begin{matrix} (-2 - i) + (-2 + i) = -4 \\ (-2 - i)(-2 + i) = 5 \end{matrix}$			

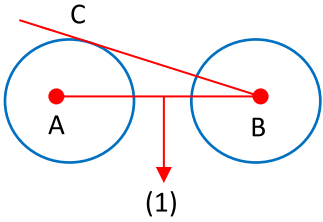
س ٣٥٤: حدد مجال الدالة التالية $f(x) = \sqrt{9 - x^2}$			
أ	$[-9, 9]$	ب	$[-9, 9]$
ج	$[-3, 3]$	د	$(-3, 3)$
(ج)			الحل
$9 - x^2 \geq 0 \Rightarrow 9 \geq x^2 \Rightarrow x \leq 3 \quad [-3, 3]$			



س٣٥٥: لديك 6 كرات خضراء و 5 كرات صفراء , وتم سحب 4 كرات عشوائياً ،
ما احتمال ان تكون 3 كرات خضراء وكرة واحدة صفراء ؟

أ	$\frac{4}{11}$	ب	$\frac{11}{33}$	ج	$\frac{10}{33}$	د	$\frac{4}{33}$
(ج)							
الحل							
عدد فضاء العينة = $11c_4$							
عدد نواتج الحدث = $6c_3 \times 5c_1$							
الاحتمال = $\frac{6c_3 \times 4c_1}{11c_4} = \frac{10}{33}$							

س٣٥٦: طول قطر الدائرة A هو 12، و BC مماس للدائرة A ويساوي تقريباً 8 ،
المسافة بين الدائرتين 1 ، فما هو قطر الدائرة B ؟



أ	4	ب	3	ج	6	د	15
(ج)							
الحل							
من ثلاثية فيثاغورس 10, 8, 6							
نصف القطر = $10 - (6 + 1) = 3$							
القطر = $3(2) = 6$							

س٣٥٧: أي زاويتين تكون قيمة $\sin \theta$ و $\tan \theta$ تساوي صفر ؟

أ	90 ، 180	ج	90 ، 270
ب	360 ، 270	د	360 ، 180
(د) $\sin(360) = 0$ ، $\sin(180) = 0$			

س٣٥٨: إذا كانت $x + \frac{1}{x} = 2$ ، فما ناتج المعادلة $x^2 + \frac{1}{x^2}$ ؟

أ	2	ب	4	ج	6	د	8
(أ)							
الحل							
$(x + \frac{1}{x})^2 = (2)^2 \Rightarrow x^2 + 2 + \frac{1}{x^2} = 4 \Rightarrow x^2 + \frac{1}{x^2} = 2$							



قدرات
Ghasham23



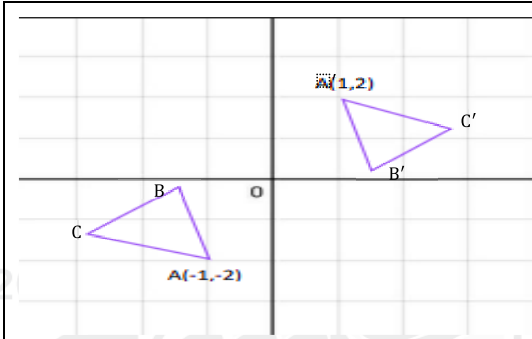
تحميلي
Ghasham22



قدرات وتحميلي
Ghasham_22

س٣٥٩: ما الدوران حول نقطة الاصل الذي جرى على المثلث ABC

والذي ينقل رأسه A إلى A' ؟



أ	180	ج	90
ب	360	د	270
(أ)			
الحل			
$(x, y) \xrightarrow{\text{دوران } 180^\circ} (-x, -y)$ حول نقطة الاصل $(-1, -2) \rightarrow (1, 2)$			

س٣٦٠: ما إحداثيات رأس القطع المكافئ $2(x - 2)^2 = (y + 3)$ ؟

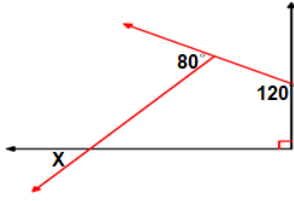
أ	$(-3, 2)$	ب	$(-2, 3)$	ج	$(2, -3)$	د	$(3, -2)$
الحل							
(ج) الرأس $(h, k) = (2, -3) \Rightarrow (x - 2)^2 = \frac{1}{2}(y + 3)$							

س٣٦١: ما قيمة المقدار $\log_{\frac{1}{6}} \frac{1}{216}$ ؟

أ	1	ب	2
ج	3	د	6
الإجابة			
(ج) $\log_b b^x = x \rightarrow \log_{\frac{1}{6}} \left(\frac{1}{6}\right)^3 = 3$			

س٣٦٢: إذا كانت $f(x) = 2x^3 + 3x^2 - 5x + 11$ ، فما قيمة $f(2) - f(0)$ ؟

أ	11	ب	12
ج	15	د	18
الإجابة			
(د)			
$f(2) = 2(2)^3 + 3(2)^2 - 5(2) + 11 = 29$ $f(0) = 0 + 0 - 0 + 11 = 11$ $f(2) - f(0) = 29 - 11 = 18$			



س٣٦٣: في الشكل الآتي ، قيمة x تساوي:

٦٠°	ب	٥٠°	أ
١٣٠°	د	١٠٠°	ج
(أ) * الزاوية بجوار ٨٠° تكون ١٠٠° ، مجموع قياسات زوايا الشكل الرباعي = ٣٦٠° $x = 360 - (100 + 90 + 120) = 50°$			الإجابة

س٣٦٤: إذا كانت $f(x) = \begin{cases} 4x , & 0 \leq x \leq 15 \\ 60 , & 15 < x < 24 \\ -x + 15 , & 24 \leq x \leq 40 \end{cases}$ ، فما قيمة $f(25)$ ؟

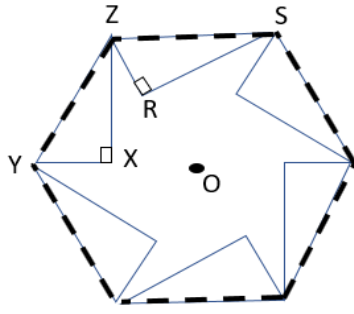
٥	ب	١٠	أ
-١٥	د	-١٠	ج
(ج) بالتعويض في القاعدة الأخيرة لأن $24 \leq x \leq 40$ $f(25) = -25 + 15 = -10$			الإجابة

س٣٦٥ : بسط المقام الآتي : $\frac{x(x^2+3x-18)}{(x+3)(x-4)} \div \frac{x(x+6)}{x+3}$

$\frac{x-3}{x+4}$	ب	$\frac{x-3}{x-4}$	أ
$\frac{x+3}{x+4}$	د	$\frac{x+3}{x-4}$	ج
(أ) $\frac{x(x+6)(x-3)}{(x+3)(x-4)} \cdot \frac{x+3}{x(x+6)} = \frac{x-3}{x-4}$ بالتحليل			الإجابة

س٣٦٦ : عندما يوجد بالبيانات قيم متطرفة فإن القياس الأفضل

الانحراف المعياري	د	المنوال	ج	الوسيط	ب	الوسط	أ
(ب) يستخدم الوسيط إذا وجدت قيم متطرفة							الحل



س٣٦٧: في الشكل المجاور ، شفرة منشار صنفت من سداسي منتظم

بقص ستة مثلثات قائمة الزاوية ومتطابقة ، فإذا قطع

من كل سن بمقدار xy وكان $m\angle xyz = 60^\circ$ ،

فما قياس زاوية النقطة الحادة z في الشفرة $(\angle xzR)$ ؟

50°	ب	60°	أ
30°	د	45°	ج
(د) $m\angle RZS = 60^\circ$ ، $m\angle xzy = 180 - (60 + 90) = 30^\circ$ $m\angle xzR = 120 - (60 + 30) = 30^\circ \leftarrow 120^\circ =$ قياس زاوية رأس السداسي *			الإجابة

س٣٦٨: إذا كان $\int_0^a (2x + 1) dx = 6$ ، فما قيمة a ؟

3	ب	4	أ
1	د	2	ج
(ج) $\int_0^a (2x + 1) dx = 6 \Rightarrow (x^2 + x) \Big _0^a = 6 \Rightarrow a^2 + a = 6$ بتجريب الحلول $2^2 + 2 = 6$ $a = 2$			الإجابة

س٣٦٩: إذا كان $x \leq 4$ ، $y \leq 9$ ، $y \geq -3x + 12$ ، وكان رأسين لمنطقة الحل ، فما هي الرأس الثالثة؟

(1, 8)	ب	(-1, 8)	أ
(-1, 9)	د	(1, 9)	ج
(ج) بالتعويض في المعادلة $y = -3x + 12$ نجد أن $(1, 9)$ هي التي تحقق المعادلة، ويمكن الاستعانة بالرسم			الإجابة

س٣٧٠: أوجد قيمة $\log_{\sqrt{3}} 81$:

6	ب	2	أ
8	د	4	ج
(د) $\log_{\sqrt{3}} 81 = x \rightarrow (\sqrt{3})^x = 81 = 3^4 \rightarrow 3^x = 3^8 \rightarrow \therefore x = 8$			الحل

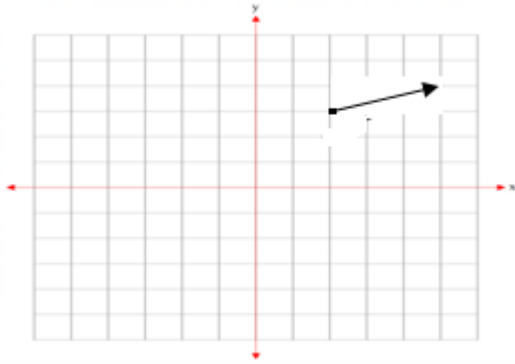
س٣٧١: إذا كان: $f(2) = 5$, $f'(2) = 10$, $g(x) = x^2 - 2$, فما قيمة $\left(\frac{f}{g}\right)'(2)$ ؟			
أ	36	ب	10
ج	0	د	-2
(ج) الإجابة			$g(2) = 2^2 - 2 = 2$ $g'(x) = 2x$ $g'(2) = 2(2) = 4$ $\left(\frac{f}{g}\right)' = \frac{gf' - fg'}{g^2}$ $\left(\frac{f}{g}\right)'(2) = \frac{g(2)f'(2) - f(2)g'(2)}{(g(2))^2}$ $= \frac{2(10) - 5(4)}{(2)^2} = 0$

س٣٧٢: ما معادلة القطع الزائد الذي مركزه $(-4, 2)$ وأحد بؤرتيه $(-4, 7)$ وطول محوره القاطع 8 وحدات؟			
أ	$9(x - 2)^2 - 16(y + 4)^2 = 144$	ب	$16(x - 2)^2 - 9(y + 4)^2 = 144$
ج	$9(x - 2)^2 + 16(y + 4)^2 = 144$	د	$16(x - 2)^2 + 9(y + 4)^2 = 144$
(أ) باستبعاد (ج) (د) لأنها قطعاً ناقصاً ، بقسمة الأول على 144			الإجابة
$\frac{(x - 2)^2}{16} - \frac{(y + 4)^2}{9} = 1$ <p>طول المحور القاطع $2a = 8 \Rightarrow a = 4$</p>			

س٣٧٣: قذف حارس مرعى الكرة إلى أعلى، إذا كانت المسافة الرأسية التي تقطعها الكرة بالمتربعد t ثانية تعطي بالعلاقة $s(t) = 20t - 2t^2 + 3$ ، ما أقصى ارتفاع للكرة بالمتربعد؟			
أ	153	ب	53
ج	50	د	5
(ب) أقصى ارتفاع عندما تكون السرعة $s'(t) = 0$ أي عند النقط الحرجة $s'(t) = 20 - 4t = 0$			الإجابة
<p>بالتعويض في $t = 5$</p> $s(t) = 20(5) - 2(5)^2 + 3$ $= 100 - 50 + 3$ $= 53$			



س٣٧٤: اكتب الصورة الاحداثية للمتجه المرسوم؟

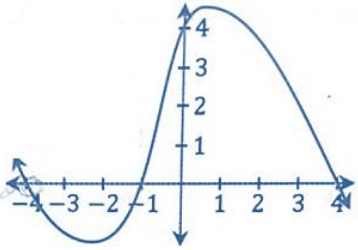


$-2i - 2j$	ب	$-3i - j$	أ
$2i - 2j$	د	$3i + j$	ج
<p>(ج) بداية المتجه (2, 3) ونهايته (5, 4) = الصورة الاحداثية</p>			الإجابة
<p>$\langle 5 - 2, 4 - 3 \rangle = \langle 3, 1 \rangle = 3i + j$</p>			

س٣٧٥: تتغير m طردياً مع n وعكسياً مع z ، التعبير الصحيح لهذه العلاقة حيث $k \neq 0$ عدد، هو:

$z = \frac{kn}{m}$	ب	$mn = kz$	أ
$kx = \frac{z}{x}$	د	$n = \frac{k}{mz}$	ج
<p>(ب) $m = \frac{kn}{z} \rightarrow z = \frac{kn}{m}$</p>			الإجابة

س٣٧٦: أي مما يلي لا يعد عاملاً من عوامل كثيرة الحدود $f(x)$ المجاورة؟



$x - 4$	د	$x - 1$	ج	$x + 1$	ب	$x + 4$	أ
<p>(ج) من الرسم عوامل $x = 4$، $x = -1$، $x = -4$ $(x + 4)$، $(x - 4)$، $(x + 1)$</p>							الحل

س ٣٧٧ : $\lim_{x \rightarrow \infty} \frac{x^2-4}{x-2} = ?$

أ	-4	ب	0	ج	4	د	∞
الحل (د) درجة البسط أكبر من درجة المقام							

س ٣٧٨ : إذا كانت $\frac{x-1}{x+1} = \frac{6}{5}$ ، فما قيمة x ؟

أ	11	ب	1	ج	-1	د	-11
الحل (د)							
$6x + 6 = 5x - 5 \Rightarrow x = -11$							

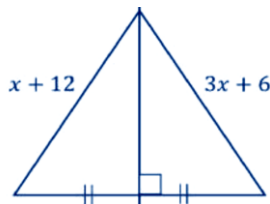
س ٣٧٩ : استخراج من معادلة القطع الناقص $\frac{x^2}{9} + \frac{(y-1)^2}{25} = 1$ طول المحور الأصغر...

أ	3 وحدات	ب	5 وحدات	ج	10 وحدات	د	6 وحدات
الحل (د)							
$2b, b = \sqrt{9} = 3 \Rightarrow 2b = 2(3) = 6$ طول الأصغر							

س ٣٨٠ : ناتج جمع المصفوفتين $-\begin{bmatrix} 2 & -4 \\ 1 & -4 \end{bmatrix} + 2\begin{bmatrix} 8 & 5 \\ 0 & 2 \end{bmatrix}$ يساوي :

أ	$\begin{bmatrix} 10 & 1 \\ 1 & -2 \end{bmatrix}$	ب	$\begin{bmatrix} 14 & 14 \\ -1 & 8 \end{bmatrix}$	ج	$\begin{bmatrix} 10 & -9 \\ 1 & -2 \end{bmatrix}$	د	$\begin{bmatrix} 10 & 9 \\ 1 & -2 \end{bmatrix}$
الحل (ب)							
$\begin{bmatrix} -2 & 4 \\ -1 & 4 \end{bmatrix} + \begin{bmatrix} 16 & 10 \\ 0 & 4 \end{bmatrix} = \begin{bmatrix} 14 & 14 \\ -1 & 8 \end{bmatrix}$							

س ٣٨١ : ما قيمة x في الشكل المجاور؟



أ	3	ب	6	ج	9	د	12
الحل (أ)							
$3x + 6 = x + 12 \Rightarrow 2x = 6 \Rightarrow x = 3$							

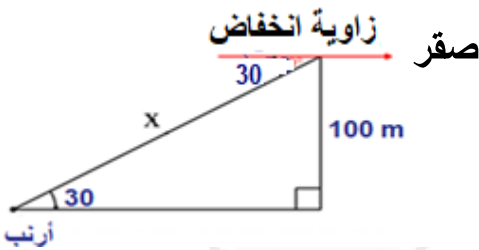
س٣٨٢: إذا كانت $\angle A, \angle B$ متتامتان و $\angle A, \angle C$ متتامتان , فأى الآتي صحيح ؟			
$\angle C > \angle B$	ب	$\angle C + \angle B = 180$	أ
$\angle C = \angle B$	د	$\angle B > \angle C$	ج
الحل (د) متمات الزاوية الواحدة متطابقتان			

س٣٨٣: مركز القطع الزائد الذي معادلته : $1 = \frac{(y-4)^2}{48} - \frac{(x+5)^2}{34}$			
$(-5, -4)$	د	$(-5, 4)$	ج
$(5, 4)$	ب	$(4, 5)$	أ
الحل (ج) $(h, k) = (-5, 4) =$ المركز			

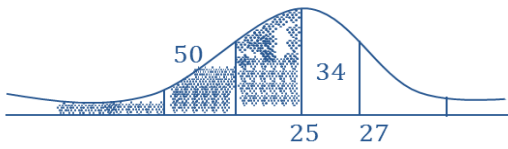
س٣٨٤: ناتج طرح المصفوفتين $2 \begin{bmatrix} 1 & 2 \\ 0 & 3 \end{bmatrix} - \begin{bmatrix} 3 & -1 \\ -3 & 1 \end{bmatrix}$ يساوي :			
$\begin{bmatrix} -1 & 5 \\ 3 & 5 \end{bmatrix}$	د	$\begin{bmatrix} 1 & 3 \\ -3 & 2 \end{bmatrix}$	ج
$\begin{bmatrix} -1 & 6 \\ 6 & 4 \end{bmatrix}$	ب	$\begin{bmatrix} 5 & 5 \\ 3 & 5 \end{bmatrix}$	أ
الحل (د) $\begin{bmatrix} 2 & 4 \\ 0 & 6 \end{bmatrix} - \begin{bmatrix} 3 & -1 \\ -3 & 1 \end{bmatrix} = \begin{bmatrix} -1 & 5 \\ 3 & 5 \end{bmatrix}$			

س٣٨٥: أوجد الوسيط لطلاب معدلاتهم $82, 61, 93, 68, 100, 51$:			
50	د	150	ج
100	ب	75	أ
الحل (أ) $51, 61, 68, 82, 93, 100 \Rightarrow \frac{68 + 82}{2} = 75$			

س٣٨٦: يطير صقر علي إرتفاع ١٠٠ متر فرصد أرنب علي الأرض بزاوية إنخفاض 30° ، أوجد بعد الصقر عن الأرنب ؟			
120	ب	200	أ
180	د	100	ج
الحل (ب) $\sin 30 = \frac{\text{المقابل}}{\text{الوتر}} \rightarrow \frac{1}{2} = \frac{100}{x} \rightarrow x = 200$ أو طول الضلع المقابل للزاوية 30° يساوي نصف طول الوتر $x = 2(100) = 200$			



س٣٨٧: قياس الزاوية الداخلية في المضلع الثماني المنتظم :							
أ	140	ب	720	ج	135	د	130
الحل (ج)							$180 - \frac{360}{n} = 180 - \frac{360}{8} = 180 - 45 = 135$

س٣٨٨: إذا كان المتوسط الحسابي 25 والانحراف المعياري 2 , ما احتمال أن يكون عدد الطالبات أقل من 27 ؟							
أ	84%	ب	97%	ج	16%	د	14%
الحل (أ)							 $P(x < 27) = 84\%$

س٣٨٩: من تجربة ذات الحدين تكررت 20 مرة ، إذا كان المتوسط الحسابي $\mu = 12$ ، فإن الانحراف المعياري :							
أ	$\sqrt{4.8}$	ب	$\sqrt{8.4}$	ج	$\sqrt{1.2}$	د	1.2
الحل (أ)							$\mu = nP \Rightarrow P = \frac{\mu}{n} = \frac{12}{20} = 0.6 \Rightarrow q = 1 - P = 0.4$ $\sigma = \sqrt{npq} = \sqrt{20 \left(\frac{6}{10}\right) \left(\frac{4}{10}\right)} = \sqrt{4.8}$

س٣٩٠: الدالة $\frac{1}{x-4}$ غير متصلة عند $x = 4$ ، ما نوع عدم الاتصال ؟							
أ	قفزي	ب	غير محدد	ج	لا نهائي	د	قابل للإزالة
الحل (ج)							$f(4) = \frac{1}{4-4} = \frac{1}{0}$ غير معرفه

س٣٩١: إذا كانت $f(x) = 4x - 3$ ، فإن $f(-2)$							
أ	-9	ب	-10	ج	-11	د	-12
الحل (ج)							$f(-2) = 4(-2) - 3 = -11$



س٣٩٢ : القطع المكافئ الذي معادلته $(x - 1)^2 = 4(y + 2)$ بؤرته هي.....

أ	(1, -2)	ب	(1, -1)	ج	(1, -3)	د	(2, -2)
---	---------	---	---------	---	---------	---	---------

الحل	(ب)	$(h, k + c) = (1, -2 + 1) = (1, -1)$
------	-----	--------------------------------------

اتجاه القطع	↑
c	1
k	-2
h	1

س٣٩٣ : طول الوتر البؤري للقطع $(y - 1)^2 = -12(x + 2)$ تساوي.....

أ	-12	ب	-6	ج	6	د	12
---	-----	---	----	---	---	---	----

الحل	(د)	$ 4c = -12 = 12$
------	-----	---------------------

س٣٩٤ : الاختلاف المركزي للقطع الناقص الذي معادلته $\frac{(x-3)^2}{9} + \frac{(y-1)^2}{16} = 1$ يساوي.....

أ	$e = 0.66$	ب	$e = 1$	ج	$e = 1.25$	د	$e = 1.66$
---	------------	---	---------	---	------------	---	------------

الحل	(أ)	$0 < e < 1 \Rightarrow e = 0.66$ في القطع الناقص
------	-----	--

س٣٩٥ : $\sum_{k=1}^{11} 3(4)^{k-1} = ?$

أ	$4^{11} - 1$	ب	$4^{10} + 1$	ج	$4^{11} + 1$	د	$4^{10} - 1$
---	--------------	---	--------------	---	--------------	---	--------------

الحل	(أ)	$n = 11 - 1 + 1 = 11$ ، $a_1 = 3(4)^0 = 3$ ، $a_n = 3(4)^{10}$ ، $r = 4$ $S_n = \frac{a_n r - a_1}{r - 1} = \frac{3(4^{11} - 1)}{3} = 4^{11} - 1$
------	-----	--

س٣٩٦ : $\int_0^2 nx dx = 6$ ، أوجد قيمة n ؟

أ	2	ب	1
ج	4	د	3

الحل	(د)	$\int_0^2 nx dx = 6$ $\left(\frac{nx^2}{2}\right) \Big _0^2 = 6 \rightarrow \frac{4n}{2} - \frac{0}{2} = 6 \rightarrow 2n = 6 \rightarrow n = 3$
------	-----	---

س٣٩٧: أي الزوايا الآتية تعتبر مثلاً مضاداً للعلاقة $\sin \theta + \cos \theta = 1$ ؟			
180°	ب	0°	أ
360°	د	90°	ج
بالتعويض المباشر: $\sin 180 + \cos 180 = 0 + (-1) = -1$ (ب)			الحل

س٣٩٨: إذا كانت $O = (0, 0)$, $B = (3, 4)$, $A = (7, 3)$, أوجد $\vec{OA} \cdot \vec{BA}$			
5	ج	28	أ
0	د	25	ب
$\vec{OA} = A - O = (7, 3)$ $\vec{BA} = A - B = (4, -1)$ $(7, 3) \cdot (4, -1) = 28 + (-3) = 25$			(ب) الحل

س٣٩٩: ما الدالة الممثلة في الشكل المجاور؟			
$y = 4 \sin \theta$	ب	$y = 4 \cos \theta$	أ
$y = 2 \cos \theta$	د	$y = 2 \sin \theta$	ج
$y = 2 \sin \theta$ ← داله $\sin \theta$ بمضروبته 2 (ج)			الحل

س٤٠٠: ما قيمة x حيث $8P_3 = x(7P_2)$ ؟			
6	ج	8	أ
5	د	7	ب
$8(7)(6) = x(7)(6)$ $x = 8$			(أ) الحل



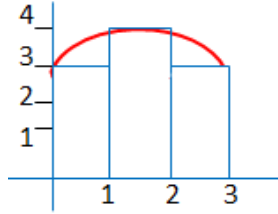
س ١.٤: أوجد قيمة x في المعادلة $\frac{3}{x} = \frac{15}{12}$

أ	$\frac{12}{5}$	ب	$\frac{1}{12}$	ج	12	د	$\frac{12}{4}$
الحل							$x = \frac{3(12)}{15} = \frac{12}{5}$ (أ)

س ٢.٤: اكتب بالصورة اللوغارتمية $x = \sqrt[5]{8}$:

أ	$\log_{\frac{1}{5}} x = 8$	ج	$\log_8 5 = x$
ب	$\log_8 x = \frac{1}{5}$	د	$\log_{\frac{1}{5}} 8 = x$
الحل			
$x = 8^{\frac{1}{5}} \Rightarrow \log_8 x = \frac{1}{5}$ (ب)			

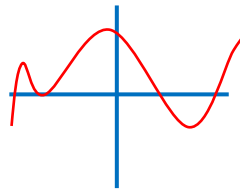
س ٣.٤: أوجد المساحة تحت المنحنى



باستخدام المستطيلات.....

أ	26	ب	12	ج	10	د	6
الحل							$(1)(3) + 1(4) + 1(3) = 3 + 4 + 3 = 10$ (ج)

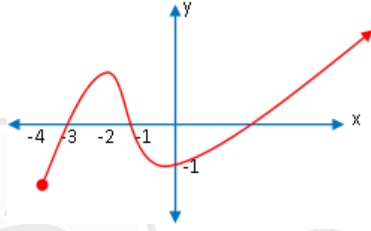
س ٤.٤: كم عدد الحلول الحقيقية



في الشكل المجاور؟

أ	1	ب	2	ج	3	د	4
الحل							(د)
مع ملاحظة أن نقطة التماس تعد 2							•
عدد الحلول الحقيقية = عدد التقاطع مع محور x							•

س٤٠٥ : حدد مجال الدالة من الشكل التالي :



أ	$[-3, \infty)$	ب	$[-4, \infty)$
ج	$[-3, -2) \cup (-2, \infty)$	د	$(-4, \infty)$
الحل		(ب) المجال على محور x $[-4, \infty)$	

س٤٠٦ : ما قيمة المقدار $\log_3 13 - \log_3 5$ ؟

أ	$\log_5 13$	ب	$\log_3 \frac{13}{5}$	ج	$\log_{13} 5$	د	$\frac{13}{5}$
الحل							(ب)

س٤٠٧ : ما رتبة الحد الذي قيمته 7 في المتتابعة؟ $43, 39, 35, \dots$

أ	8	ب	9	ج	10	د	7
الحل							(ج)
$a_1 = 43, \quad a_n = 7, \quad d = -4$ $n = \frac{a_n - a_1}{d} + 1 = \frac{7 - 43}{-4} + 1 = \frac{-36}{-4} + 1 = 10$							

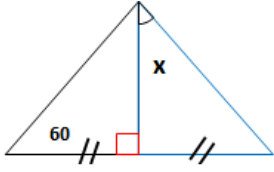
س٤٠٨ : إذا كانت هناك بوابة مقوسة بشكل قطع مكافئ $x^2 = 144y$ ،



وكان معلق في بؤرتها مصباح ، كم يبعد المصباح عن البوابة ؟

أ	144	ب	72	ج	36	د	12
الحل							(ج)
$a = \frac{144}{4} = 36 \quad \boxed{4a = 144}$							

س٤٠٩ : احسب قيمة x من الشكل المجاور



أ 75 ب 60 ج 45 د 30 الحل (ج) مثلث قائم ومتطابق الضلعين $x = 45$

س٤١٠ : اذا كانت $f(x) = 2x^n - 16$ فأوجد قيمة n التي تجعل الدالة تساوي صفرا عند $f(2)$

أ 3 ب 4 ج 2 د 1 الحل (أ)

$$f(2) = 2(2)^n - 16 = 0 \Rightarrow 2(2)^n = 16 \Rightarrow 2^n = 8 \Rightarrow n = 3$$

س٤١١ : ما هو النظير الضربي للمصفوفة التالية ؟ $\begin{bmatrix} 2 & -3 \\ 0 & 1 \end{bmatrix}$

أ $\begin{bmatrix} -2 & 3 \\ 0 & -1 \end{bmatrix}$ ب $\begin{bmatrix} 0.5 & 1.5 \\ 0 & 1 \end{bmatrix}$

ج $\begin{bmatrix} 1 & 3 \\ 0 & 1 \end{bmatrix}$ د $\begin{bmatrix} 1 & 3 \\ 0 & 2 \end{bmatrix}$ الحل (ب)

$$\begin{vmatrix} 2 & -3 \\ 0 & 1 \end{vmatrix} = 2 - 0 = 2 \Rightarrow \frac{1}{2} \begin{bmatrix} 1 & 3 \\ 0 & 2 \end{bmatrix} = \begin{bmatrix} 0.5 & 1.5 \\ 0 & 1 \end{bmatrix}$$

س٤١٢ : أوجد المعادلة التالية في أبسط صورة ؟ $\frac{2a^3}{25b} \div \frac{26}{10a^3} = ?$

أ $\frac{2a^6}{62b}$ ب $\frac{2a^6}{65b}$ ج $\frac{26}{125b}$ د $\frac{5a^6}{65}$ الحل (ب)

$$\frac{2a^3}{25b} \times \frac{10a^3}{26} = \frac{2a^6}{65b}$$

س ١٣ : ما معادلة المستقيم الذي ميله 2 ويمر بالنقطة (0, 8) ؟			
$Y = 2x - 4$	ج	$Y = 2x + 8$	أ
$Y = 2x + 4$	د	$Y = 2x - 8$	ب
الحل			(أ)
الميل $m = 2$ ، المقطع $b = 8$ $\rightarrow y = 2x + 8y = mx + b$			

س ١٤ : المقدار $\frac{\sin \theta}{\tan \theta}$ يكون سالباً في الربعين			
الأول والثاني	ب	الثاني والثالث	ج
الثالث والرابع	د	الرابع والأول	أ
الحل			(ب)
$\frac{\sin \theta}{\tan \theta} = \sin \theta \cdot \cot \theta = \sin \theta \frac{\cos \theta}{\sin \theta} : \frac{\sqrt{s} A}{\sqrt{t} c}$			

س ١٥ : إذا كانت $\sin \theta = 0.21$ فإن $\sin(\pi - \theta)$ تساوي ...			
0.79	د	0.21	ج
0	ب	-0.21	أ
الحل			(ج) $\sin(\pi - \theta) = \sin \theta = 0.21$

س ١٦ : $\cos 120^\circ$ تساوي			
$-\sqrt{2}$	د	$\frac{\sqrt{2}}{2}$	ج
$-\frac{1}{2}$	ب	$\frac{1}{2}$	أ
الحل			(ب) $\cos 120 = \cos(180 - 60) = -\cos 60 = -\frac{1}{2}$

س ١٧ : ما مقدار $\tan^2 \theta \sin^2 \theta$ ؟			
$\sin^2 \theta$	ج	$\cos^2 \theta$	أ
$\tan^2 \theta$	د	$\frac{\sin^4 \theta}{\cos^2 \theta}$	ب
الحل			(ب) $= \frac{\sin^4 \theta}{\cos^2 \theta} \tan^2 \theta \sin^2 \theta = \frac{\sin^2 \theta}{\cos^2 \theta} \cdot \sin^2 \theta$



س١٨ : طولا الضلعين القائمين في مثلث $\frac{x-1}{x-5}$ و $\frac{2x-2}{x-1}$ ومساحته 5 ، ما قيمة x ؟							
أ	1	ب	6	ج	$\frac{23}{3}$	د	$\frac{26}{4}$
(ب)							
الحل							
بتجربة الخيارات $\frac{5(2)}{2} = 5$ المساحة $\Rightarrow \frac{2(6)-2}{6-1} = 2$ ، $\frac{6-1}{6-5} = 5$							

س١٩ : أي الدوال المثلثية التالية سعتها 3 وطول دورتها 72° ؟			
أ	$y = 5\cos 3\theta$	ب	$y = 3\cos 5\theta$
ج	$y = 5\sin 3\theta$	د	$y = 3\tan 5\theta$
(ب)			
الحل			
طول الدورة $= \frac{360}{5} = 72^\circ$ ، السعة = معامل $\cos = 3$			

س٢٠ : قيمة x التي تجعل ميل المستقيم المار بالنقطتين $(1, 9)$ ، $(-x, -7)$ يساوي 4 ؟			
أ	2	ج	3
ب	16	د	9
(ج)			
الحل			
بالتجريب أو بتطبيق القانون $m = \frac{y_2 - y_1}{x_2 - x_1} = \frac{9 + 7}{1 + x} = 4 \Rightarrow \frac{16}{1 + x} = \frac{4}{1} \Rightarrow 1 + x = 4$ ، $x = 3$			

س٢١ : قيمة $\sin^{-1}(\cos 72^\circ)$ تساوي.....			
أ	72°	ب	18°
ج	38°	د	108°
(ب)			
الحل			
$\therefore \cos 72 = \sin 18 \Rightarrow \sin^{-1}(\sin 18) = 18^\circ$			

س٢٢ : إذا كان $\sin^{-1}(\cos x) = \frac{\pi}{6}$ ، فما قيمة x ؟			
أ	$\frac{\pi}{6}$	ب	$\frac{1}{2}$
ج	$\frac{\pi}{3}$	د	$\frac{\sqrt{3}}{3}$
(ج)			
الحل			
$\therefore \cos x = \sin\left(\frac{\pi}{2} - x\right) \Rightarrow \sin^{-1}\left(\sin\left(\frac{\pi}{2} - x\right)\right) = \frac{\pi}{6} \Rightarrow x = \frac{\pi}{3}$			



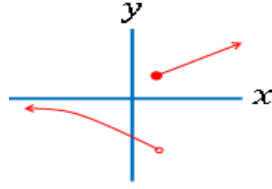
س ٤٢٣ : إذا كانت x تتغير عكسياً مع y وكانت قيمة $x = 24$ عندما $y = 4$, فما قيمة x عندما $y = 12$ ؟

أ	8	ج	72
ب	-8	د	2
الحل			(أ)
$x_1 y_1 = x_2 y_2$ $24 (4) = 12 x$ $x = \frac{24 (4)}{12} = 8$			

س ٤٢٤ : إذا كانت $f(x) = 2x^2 + 5x + 3$ فعند أي نقطة تقطع الدالة المحور y ؟

أ	(0, 3)	ب	(3, 0)	ج	(0, 2)	د	(0, -3)
الحل							(أ) $y = f(0) = 2(0) + 5(0) + 3 = 3 \Rightarrow (0, 3)$

س ٤٢٥ : التمثيل البياني المجاور ، يمثل



دالة غير متصلة ، ما نوع عدم الاتصال ؟

أ	لا نهائي	ب	قابل للإزالة	ج	قفزي	د	متصلة
الحل							(ج) عدم اتصال قفزي

س ٤٢٦ : تكتب المجموعة الآتية $-5 \leq x < -2$ باستخدام رمز الفترة كالتالي ؟

أ	$[-5, -2)$	ج	$(-5, -2)$
ب	$(-5, -2]$	د	$[-5, -2]$
الحل			(أ)
$-5 \leq x < -2 \Rightarrow [-5, -2)$ <p style="text-align: center;"> مغلق مفتوح </p>			

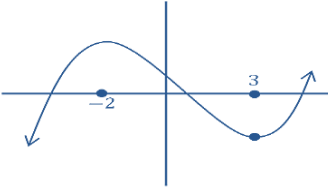
س٤٢٧ : الدالة $f(x) = x^5 + 3x^3 - x$ دالة.....

أ	فردية	ب	زوجية	ج	ليست فردية أو زوجية	د	فردية وزوجية
الحل (أ) لأن الأسس فردية ف + ف = فردية							

س٤٢٨ : إذا $f(x)$ دالة متصلة على R وكان لها قيمة صغرى محلية وحيدة عند $x = 3$ ، قيمة عظمى محلية وحيدة عند $x = -2$ ، فأى التالي صحيح ؟

أ	$\lim_{x \rightarrow -\infty} f(x) = -\infty$	ب	يوجد صفر للدالة في الفترة $[-2, 3]$
ج	القيمة العظمى المحلية $>$ القيمة الصغرى	د	الدالة زوجية

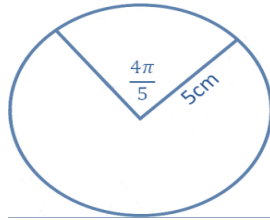
الحل (أ)



$\lim_{x \rightarrow -\infty} f(x) = -\infty$

س٤٢٩ : طول القوس المقابل

للزاوية بوحدة ال cm :



أ	2π	ج	4π
ب	3π	د	5π

الحل (ج)

$$S = r \theta^{rad}$$

✓ طول القوس

$$= 5 \left(\frac{4\pi}{5} \right) = 4\pi$$

$$\begin{bmatrix} 1 & 5 & 9 & 0 \\ 2 & 6 & 8 & 9 \\ 3 & 7 & 2 & 1 \end{bmatrix}$$

س٤٣٠ : ما رتبة المصفوفة التالية؟

أ	3×4	ب	4×3	ج	3×2	د	4×2
الحل (أ)							



قدرات
Ghasham23

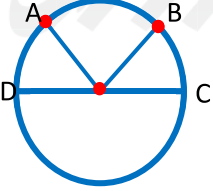


تحميلي
Ghasham22



قدرات وتحميلي
Ghasham_22

س ٤٣١ : أوجد طول المحور الأكبر في القطع الناقص التالي : $\frac{x^2}{25} + \frac{(y-1)^2}{16} = 1$			
أ	25	ج	4
ب	10	د	8
الحل			(ب)
$a^2 = 25$ ، $b^2 = 16$ $a = 5 \rightarrow 2a = 10$			

س ٤٣٢ : في الشكل المجاور اذا كان قياس $m\widehat{AB} = 2m\widehat{BC}$ ، $m\widehat{BC} = m\widehat{AD}$ فإن $m\widehat{AD}$ يساوي			
			
أ	45°	ب	90°
ج	60°	د	120°
الحل			(أ) $m(\widehat{AD}) = \frac{180}{4} = 45^\circ$

س ٤٣٣ : $(2i + 3i^2)^2$ يساوي			
أ	5 - 12i	ب	5 - 10i
ج	12 - 5i	د	7 - 12i
الحل			(أ) $(2i - 3)^2 = -4 - 12i + 9 = 5 - 12i$

س ٤٣٤ : النقطة (6 , 2) هي صورة النقطة (4 , 5) بإزاحة مقدارها :			
أ	(X + 2 , Y - 4)	ج	(X - 9 , Y + 5)
ب	(X - 2 , Y + 3)	د	(X + 2 , Y - 3)
الحل			(د) الإزاحة = الصورة - الأصل $= (6 - 4 , 2 - 5) = (2 , -3)$

س ٤٣٥ : بكم طريقة يمكن التبديل بين أربعة أشخاص يجلسون حول طاولة دائرية ؟			
أ	24	ب	12
ج	4	د	6
الحل			(د) $= (n - 1)! = 3! = 3(2)(1) = 6$ عدد الطرق



قدرات
Ghasham23

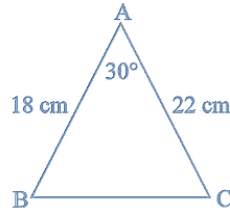


تحميمي
Ghasham22



قدرات وتحميمي
Ghasham_22

س٤٣٦ : كم مساحة المثلث ABC ؟



396

د

198

ج

270

ب

99

أ

$$A = \frac{1}{2} (22)(18) \sin 30 = 11(18) \left(\frac{1}{2}\right) = 99$$

الحل

س٤٣٧ : ما قيم x التي تجعل الدالة غير معرفة ؟ $f(x) = \frac{x+3}{(x+2)(x-5)}$

5, 2

ج

5, -2

أ

4, 5

د

3, 2

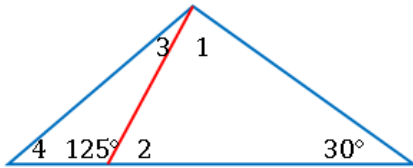
ب

$$(x+2)(x-5) = 0 \quad \text{المقام = صفر}$$

$$x = -2, x = 5$$

الحل

س٤٣٨ : ما أكبر زاوية مرقمة في الشكل المجاور ؟



4

د

2

ج

3

ب

1

أ

$$m\angle 2 = 55 \Rightarrow m\angle 1 = 180 - (55 + 30) = 95$$

الحل

س٤٣٩ : الزاوية التي تكون عندها $\cot \theta$ غير معرفة :

60

ج

0

أ

70

د

135

ب

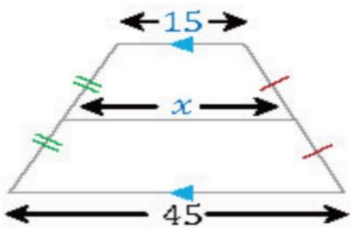
$$\cos 0 = 1, \sin 0 = 0$$

$$\cot 0 = \frac{\cos 0}{\sin 0} = \frac{1}{0} \text{ غير معرف}$$

الحل

س٤٤٠ : قيمة x إذا لم يكن للمصفوفة نظير ضربي $\begin{bmatrix} x+1 & x \\ -2 & 8 \end{bmatrix}$			
أ	$\frac{4}{5}$	ج	2
ب	$-\frac{4}{5}$	د	3
الحل (ب)			$8(x+1) - (-2)(x) = 0$ $8x + 8 + 2x = 0$ $10x = -8$ $x = -\frac{4}{5}$

س٤٤١ : ما مشتقة الدالة $f(x) = -2$ ؟							
أ	0	ب	2	ج	-2	د	-1
الحل (أ) مشتقة الثابت = صفر							

س٤٤٢ : ما قيمة x في الشكل المجاور؟							
							
أ	30	ب	25	ج	35	د	45
الحل (أ)							
$x = \frac{15 + 45}{2} = \frac{60}{2} = 30$							

س٤٤٣ : ما المثال المضاد للدالة التالية $\sin \theta - \cos \theta = 1$ ؟							
أ	0	ب	180	ج	90	د	-270
الحل (أ)							
$\sin 0 - \cos 0 = 0 - 1 = -1 \neq 1$							



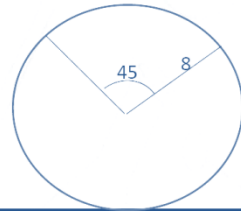
س٤٤٤: ما هي معادلة خطي التقارب في القطع الزائد التالي؟ $\frac{(y-1)^2}{9} - \frac{(x+2)^2}{16} = 1$			
$(y-1) = \pm \frac{9}{16}(x+2)$	ب	$(y-1) = \pm \frac{3}{4}(x+2)$	أ
$y-1 = \frac{4}{3}(x+2)$	د	$(y-1) = \pm \frac{16}{9}(x+2)$	ج
$(y-1) = \pm \frac{3}{4}(x+2)$			الحل (أ)

س٤٤٥: أوجد الدالة العكسية للدالة $f(x) = \frac{x-3}{4}$			
$4x-3$	ج	$3x-4$	أ
$4x+3$	د	$x+3$	ب
$f^{-1}(x) = \frac{4x+3}{1} = 4x+3$			الحل (د)
• نبدل 4 ب 1 ونغير إشارة 3			

س٤٤٦: ما ناتج قسمة $x^2 + x - 6$ على $x + 3$ ؟			
$x+3$	ج	$x-2$	أ
$x-3$	د	$x+2$	ب
$\begin{array}{r rrr} -3 & 1 & 1 & -6 \\ & & 3 & 6 \\ \hline & 1 & -2 & 0 \\ & & x-2 & \end{array}$			الحل (أ)

س٤٤٧: ما الإزاحة التي نقلت النقطة $(3, 1)$ إلى $(0, 5)$ ؟			
$(x+3, y-4)$	ب	$(x-3, y+4)$	أ
$(x+4, y-3)$	د	$(x-4, y+3)$	ج
$(3, 1) \rightarrow (3-3, 1+4) = (0, 5)$			الحل (أ)

س٤٤٨ : كم طول القوس المقابل للزاوية المركزية ؟



4π	ج	2π	أ
45	د	8π	ب
$s = r \theta^{rad} = 8 \cdot (45) \cdot \frac{\pi}{180} = 2\pi$ (أ)			الحل

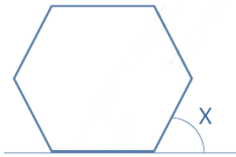
س٤٤٩ : ما قيمة x في التناسب ؟ $\frac{3x+4}{5} = \frac{2x-1}{3}$

25	د	20	ج	17	ب	12	أ
$5(2x - 1) = 3(3x + 4) \Rightarrow 10x - 5 = 9x + 12 \Rightarrow x = 17$							الحل (ب)

س٤٥٠ : أوجد أصفار الدالة : $X^3 - X = 0$

$X = -2, -1, 0$	ج	$X = -1, 0, 1$	أ
$X = -1, 0, 2$	د	$X = 0, 1$	ب
$x^3 - x = 0$ $x(x^2 - 1) = 0$ $x = 0 \quad x^2 = 1 \quad x = \pm 1$ $0, 1, -1$			الحل (أ)

س٤٥١ : اذا كان الشكل التالي يمثل سداسي منتظم ,



ما قياس الزاوية X ؟

45	ج	120	أ
175	د	60	ب
$x = \frac{360}{6} = 60^\circ$ (ب)			الحل

س ٤٥٢ : احسب قياس أي زاوية خارجية لمثلث متطابق الأضلاع...

أ	30°	ب	40°	ج	60°	د	120°
الحل							(د) $180 - 60 = 120$ = الخارجية

س ٤٥٣: أي مما يلي أحد عوامل كثيرة الحدود $f(x) = -x^3 + 4x^2 - x - 6$ ؟

أ	$x - 1$	ب	$x + 3$	ج	x	د	$x - 2$
الحل							(د) $f(2) = -8 + 4(4) - 2 - 6 = 16 - 16 = 0$

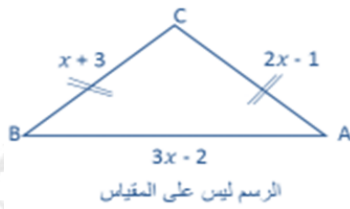
س ٤٥٤: إذا كان $\log_3 9^{2-x} = 0$ ، فما قيمة x ؟

أ	1	ب	2	ج	-1	د	-2
الحل							(ب) $\log_3 9^{2-2} = \log_3 1 = 0 \Rightarrow x = 2$ بالتجريب

س ٤٥٥: بسط العبارة: $\frac{(i-1)}{2i}$

أ	$\frac{1}{2} + \frac{1}{2}i$	ج	$\frac{1}{2} - \frac{1}{2}i$
ب	$\frac{1}{2}i$	د	$-\frac{1}{2}i$
الحل			
(أ)			
$\frac{i-1}{2i} \cdot \frac{2i}{2i} = \frac{2i^2 - 2i}{4i^2} = \frac{-2 - 2i}{-4}$ $= \frac{-2}{-4} - \frac{2i}{-4} = \frac{1}{2} + \frac{1}{2}i$			

س ٤٥٦: في الشكل المجاور: إذا كانت $CB = CA$ ، فما طول BA ؟



أ	4	ب	5	ج	8	د	10
الحل							(د) $2x - 1 = x + 3 \Rightarrow x = 4 \Rightarrow BA = 3(4) - 2 = 10$

س٤٥٧ : يستخدم اختبار المشتقة الثانية لتحديد النقاط العظمى و الصغرى لأي دالة $f(x)$ على النحو التالي
 إذا كانت $\frac{df(a)}{dx} = 0$ و $\frac{d^2f(a)}{dx^2} > 0$ فالدالة f لها نقطة صغرى عند a ، وإذا كانت $\frac{df(b)}{dx} = 0$ و $\frac{d^2f(b)}{dx^2} < 0$
 فالدالة f لها نقطة عظمى عند b . وبناء على ذلك ما قيمة x التي عندها العظمى والصغرى (على الترتيب)
 للدالة $f(x) = 2 + 3x - x^3$ ؟ (قراءة الخيارات من اليسار لليمين)

أ	+1, -1	ب	-1, +1	ج	-3, +3	د	+3, -3
---	--------	---	--------	---	--------	---	--------

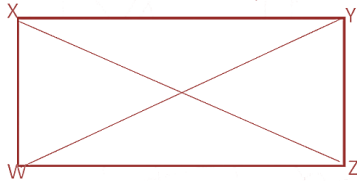
(أ)
 هذا السؤال يشرح لك طريقة الحل وهي أن توجد المشتقة الأولى للدالة ثم تساويها بالصفر لتحصل على القيم التي يتحقق عندها القيم القصوى للدالة ثم توجد المشتقة الثانية ونعوض فيها بالقيم التي حصلنا عليها سابقاً فإذا كان ناتج التعويض عدد موجب فإن القيمة هنا صغرى وإذا كان عدد سالب فإن القيمة هنا عظمى

$$f' = 3 - 3x^2 = 0 \Rightarrow x = \pm 1$$

$$f''(x) = -6x$$

قيمة عظمى $f''(1) = 6(1) = 6$

قيمة صغرى $f''(-1) = 6(-1) = -6$



س٤٥٨ : في الشكل أدناه إذا كان $WXYZ$ مستطيلاً فيه ،
 $XW = 6$, $WZ = 8$ ، فإن YW تساوي :

أ	10	ب	6
ج	14	د	48

(أ)
 الحل
 من ثلاثيات فيثاغورس 6 , 8 , 10
 $XZ = yw = 10$

س٤٥٩ : في زيارة لمعرض سيارات وجدنا ما يلي

2	الفئات	4	الألوان	3	انواع السيارات
---	--------	---	---------	---	----------------

ما عدد الخيارات الممكنة لشراء سيارة واحدة من هذا المعرض ؟

أ	7	ب	9	ج	12	د	24
---	---	---	---	---	----	---	----

(د)
 الحل
 مبدأ العد $= 3(4)(2) = 24$

س ٤٦٠ : أوجد الدالة العكسية للدالة $f(x) = \frac{4x-2}{5}$:			
$k(x) = \frac{2x-4}{5}$	ج	$k(x) = \frac{5}{4x-2}$	أ
$k(x) = \frac{5x+2}{4}$	د	$k(x) = \frac{4x+5}{2}$	ب
الحل (د) بدل 5 ب 4 وغير إشارة 2			$f^{-1}(x) = \frac{5x+2}{4}$

س ٤٦١ : ما العدد الذي يكافئ $\frac{2}{5}$ ويكون حاصل ضرب بسطه في مقامه 90 ؟			
$\frac{2}{45}$	د	$\frac{4}{20}$	ج
$\frac{6}{15}$	ب	$\frac{30}{60}$	أ
الحل (ب)			$\frac{6}{15} \div 3 = \frac{2}{5}$ ، $6(15) = 90$

س ٤٦٢ : المقدار $2 \log_5 x - \log_5(2x-5)$ يساوي :			
$\log_5 \frac{x^2}{2x-5}$	ج	$\log_5 \frac{5}{2x-5}$	أ
$\log_5 \frac{x}{2x+5}$	د	$\log_5 \frac{2x-5}{x^2}$	ب
الحل (ج)			$= \log_5 x^2 - \log_5(2x-5)$ نرفع الأس $= \log_5 \left(\frac{x^2}{2x-5} \right)$ نقسم

س ٤٦٣ : ما محيط المثلث ABC المجاور؟			
30	د	36	ج
32	ب	24	أ
الحل (د)			$\Delta ABC \sim \Delta ADB \Rightarrow \frac{\text{محيط } ABC}{\text{محيط } ADB} = \frac{AB}{AD} \Rightarrow \text{محيط } ABC = \frac{24(10)}{8} = 30$

س٤٦٤ : أوجد متوسط معدل التغير للدالة $x^2 - 4x + 6$ في الفترة $[0, 6]$:

أ	6	ج	2
ب	24	د	10
الحل			(ج)
$m_{sec} = \frac{f(x_2) - f(x_1)}{x_2 - x_1} = \frac{18 - 6}{6 - 0} = \frac{12}{6} = 2$			

<p>س٤٦٥ : في الشكل المجاور ، شبه منحرف $AMTL$ متطابق الساقين ، ما إحداثيات النقطة M ؟</p>			
أ	$(a + b, c)$	ب	$(c, a + b)$
ج	$(b - a, c)$	د	$(c, b - a)$
الحل			(أ) $M = (a + b, c)$

<p>س٤٦٦ : إذا كانت $270^\circ < \theta < 360^\circ$ و $\cos \theta = \frac{1}{3}$ ، فإن القيمة الدقيقة لـ $\sin \theta$ هي :</p>			
أ	$\frac{2\sqrt{2}}{3}$	ب	$-\frac{2\sqrt{2}}{3}$
ج	$\pm \frac{2\sqrt{2}}{3}$	د	$-\frac{3\sqrt{2}}{2}$
الحل			(ب) $\Rightarrow \sin \theta = -\frac{2\sqrt{2}}{3}$ في الربع \ominus

<p>س٤٦٧ : إذا كان $fog = 3x, f(x) = x$ ، أوجد $g(x)$ ؟</p>			
أ	$\sqrt{3x}$	ج	$3x$
ب	$\frac{1}{3x}$	د	$3x + 4$
الحل			(ج) * إذا كانت $f(x) = x$ الدالة المحايدة $(fog)(x) = g(x) = 3x$



قدرات
Ghasham23

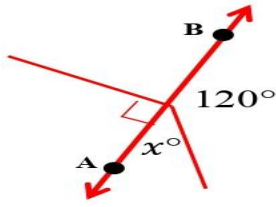


تحميلي
Ghasham22



قدرات وتحميلي
Ghasham_22

س٤٦٨ : في الشكل المجاور \overleftrightarrow{AB} مستقيم , ما قيمة x ؟



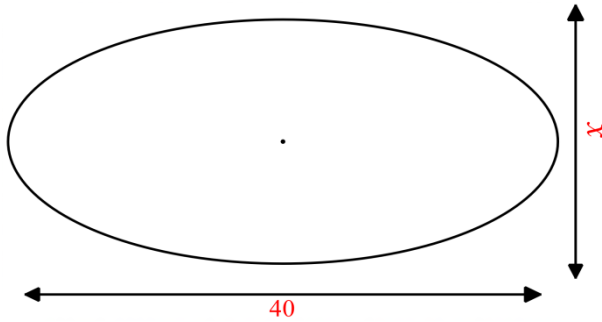
أ	40	ب	60	ج	70	د	80	
الحل							(ب) $x = 180 - 120 = 60$	

س٤٦٩ : أوجد الحد التالي في المتتابعة $16, 4, 1, \dots$:

أ	$\frac{1}{4}$	ج	$\frac{1}{2}$
ب	$\frac{1}{16}$	د	$\frac{1}{32}$
الحل			(أ) \bullet متتابعة هندسية نقسم على 4 $\leftarrow r = \frac{16}{4} = 4 \leftarrow \frac{1}{4} =$ الحد التالي

س٤٧٠ : يوضح الشكل المجاور شكل قطع ناقص ،

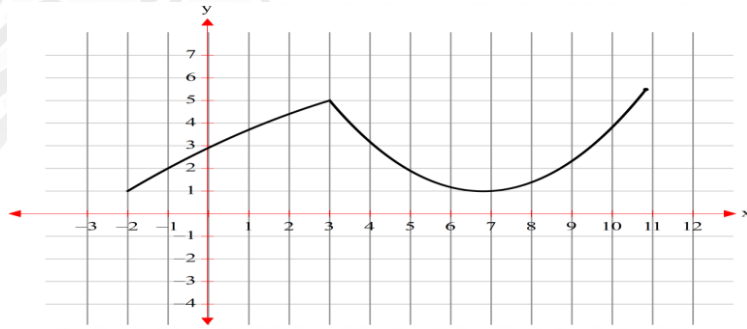
إختلافه المركزي 0.5 أوجد قيمة x :



أ	$10\sqrt{3}$	ب	$20\sqrt{3}$
ج	$3\sqrt{20}$	د	$3\sqrt{10}$
الحل			(أ) $40 = 2a$ ، $x = 2b$ $a = 20$ ، $e = \frac{c}{a} = 0.5 \rightarrow c = (0.5)(20) = 10$ $b = \sqrt{a^2 - c^2} = \sqrt{400 - 100} = \sqrt{300} = 10\sqrt{3}$ $x = 2b = 20\sqrt{3}$

س٤٧١ : إذا كانت الدالة $f(x)$ متصلة في الفترة $[-2,10]$ ومتزايدة في $(7, 10) \cup (-2, 3)$ ومتناقصة في $(3,7)$ ، فإن $f(x)$ لها قيمة عظمى محلية عند $x = \dots$:

أ	3	ب	7
ج	10	د	-2



الحل

س٤٧٢ : المعادلة الديكارتية $x=2$ بالصيغة القطبية هي:

أ	$r = 2 \cos \theta$	ب	$r = 2 \sin \theta$
ج	$r = 2 \sec \theta$	د	$r = 2 \tan \theta$

الحل (ج) $\rightarrow r \cos \theta = 2 \rightarrow r = \frac{2}{\cos \theta} = 2 \sec \theta$

س٤٧٣ : ما قيمة $\lim_{x \rightarrow \infty} \frac{x^2+1}{x-8}$ ؟

أ	$-\infty$	ب	0
ج	1	د	∞

الحل (د) لأن درجة البسط < درجة المقام $\lim_{x \rightarrow \infty} \frac{x^2}{x} = \lim_{x \rightarrow \infty} x = \infty$

س٤٧٤ : ما حل المتباينة $5 + \sqrt[3]{2x+4} \geq 7$ ؟

أ	$x \geq 7$	ب	$x \geq 14$
ج	$x \geq -2$	د	$x \geq 2$

الحل (د) $\sqrt[3]{2x+4} \geq 7-5$ ثم بتكعيب الطرفين $2x+4 \geq 8$
 $2x \geq 4 \Rightarrow x \geq 2$

س٤٧٥ : ما قيمة $x + y$ للمعادلة $\begin{bmatrix} -1 & 1 \\ -2 & 1 \end{bmatrix} \times \begin{bmatrix} x \\ y \end{bmatrix} = \begin{bmatrix} 3 \\ 6 \end{bmatrix}$ ؟			
أ	1	ب	-1
ج	-3	د	3
الحل			(ج)
<p>نظير ضربى -1 بحل معادلة المصفوفة $\begin{bmatrix} x \\ y \end{bmatrix} = \begin{bmatrix} -1 & 1 \\ -2 & 1 \end{bmatrix}^{-1} \times \begin{bmatrix} 3 \\ 6 \end{bmatrix}$ $= \begin{bmatrix} -1 & 1 \\ -2 & 1 \end{bmatrix}^{-1} \times \begin{bmatrix} 3 \\ 6 \end{bmatrix} = \begin{bmatrix} -3 \\ 0 \end{bmatrix}$ $x = -3$, $y = 0 \rightarrow x + y = -3 + 0 = -3$</p>			

س٤٧٦ : ما النقطة التي إحداثياتها $(1, \sqrt{3})$ علي المستوي القطبي؟			
أ	t	ب	n
ج	z	د	f
الحل			(ب)
<p>$r = \sqrt{1^2 + (\sqrt{3})^2} = 2$ $\theta = \tan^{-1}(\sqrt{3}) = 60^\circ$ • علي خط الزاوية 60° الدائرة رقم 2</p>			

س٤٧٧ : عين مجال الدالة $f(x) = \log \sqrt{x^2 - 4}$			
أ	$\{x \mid x \in R - [-2, 2]\}$	ب	$\{x \mid x \in R - (-2, 2)\}$
ج	$\{x \mid x \in R - [-2, 2]\}$	د	$\{x \mid x \in R - (-2, 2)\}$
الحل			(أ)
<p>$\sqrt{x^2 - 4} > 0 \rightarrow x^2 - 4 > 0$ $x > 2 \rightarrow x \in (-\infty, -2) \cup (2, \infty)$ أو $x \in R - [-2, 2]$</p>			



قدرات
Ghasham23



تحميبي
Ghasham22



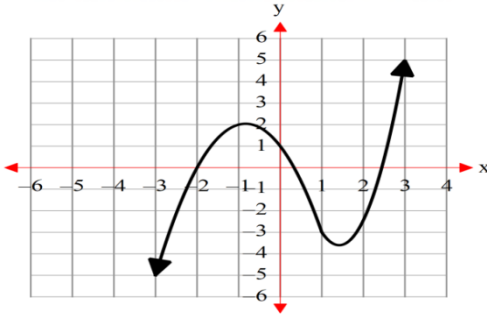
قدرات وتحميبي
Ghasham_22

س٤٧٨ : ما قيمة $10 \log_{1000}$ ؟

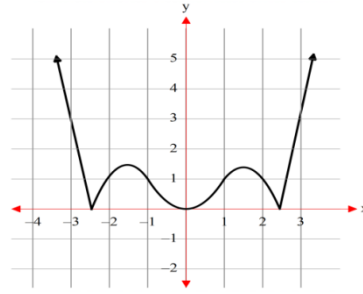
أ	3	ب	$\frac{1}{3}$
ج	$-\frac{1}{3}$	د	-3
الحل			<p>(ب) $x = \frac{1}{3} \log_{1000} 10 = x$ $\rightarrow \therefore 3x = 1 \rightarrow 10^{3x} = 10 \rightarrow 1000^x = 10$</p>

س٤٧٩: إذا كانت $f(x)$ هي الدالة الممثلة بالمنحني المجاور،

فإن منحنى الدالة $g(x) = |f(x)|$ هو :

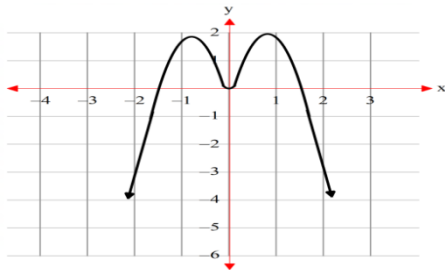


ب

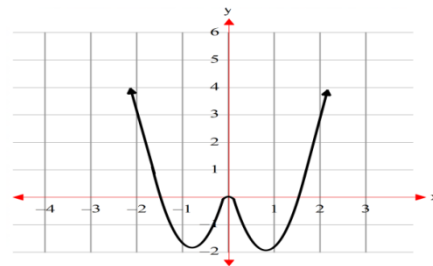


أ

د



ج



(أ)

١- انعكاس للجزء أسفل محور X حول محور X
٢- حذف الجزء أسفل محور X بعد الانعكاس
أو استبعاد الأشكال التي لها أجزاء أسفل محور X

الحل

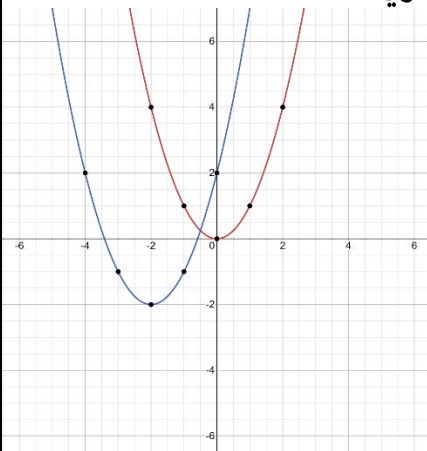
س٤٨٠: إذا كانت $f(x) = \begin{cases} 2x^2 + a & , x \geq 2 \\ x + 5 & , x < 2 \end{cases}$ ، فما قيمة الثابت a التي تجعل الدالة متصلة عند $x = 2$ ؟

أ	-1	ب	1
ج	-2	د	3
الحل		(أ)	
		يسار	
		يمين	
		$f(2)^+ = f(2)^-$ $2(2)^2 + a = 2 + 5$ $8 + a = 7$ $a = 7 - 8 = -1$	

س٤٨١: إذا كان $u = \langle \sqrt{3}, 1 \rangle$ ، $v = \langle 0, 4 \rangle$ ، ما قياس الزاوية θ بين المتجهين u ، v ؟

أ	30°	ب	60°
ج	120°	د	240°
الحل		(ب)	
		$\cos \theta = \frac{u \cdot v}{ u \cdot v } = \frac{4}{\sqrt{4} \cdot \sqrt{16}} = \frac{1}{2} \rightarrow \theta = 60^\circ$	

س٤٨٢: إذا كانت $f(x)$ هي الدالة الأم لـ $g(x)$ وكانت $f(x) = x^2$ فإن $g(x)$ تساوي



أ	$x^2 + 2$	ب	$x^2 - 2$
ج	$x^2 + 4x + 2$	د	$x^2 - 4x + 2$
الحل		(ج)	
		$g(x) = (x + 2)^2 - 2$ انسحاب وحدتين الى اليسار ثم وحدتين الى أسفل	



قدرات
Ghasham23



تحميلي
Ghasham22



قدرات وتحميلي
Ghasham_22

س ٤٨٣ : المقدار $\int_2^6 \frac{x^2}{x^2-1} dx - \int_2^6 \frac{1}{x^2-1} dx + \int_2^6 \frac{1}{2} dx$ يساوي

2022

٤

ب

٢

أ

لا يمكن إيجادها

د

2022

2022

2022

٦

ج

(ج)

$$\begin{aligned}
 &= \int_2^6 \left(\frac{x^2}{x^2-1} - \frac{1}{x^2-1} + \frac{1}{2} \right) dx \\
 &= \int_2^6 \left(\frac{x^2-1}{x^2-1} + \frac{1}{2} \right) dx \\
 &= \int_2^6 \frac{3}{2} dx = \frac{3}{2} x \Big|_2^6 = (9) - (3) = 6
 \end{aligned}$$

الحل

2022

2022

2022

2022

2022

2022

2022



قدرات
Ghasham23



تحميلي
Ghasham22



قدرات وتحميلي
Ghasham_22

2022

اختبار الكتروني محاي لأهم ١٣٠ سؤال لمادة الرياضيات
من تجميع أ. غشام
اضغط على شعار القناة للانتقال إلى رابط الاختبار



قدرات
Ghasham23

تحصيلي
Ghasham22

قدرات وتحصيلي
Ghasham_22

دعواتكم لوالدي بالمغفرة والرحمة ولجميع موتى المسلمين

2022

قدرات
Ghasham23

تحصيلي
Ghasham22

قدرات وتحصيلي
Ghasham_22

١٤٣